



Question Paper Preview

Notations :

- Options shown in **green** color and with  icon are correct.
- Options shown in **red** color and with  icon are incorrect.

Question Paper Name:	TGT SOCIAL SCIENCE FEMALE 14th Nov 2018 Shift 1
Subject Name:	TGT SOCIAL SCIENCE FEMALE
Creation Date:	2018-11-14 12:51:04
Duration:	120
Total Marks:	200
Display Marks:	Yes
Share Answer Key With Delivery Engine:	Yes
Actual Answer Key:	Yes
Calculator:	None
Magnifying Glass Required?:	No
Ruler Required?:	No
Eraser Required?:	No
Scratch Pad Required?:	No
Rough Sketch/Notepad Required?:	No
Protractor Required?:	No
Show Watermark on Console?:	No
Highlighter:	No
Auto Save on Console?:	No

Mental Ability

Group Number :	1
Group Id :	1626531
Group Maximum Duration :	0
Group Minimum Duration :	0
Revisit allowed for view? :	No
Revisit allowed for edit? :	No
Break time:	0
Group Marks:	20
Revisit allowed for group Instructions? :	Yes
Maximum Instruction Time:	0
Minimum Instruction Time:	0

Mental Ability

Section Id :	1626531
Section Number :	1
Section type :	Online
Mandatory or Optional:	Mandatory
Number of Questions:	20
Number of Questions to be attempted:	20
Section Marks:	20

Display Number Panel:

Yes

Group All Questions:

No

Sub-Section Number:

1

Sub-Section Id:

1626531

Question Shuffling Allowed :

Yes

Question Number : 1 Question Id : 1626531 Question Type : MCQ Option Shuffling : Yes Display Question Number : Yes Single Line Question Option : No Option Orientation : Vertical

Correct Marks : 1 Wrong Marks : 0.25

Select the odd pair from the following.

Options :

1. ✓ Austria : Beijing

2. ✗ Canada : Ottawa

3. ✗ Japan : Tokyo

4. ✗ Cuba : Havana

Question Number : 1 Question Id : 1626531 Question Type : MCQ Option Shuffling : Yes Display Question Number : Yes Single Line Question Option : No Option Orientation : Vertical

Correct Marks : 1 Wrong Marks : 0.25

नीचे दिए गए विकल्प से विषम विकल्प का चयन करें।

Options :

1. ✓ ऑस्ट्रिया : बीजिंग

2. ✗ कनाडा : ओटावा

3. ✗ जापान : टोक्यो

4. ✗ क्यूबा : हवाना

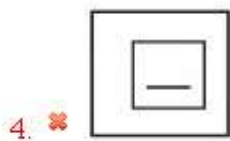
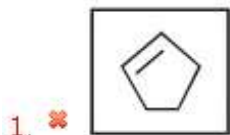
Question Number : 2 Question Id : 1626532 Question Type : MCQ Option Shuffling : Yes Display Question Number : Yes Single Line Question Option : No Option Orientation : Vertical

Correct Marks : 1 Wrong Marks : 0.25

Identify the image from options that is similar to the below set of figures.



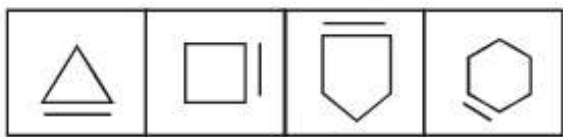
Options :



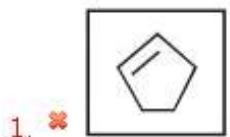
Question Number : 2 Question Id : 1626532 Question Type : MCQ Option Shuffling : Yes Display Question Number : Yes Single Line Question Option : No Option Orientation : Vertical

Correct Marks : 1 Wrong Marks : 0.25

नीचे दिए गए सेट में आकृतियों के समान विकल्प छवि की पहचान करे



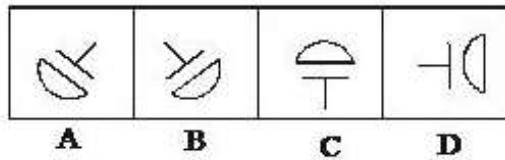
Options :



Question Number : 3 Question Id : 1626533 Question Type : MCQ Option Shuffling : Yes Display Question Number : Yes Single Line Question Option : No Option Orientation : Vertical

Correct Marks : 1 Wrong Marks : 0.25

Given below are a few images. Identify the odd image among the options.



Options :

1. ✖ A

2. ✖ B

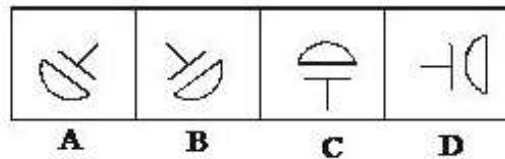
3. ✖ C

4. ✔ D

Question Number : 3 Question Id : 1626533 Question Type : MCQ Option Shuffling : Yes Display Question Number : Yes Single Line Question Option : No Option Orientation : Vertical

Correct Marks : 1 Wrong Marks : 0.25

नीचे कुछ छवियां दी गई हैं। विकल्पों के बीच सबसे अलग छवि की पहचान करें।



Options :

1. ✖ A

2. ✖ B

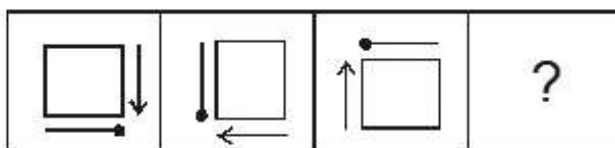
3. ✖ C

4. ✔ D

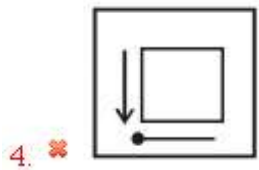
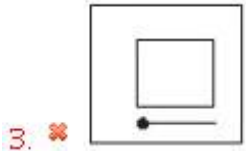
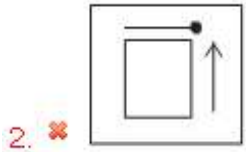
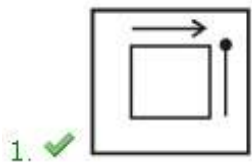
Question Number : 4 Question Id : 1626534 Question Type : MCQ Option Shuffling : Yes Display Question Number : Yes Single Line Question Option : No Option Orientation : Vertical

Correct Marks : 1 Wrong Marks : 0.25

What will come in place of question mark in the below series?



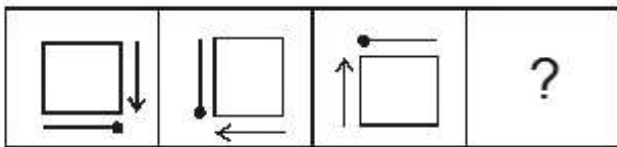
Options :



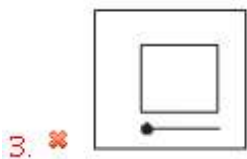
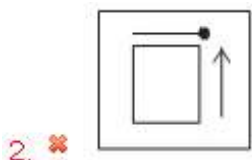
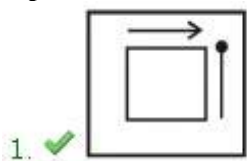
Question Number : 4 Question Id : 1626534 Question Type : MCQ Option Shuffling : Yes Display Question Number : Yes Single Line Question Option : No Option Orientation : Vertical

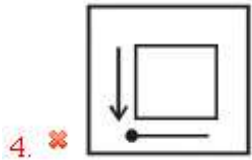
Correct Marks : 1 Wrong Marks : 0.25

नीचे श्रृंखला में प्रश्न चिह्न के स्थान पर क्या आएगा?



Options :

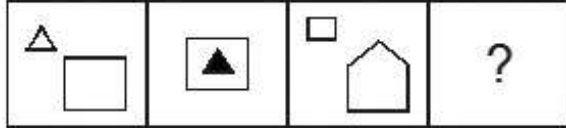




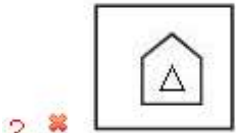
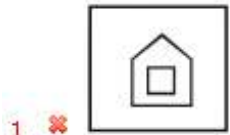
Question Number : 5 Question Id : 1626535 Question Type : MCQ Option Shuffling : Yes Display Question Number : Yes Single Line Question Option : No Option Orientation : Vertical

Correct Marks : 1 Wrong Marks : 0.25

What will come in place of question mark in the below series?



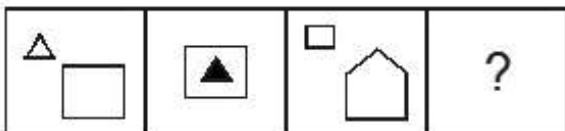
Options :



Question Number : 5 Question Id : 1626535 Question Type : MCQ Option Shuffling : Yes Display Question Number : Yes Single Line Question Option : No Option Orientation : Vertical

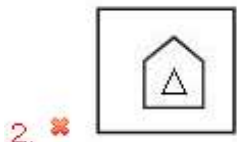
Correct Marks : 1 Wrong Marks : 0.25

नीचे श्रृंखला में प्रश्न चिह्न के स्थान पर क्या आएगा?



Options :

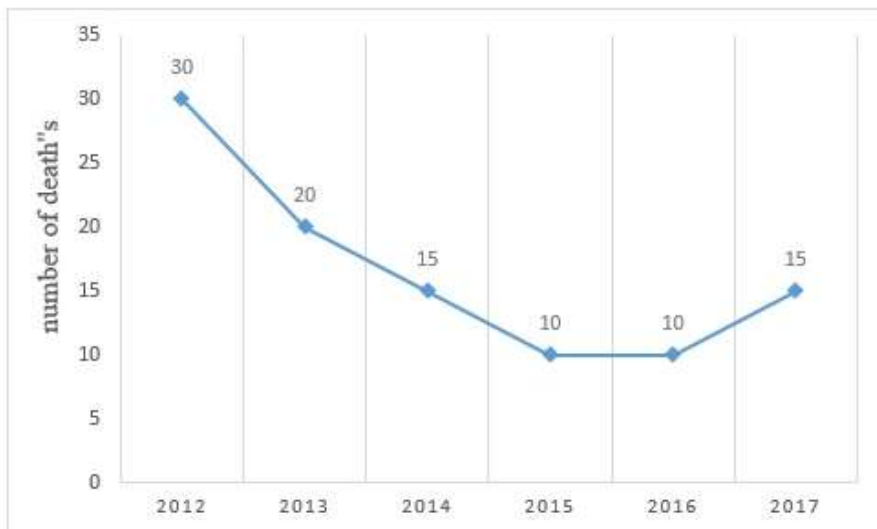




Question Number : 6 Question Id : 1626536 Question Type : MCQ Option Shuffling : Yes Display Question Number : Yes Single Line Question Option : No Option Orientation : Vertical

Correct Marks : 1 Wrong Marks : 0.25

The following graph shows information about the death rate because of dengue fever in a tribal village 'Z' for the past 6 years.



During which period the death rate due to dengue fever has increased?

Options :

1. ✖ 2015-2016

2. ✔ 2016-2017

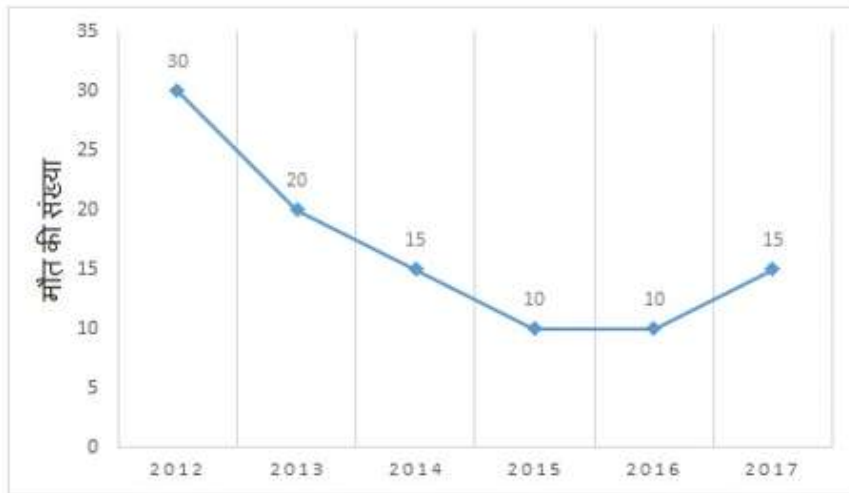
3. ✖ 2014-2015

4. ✖ 2012-2014

Question Number : 6 Question Id : 1626536 Question Type : MCQ Option Shuffling : Yes Display Question Number : Yes Single Line Question Option : No Option Orientation : Vertical

Correct Marks : 1 Wrong Marks : 0.25

निम्नलिखित ग्राफ में पिछले 6 वर्षों से जनजातीय गांव 'Z' में डेंगू बुखार की वजह से मृत्यु दर के बारे में जानकारी दी गई है।



किस अवधि के दौरान डेंगू बुखार के कारण मृत्यु दर में वृद्धि हुई है?

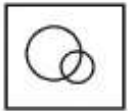
Options :

1. ✖ 2015-2016
2. ✔ 2016-2017
3. ✖ 2014-2015
4. ✖ 2012-2014

Question Number : 7 Question Id : 1626537 Question Type : MCQ Option Shuffling : Yes Display Question Number : Yes Single Line Question Option : No Option Orientation : Vertical

Correct Marks : 1 Wrong Marks : 0.25

Spot the option figure that has the below figure embedded as part of it.



Options :



3. ✖



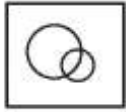
4. ✖



Question Number : 7 Question Id : 1626537 Question Type : MCQ Option Shuffling : Yes Display Question Number : Yes Single Line Question Option : No Option Orientation : Vertical

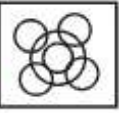
Correct Marks : 1 Wrong Marks : 0.25

आकृति में विकल्प आकृति को चिन्हित करें जिसे नीचे दी गई आकृति में सन्निहत किया गया है।




Options :


1. ✔



2. ✖



3. ✖



4. ✖



Question Number : 8 Question Id : 1626538 Question Type : MCQ Option Shuffling : Yes Display Question Number : Yes Single Line Question Option : No Option Orientation : Vertical

Correct Marks : 1 Wrong Marks : 0.25

Study the following information carefully and answer the given questions.

For a recruitment process in an ACCOUNTING organization, the candidates need to possess the following qualifications criteria:

- i) He/she must be a graduate in commerce with at least 60% marks.
- ii) He/she must be at least 24 years of age and not more than 40 years as on 1-7-2016.
- iii) He/she must have a post-qualification work experience of at least 2 years.
- iv) He/she should have secured 55% marks in the selection process.

However, if the candidate fulfills the above-mentioned criteria except:

(A) at (i), and if the candidate is not a graduate in commerce but has a post-graduation degree in finance with minimum of 60% marks, he/she should be referred to the Finance Manager of the organization.

(B) at (iii), and if the candidate fulfills all the eligibility criteria of post-qualification work experience but has secured 75% marks in the selection process, he/she may be referred to the Trainee Accountant.

Based on the above information, study carefully whether following candidates are eligible for the recruitment process and mark your answer as follows. You are not to assume anything other than the information provided in each question. All the cases are given to you as on 1-7-2016.

Snehlata's date of birth is 6.2.1990. She has done her graduation and post-graduation in Commerce and secured 61% and 63% marks respectively. She has a post-qualification work experience as a Senior Accountant of 3.5 years. She has secured 58.5% marks in the selection process.

Options :

- 1. ☒ The candidate is to be selected
- 2. ☐ The candidate is not to be selected
- 3. ☐ The candidate may be referred to the Finance Manager
- 4. ☐ The candidate may be referred to the Trainee Accountant

Question Number : 8 Question Id : 1626538 Question Type : MCQ Option Shuffling : Yes Display Question Number : Yes Single Line Question Option : No Option Orientation : Vertical

Correct Marks : 1 Wrong Marks : 0.25

नीचे दी गई जानकारी को ध्यानपूर्वक पढ़ें और दिए गए प्रश्नों का उत्तर दें।

एक लेखा संगठन में भर्ती प्रक्रिया के लिए, उम्मीदवारों के लिए निम्नलिखित योग्यता मानदंड की आवश्यकता है:

- i) न्यूनतम 60% अंकों के साथ वाणिज्य में स्नातक।
- ii) 1-7-2016 को उम्र कम से कम 24 साल और 40 साल से अधिक नहीं।
- iii) उम्मीदवारों को शिक्षा के बाद कम से कम 2 वर्ष का कार्य अनुभव होना चाहिए।
- iv) उन्हें चयन प्रक्रिया में 55% अंक प्राप्त करना चाहिए था।

हालांकि, यदि उम्मीदवार उपर्युक्त मानदंडों को पूरा करता है तो इसे छोड़कर:

(A) (i) के मामले में यदि उम्मीदवार वाणिज्य में स्नातक नहीं है लेकिन उसके पास वित्त में 60% अंक के साथ स्नातकोत्तर की डिग्री है, उसे संस्थान के वित्त प्रबंधन के लिए संदर्भित करना चाहिए।

(B) (iii) के मामले में यदि उम्मीदवार शिक्षा के बाद कम से कम 2 वर्ष का कार्य अनुभव के पात्रता मापदंड को पूरा करता है, इतना ही नहीं वह चयन प्रक्रिया में 75% अंक अर्जित किया है, उसे प्रशिक्षु अकाउंटेंट के लिए संदर्भित किया जा सकता है।

उपरोक्त सूचना के आधार पर ध्यानपूर्वक देखें कि निम्नलिखित उम्मीदवार चयन प्रक्रिया में पात्र हैं और अपने उत्तर नीचे अंकित करें। आपको नीचे हर प्रश्न दी गई सूचना के अलावा कुछ और नहीं सोचना है। आपको दिए गए सभी मामले 1-7-2016 के हैं।

स्नेहालता की जन्म तिथि 6.2.1909 है। उसने वाणिज्य में स्नातक और स्नातकोत्तर की पढ़ाई की है और क्रमशः 61% और 63% अंक प्राप्त किए हैं। उसके पास 3.5 साल के वरिष्ठ अकाउंटेंट के रूप में काम करने का अनुभव है। उसने चयन प्रक्रिया में 58.5% अंक हासिल किए हैं।

Options :

1. ✓ उम्मीदवार का चयन किया जाना चाहिए
2. ✗ उम्मीदवार का चयन नहीं किया जाना चाहिए
3. ✗ उम्मीदवार को वित्त प्रबंधक के लिए संदर्भित किया जा सकता है
4. ✗ उम्मीदवार को प्रशिक्षु अकाउंटेंट के लिए संदर्भित किया जा सकता है

Question Number : 9 Question Id : 1626539 Question Type : MCQ Option Shuffling : Yes Display Question Number : Yes Single Line Question Option : No Option Orientation : Vertical

Correct Marks : 1 Wrong Marks : 0.25

You encounter an angry customer at shopping mall quarreling with the staff of the store for unhygienic products. What will be your most appropriate step?

Options :

1. ✗ Carry on with your work
2. ✗ Make an agitation and provoke all the customers to walk out of store
3. ✗ Throw out all the products of the mall
4. ✓ Bring the information to the notice of the mall authorities to take necessary action about hygiene of their products

Question Number : 9 Question Id : 1626539 Question Type : MCQ Option Shuffling : Yes Display Question Number : Yes Single Line Question Option : No Option Orientation : Vertical

Correct Marks : 1 Wrong Marks : 0.25

शॉपिंग मॉल में आपका सामना किसी अस्वास्थ्यकर उत्पादों के लिए शॉप के कर्मचारियों के साथ झगड़ा करते हुए एक गुस्सेल ग्राहक से होता है। आपका सबसे उचित कदम क्या होगा?

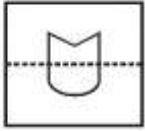
Options :

1. ✗ अपना काम करते रहना चाहिए
2. ✗ एक आंदोलन करना चाहिए और सभी ग्राहकों को स्टोर से बाहर निकलने के लिए उकसाना चाहिए
3. ✗ मॉल के सभी उत्पादों को फेंक देना चाहिए
4. ✓ अस्वास्थ्यकर उत्पाद के लिए आवश्यक कार्रवाई करने के लिए घटना मॉल अधिकारियों के नोटिस को जानकारी लानी चाहिए

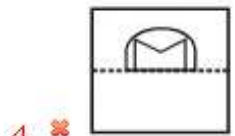
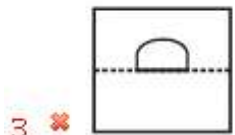
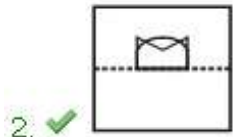
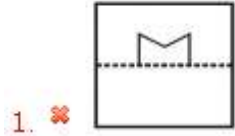
Question Number : 10 Question Id : 16265310 Question Type : MCQ Option Shuffling : Yes Display Question Number : Yes Single Line Question Option : No Option Orientation : Vertical

Correct Marks : 1 Wrong Marks : 0.25

If the transparent paper is folded at the dotted line, what will be the resulting figure?



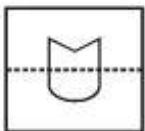
Options :



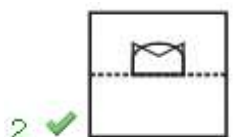
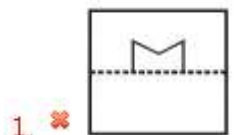
Question Number : 10 Question Id : 16265310 Question Type : MCQ Option Shuffling : Yes Display Question Number : Yes Single Line Question Option : No Option Orientation : Vertical

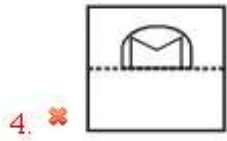
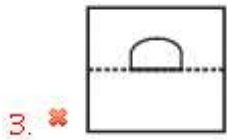
Correct Marks : 1 Wrong Marks : 0.25

यदि पारदर्शी कागज बिंदीदार रेखा पर मोड़ दिया जाता है, तो परिणाम आकृति क्या होगी?



Options :





Question Number : 11 Question Id : 16265311 Question Type : MCQ Option Shuffling : Yes Display Question Number : Yes Single Line Question Option : No Option Orientation : Vertical

Correct Marks : 1 Wrong Marks : 0.25

Identify the most appropriate option.

A computer must have:

Options :

1. ✔ Processor
2. ✖ Gaming consoles
3. ✖ Printer
4. ✖ CD/DVD player

Question Number : 11 Question Id : 16265311 Question Type : MCQ Option Shuffling : Yes Display Question Number : Yes Single Line Question Option : No Option Orientation : Vertical

Correct Marks : 1 Wrong Marks : 0.25

सबसे उपयुक्त विकल्प की पहचान करें।

एक कंप्यूटर में क्या होना चाहिए?

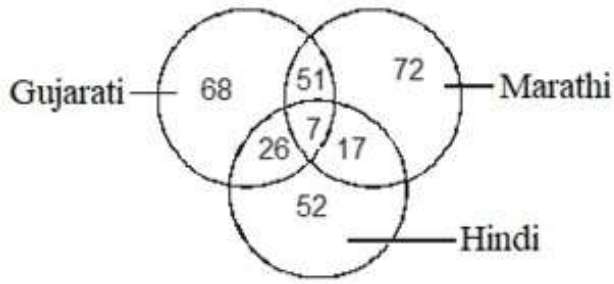
Options :

1. ✔ प्रॉसेसर
2. ✖ गेमिंग कंसोल
3. ✖ प्रिंटर
4. ✖ सी.डी./डी.वी.डी. प्लेयर

Question Number : 12 Question Id : 16265312 Question Type : MCQ Option Shuffling : Yes Display Question Number : Yes Single Line Question Option : No Option Orientation : Vertical

Correct Marks : 1 Wrong Marks : 0.25

Study the following Venn diagram carefully and answer the question.



How many persons speak only two languages?

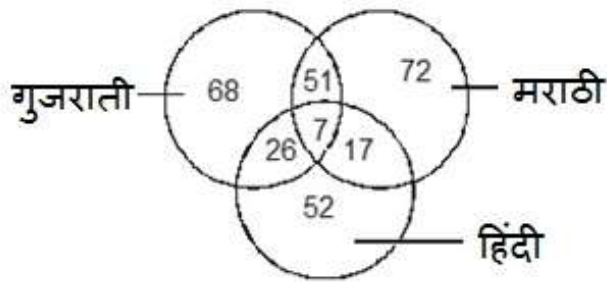
Options :

1. ✖ 68
2. ✖ 52
3. ✖ 72
4. ✔ 94

Question Number : 12 Question Id : 16265312 Question Type : MCQ Option Shuffling : Yes Display Question Number : Yes Single Line Question Option : No Option Orientation : Vertical

Correct Marks : 1 Wrong Marks : 0.25

निम्नलिखित वेन आरेख ध्यानपूर्वक अध्ययन करें और प्रश्न का उत्तर दें।



कितने लोग केवल दो भाषा बोलते हैं?

Options :

1. ✖ 68
2. ✖ 52
3. ✖ 72
4. ✔ 94

Question Number : 13 Question Id : 16265313 Question Type : MCQ Option Shuffling : Yes Display Question Number : Yes Single Line Question Option : No Option Orientation : Vertical

Correct Marks : 1 Wrong Marks : 0.25

Sadhana introduces Ramu as "The son of the brother of her father's wife". How is Ramu related to Sadhana?

Options :

1. ☒ Cousin
2. ☐ Uncle
3. ☐ Father
4. ☐ Son

Question Number : 13 Question Id : 16265313 Question Type : MCQ Option Shuffling : Yes Display Question Number : Yes Single Line Question Option : No Option Orientation : Vertical

Correct Marks : 1 Wrong Marks : 0.25

साधना ने रामू का परिचय "अपने पिता की पत्नी के भाई के पुत्र" के रूप में कराया। रामू साधना से कैसे संबंधित हैं?

Options :

1. ☒ चचेरा/ममेरा/मौसेरा/फुफेरा भाई
2. ☐ चाचा/मामा/मौसा/फूफा
3. ☐ पिता
4. ☐ बेटा

Question Number : 14 Question Id : 16265314 Question Type : MCQ Option Shuffling : Yes Display Question Number : Yes Single Line Question Option : No Option Orientation : Vertical

Correct Marks : 1 Wrong Marks : 0.25

If A stands for +, B stands for −, C stands for ×, then what is the value of $(6C5)A(14C2)B4$?

Options :

1. ☐ 27
2. ☐ 34
3. ☐ 62
4. ☒ 54

Question Number : 14 Question Id : 16265314 Question Type : MCQ Option Shuffling : Yes Display Question Number : Yes Single Line Question Option : No Option Orientation : Vertical

Correct Marks : 1 Wrong Marks : 0.25

यदि A का अर्थ +, B का अर्थ -, C का अर्थ \times , तो $(6C5)A(14C2)B4$ का मान क्या होगा?

Options :

- 1. ✖ 27
- 2. ✖ 34
- 3. ✖ 62
- 4. ✔ 54

Question Number : 15 Question Id : 16265315 Question Type : MCQ Option Shuffling : Yes Display Question Number : Yes Single Line Question Option : No Option Orientation : Vertical

Correct Marks : 1 Wrong Marks : 0.25

In an examination, a student scores 4 marks for every correct answer and loses 1 mark for every wrong answer. If he attempts all 80 questions and secures 200 marks, the number of questions he attempts correctly is:

Options :

- 1. ✔ 56
- 2. ✖ 50
- 3. ✖ 62
- 4. ✖ 74

Question Number : 15 Question Id : 16265315 Question Type : MCQ Option Shuffling : Yes Display Question Number : Yes Single Line Question Option : No Option Orientation : Vertical

Correct Marks : 1 Wrong Marks : 0.25

एक परीक्षा में, एक छात्र प्रत्येक सही उत्तर के लिए 4 अंक अर्जित करता है और हर गलत उत्तर के लिए 1 अंक खो देता है। यदि वह सभी 80 प्रश्नों के हल करने का प्रयास करता है और 200 अंक अर्जित करता है, तो उसके द्वारा सही तरीके से हल किए जाने वाले प्रश्नों की संख्या कितनी है?

Options :

- 1. ✔ 56
- 2. ✖ 50
- 3. ✖ 62
- 4. ✖ 74

Question Number : 16 Question Id : 16265316 Question Type : MCQ Option Shuffling : Yes Display Question Number : Yes Single Line Question Option : No Option Orientation : Vertical

Correct Marks : 1 Wrong Marks : 0.25

The total of the ages of Anjali, Ankitha and Banu is 60 years. What was the total of their ages four years ago?

Options :

1. ✖ 50 years
2. ✔ 48 years
3. ✖ 62 years
4. ✖ 75 years

Question Number : 16 Question Id : 16265316 Question Type : MCQ Option Shuffling : Yes Display Question Number : Yes Single Line Question Option : No Option Orientation : Vertical

Correct Marks : 1 Wrong Marks : 0.25

अंजलि, अंकिता और बानू की कुल आयु 60 वर्ष है। चार साल पहले उनकी उम्र का कुल कितना था?

Options :

1. ✖ 50 साल
2. ✔ 48 साल
3. ✖ 62 साल
4. ✖ 75 साल

Question Number : 17 Question Id : 16265317 Question Type : MCQ Option Shuffling : Yes Display Question Number : Yes Single Line Question Option : No Option Orientation : Vertical

Correct Marks : 1 Wrong Marks : 0.25

Choose the words-pair in which the words are differently related than in other pairs of words.

Options :

1. ✖ Error : Blunder
2. ✔ Unhappy : Pleasure
3. ✖ Wish : Desire
4. ✖ Moist : Drench

Question Number : 17 Question Id : 16265317 Question Type : MCQ Option Shuffling : Yes Display Question Number : Yes Single Line Question Option : No Option Orientation : Vertical

Correct Marks : 1 Wrong Marks : 0.25

उस शब्द-युग्म चुनें जिसमें शब्द अन्य युग्म की तुलना में अलग-अलग संबंधित हैं।

Options :

1. ✖ त्रुटि : बड़ी भूल

2. ✔ दुखी : खुशी

3. ✖ शुभकामना : इच्छा

4. ✖ नमी : भीगना

Question Number : 18 Question Id : 16265318 Question Type : MCQ Option Shuffling : Yes Display Question Number : Yes Single Line Question Option : No Option Orientation : Vertical

Correct Marks : 1 Wrong Marks : 0.25

Find the odd pair of numerical that does NOT hold same relation as the rest.

Options :

1. ✖ 8 - 4

2. ✖ 6 - 6

3. ✔ 10 - 3

4. ✖ 9 - 3

Question Number : 18 Question Id : 16265318 Question Type : MCQ Option Shuffling : Yes Display Question Number : Yes Single Line Question Option : No Option Orientation : Vertical

Correct Marks : 1 Wrong Marks : 0.25

संख्यात्मक की विषम जोड़ी का पता लगाए जिसका शेष से समान संबंध नहीं है।

Options :

1. ✖ 8 - 4

2. ✖ 6 - 6

3. ✔ 10 - 3

4. ✖ 9 - 3

Question Number : 19 Question Id : 16265319 Question Type : MCQ Option Shuffling : Yes Display Question Number : Yes Single Line Question Option : No Option Orientation : Vertical

Correct Marks : 1 Wrong Marks : 0.25

What would be the next term in the below number series?

2, 8, 18, 32, 50, 72, ?

Options :

1. ✓ 98

2. ✗ 100

3. ✗ 110

4. ✗ 115

Question Number : 19 Question Id : 16265319 Question Type : MCQ Option Shuffling : Yes Display Question Number : Yes Single Line Question Option : No Option Orientation : Vertical

Correct Marks : 1 Wrong Marks : 0.25

नीचे संख्या श्रृंखला में अगला शब्द क्या होगा?

2, 8, 18, 32, 50, 72...

Options :

1. ✓ 98

2. ✗ 100

3. ✗ 110

4. ✗ 115

Question Number : 20 Question Id : 16265320 Question Type : MCQ Option Shuffling : Yes Display Question Number : Yes Single Line Question Option : No Option Orientation : Vertical

Correct Marks : 1 Wrong Marks : 0.25

What would be the next term in the below series of terms?

WL, TO, PS, KX, ?

Options :

1. ✗ DK

2. ✗ EL

3. ✗ GF

4. ✓ ED

Question Number : 20 Question Id : 16265320 Question Type : MCQ Option Shuffling : Yes Display Question Number : Yes Single Line Question Option : No Option Orientation : Vertical

Correct Marks : 1 Wrong Marks : 0.25

नीचे संख्या श्रृंखला में अगला पद क्या होगा?

WL, TO, PS, KX, ?

Options :

1. ✖ DK

2. ✖ EL

3. ✖ GF

4. ✔ ED

General Awareness

Group Number :	2
Group Id :	1626532
Group Maximum Duration :	0
Group Minimum Duration :	0
Revisit allowed for view? :	No
Revisit allowed for edit? :	No
Break time:	0
Group Marks:	20
Revisit allowed for group Instructions? :	Yes
Maximum Instruction Time:	0
Minimum Instruction Time:	0

General Awareness

Section Id :	1626532
Section Number :	1
Section type :	Online
Mandatory or Optional:	Mandatory
Number of Questions:	20
Number of Questions to be attempted:	20
Section Marks:	20
Display Number Panel:	Yes
Group All Questions:	No

Sub-Section Number:	1
Sub-Section Id:	1626532
Question Shuffling Allowed :	Yes

Question Number : 21 Question Id : 16265321 Question Type : MCQ Option Shuffling : Yes Display Question Number : Yes Single Line Question Option : No Option Orientation : Vertical
Correct Marks : 1 Wrong Marks : 0.25

In which year did the British East India Company acquire a charter from Queen Elizabeth I granting it the sole right to trade with the east?

Options :

1. ☒ 1600
2. ☐ 1598
3. ☐ 1628
4. ☐ 1612

Question Number : 21 Question Id : 16265321 Question Type : MCQ Option Shuffling : Yes Display Question Number : Yes Single Line Question Option : No Option Orientation : Vertical

Correct Marks : 1 Wrong Marks : 0.25

किस वर्ष ब्रिटिश ईस्ट इंडिया कंपनी ने क्वीन एलिजाबेथ प्रथम से एक चार्टर प्राप्त किया था, जो इसे पूर्व के साथ व्यापार करने का एकमात्र अधिकार प्रदान करता था?

Options :

1. ☒ 1600
2. ☐ 1598
3. ☐ 1628
4. ☐ 1612

Question Number : 22 Question Id : 16265322 Question Type : MCQ Option Shuffling : Yes Display Question Number : Yes Single Line Question Option : No Option Orientation : Vertical

Correct Marks : 1 Wrong Marks : 0.25

The Carnatic Wars were fought between _____.

Options :

1. ☒ the British and the French
2. ☐ the French and the Portuguese
3. ☐ the British and the Marathas
4. ☐ the Mughals and the British

Question Number : 22 Question Id : 16265322 Question Type : MCQ Option Shuffling : Yes Display Question Number : Yes Single Line Question Option : No Option Orientation : Vertical

Correct Marks : 1 Wrong Marks : 0.25

कर्नाटक युद्ध _____ के बीच लड़ा गया था।

Options :

1. ✓ अंग्रेजों और फ्रांसीसियों
2. ✗ फ्रांसीसियों और पुर्तगालियों
3. ✗ अंग्रेजों और मराठों
4. ✗ मुगलों और अंग्रेजों

Question Number : 23 Question Id : 16265323 Question Type : MCQ Option Shuffling : Yes Display Question Number : Yes Single Line Question Option : No Option Orientation : Vertical

Correct Marks : 1 Wrong Marks : 0.25

'Mission Retro-Fitment' is related to the Union Ministry of _____.

Options :

1. ✓ Railways
2. ✗ Drinking Water and Sanitation
3. ✗ Defence
4. ✗ Agriculture and Farmers Welfare

Question Number : 23 Question Id : 16265323 Question Type : MCQ Option Shuffling : Yes Display Question Number : Yes Single Line Question Option : No Option Orientation : Vertical

Correct Marks : 1 Wrong Marks : 0.25

'मिशन रेट्रो-फिटमेंट' किस केन्द्रीय मंत्रालय से सम्बंधित है?

Options :

1. ✓ रेलवे
2. ✗ पेय जल और स्वच्छता
3. ✗ रक्षा
4. ✗ कृषि और किसान कल्याण

Question Number : 24 Question Id : 16265324 Question Type : MCQ Option Shuffling : Yes Display Question Number : Yes Single Line Question Option : No Option Orientation : Vertical

Correct Marks : 1 Wrong Marks : 0.25

What is the name of the Government healthcare scheme that was renamed in November 2016, for making available generic medicines at affordable prices?

Options :

1. ☒ Pradhan Mantri Bhartiya Janaushadhi Pariyojana
2. ☐ Pradhan Mantri Aushadhi Yojana
3. ☐ Pradhan Mantri Bhartiya Aushadhi Yojana
4. ☐ Pradhan Mantri Jan Aushadhi Mission

Question Number : 24 Question Id : 16265324 Question Type : MCQ Option Shuffling : Yes Display Question Number : Yes Single Line Question Option : No Option Orientation : Vertical

Correct Marks : 1 Wrong Marks : 0.25

सस्ती कीमतों पर जेनेरिक दवाएं उपलब्ध कराने के लिए नवंबर 2016 में सरकारी हेल्थकेयर योजना का नाम बदल दिया गया था?

Options :

1. ☒ प्रधानमंत्री भारतीय जनऔषधि परियोजना
2. ☐ प्रधानमंत्री औषधि योजना
3. ☐ प्रधानमंत्री भारतीय औषधि योजना
4. ☐ प्रधानमंत्री जन औषधि मिशन

Question Number : 25 Question Id : 16265325 Question Type : MCQ Option Shuffling : Yes Display Question Number : Yes Single Line Question Option : No Option Orientation : Vertical

Correct Marks : 1 Wrong Marks : 0.25

Who was holding the additional charge of Chairperson of the National Commission for Women after Smt. Lalitha Kumaramangalam demitted office on 28-September-2017?

Options :

1. ☒ Ms. Rekha Sharma
2. ☐ Dr. Girija Vyas
3. ☐ Ms. Sushma Sahu
4. ☐ Ms. Mamta Sharma

Question Number : 25 Question Id : 16265325 Question Type : MCQ Option Shuffling : Yes Display Question Number : Yes Single Line Question Option : No Option Orientation : Vertical

Correct Marks : 1 Wrong Marks : 0.25

28-सितंबर-2017 को श्रीमती ललिता कुमारमंगलम के पद छोड़ने के बाद महिलाओं के लिए राष्ट्रीय आयोग के अध्यक्ष का अतिरिक्त प्रभार कौन था?

Options :

1. ✓ श्रीमती रेखा शर्मा
2. ✗ डॉ. गिरिजा व्यास
3. ✗ श्रीमती सुषमा साहू
4. ✗ श्रीमती ममता शर्मा

Question Number : 26 Question Id : 16265326 Question Type : MCQ Option Shuffling : Yes Display Question Number : Yes Single Line Question Option : No Option Orientation : Vertical

Correct Marks : 1 Wrong Marks : 0.25

The rank of the Chief of the Army Staff in India is _____.

Options :

1. ✓ General
2. ✗ Field Marshal
3. ✗ Major General
4. ✗ Lieutenant General

Question Number : 26 Question Id : 16265326 Question Type : MCQ Option Shuffling : Yes Display Question Number : Yes Single Line Question Option : No Option Orientation : Vertical

Correct Marks : 1 Wrong Marks : 0.25

भारत में आर्मी स्टाफ के प्रमुख का पद है _____।

Options :

1. ✓ जनरल
2. ✗ फील्ड मार्शल
3. ✗ मेजर जनरल
4. ✗ लेफ्टिनेंट जनरल

Question Number : 27 Question Id : 16265327 Question Type : MCQ Option Shuffling : Yes Display Question Number : Yes Single Line Question Option : No Option Orientation : Vertical

Correct Marks : 1 Wrong Marks : 0.25

Who won the 'Player of the Final' title in the ACC Women's Asia Cup T20 2018 cricket tournament?

Options :

1. ☒ Rumana Ahmed
2. ☐ Harmanpreet Kaur
3. ☐ Jhulan Goswami
4. ☐ Fahima Khatun

Question Number : 27 Question Id : 16265327 Question Type : MCQ Option Shuffling : Yes Display Question Number : Yes Single Line Question Option : No Option Orientation : Vertical

Correct Marks : 1 Wrong Marks : 0.25

एसीसी महिला एशिया कप टी 20 2018 क्रिकेट टूर्नामेंट में 'प्लेयर ऑफ द फाइनल' खिताब किसने जीता?

Options :

1. ☒ रुमाना अहमद
2. ☐ हरमनप्रीत कौर
3. ☐ झूलन गोस्वामी
4. ☐ फातिमा खातून

Question Number : 28 Question Id : 16265328 Question Type : MCQ Option Shuffling : Yes Display Question Number : Yes Single Line Question Option : No Option Orientation : Vertical

Correct Marks : 1 Wrong Marks : 0.25

Who among the following is a leading Indian Boxer?

Options :

1. ☒ Amit Panghal
2. ☐ Sathish Kumar Sivalingam
3. ☐ Sandeep Tomar
4. ☐ Pawan Kumar

Question Number : 28 Question Id : 16265328 Question Type : MCQ Option Shuffling : Yes Display Question Number : Yes Single Line Question Option : No Option Orientation : Vertical

Correct Marks : 1 Wrong Marks : 0.25

निम्नलिखित में से कौन अग्रणी भारतीय मुक्केबाज़ है?

Options :

1. ✓ अमित पंघाल
2. ✗ सतीश कुमार शिवलिंगम
3. ✗ संदीप तोमर
4. ✗ पवन कुमार

Question Number : 29 Question Id : 16265329 Question Type : MCQ Option Shuffling : Yes Display Question Number : Yes Single Line Question Option : No Option Orientation : Vertical
Correct Marks : 1 Wrong Marks : 0.25

The casting of _____ statues was popular at all the major centres of the Indus Valley Civilisation.

Options :

1. ✓ Bronze
2. ✗ Wood
3. ✗ Iron
4. ✗ Silver

Question Number : 29 Question Id : 16265329 Question Type : MCQ Option Shuffling : Yes Display Question Number : Yes Single Line Question Option : No Option Orientation : Vertical
Correct Marks : 1 Wrong Marks : 0.25

सिंधु घाटी सभ्यता के सभी प्रमुख केंद्रों में _____ मूर्तियों की ढलाई लोकप्रिय थी।

Options :

1. ✓ कांस्य
2. ✗ लकड़ी के
3. ✗ लौह
4. ✗ चांदी के

Question Number : 30 Question Id : 16265330 Question Type : MCQ Option Shuffling : Yes Display Question Number : Yes Single Line Question Option : No Option Orientation : Vertical
Correct Marks : 1 Wrong Marks : 0.25

The Mauryan pillar found at Sarnath, popularly known as the Lion Capital, did NOT contain the figure of _____.

Options :

1. ✓ Cow
2. ✗ Horse
3. ✗ Bull
4. ✗ Elephant

Question Number : 30 Question Id : 16265330 Question Type : MCQ Option Shuffling : Yes Display Question Number : Yes Single Line Question Option : No Option Orientation : Vertical

Correct Marks : 1 Wrong Marks : 0.25

सारनाथ में पाए गए मौर्यकालीन स्तंभ, जिन्हें सिंहचतुर्मुख के नाम से जाना जाता है, में _____ की आकृति नहीं थी।

Options :

1. ✓ गाय
2. ✗ घोड़ा
3. ✗ सांढ़
4. ✗ हाथी

Question Number : 31 Question Id : 16265331 Question Type : MCQ Option Shuffling : Yes Display Question Number : Yes Single Line Question Option : No Option Orientation : Vertical

Correct Marks : 1 Wrong Marks : 0.25

Match the following types of soil with its widely known feature.

f. Black	q. common salt is obtained
d. Laterite	t. Infertile
a. Saline	k. prevalent in Deccan Plateau
m. Arid	p. used for cutting bricks

Options :

1. ✓ m-q, d-p, f-k, a-t
2. ✗ f-k, d-p, a-q, m-t
3. ✗ d-t, f-k, a-p, m-q
4. ✗ a-t, f-q, d-p, m-k

Question Number : 31 Question Id : 16265331 Question Type : MCQ Option Shuffling : Yes Display Question Number : Yes Single Line Question Option : No Option Orientation : Vertical

Correct Marks : 1 Wrong Marks : 0.25

निम्नलिखित प्रकार की मिट्टी को इसकी व्यापक रूप से ज्ञात विशेषता से मेल करें।

f. काली	q. सामान्य नमक प्राप्त किया जाता है
d. लेटराइट	t. अनुपजाऊ
a. खारी	k. दक्कन पठार में प्रचलित
m. शुष्क	p. ईंटों काटने के लिए प्रयोग किया जाता है

Options :

1. ✓ m-q, d-p, f-k, a-t,
2. ✗ f-k, d-p, a-q, m-t
3. ✗ d-t, f-k, a-p, m-q
4. ✗ a-t, f-q, d-p, m-k

Question Number : 32 Question Id : 16265332 Question Type : MCQ Option Shuffling : Yes Display Question Number : Yes Single Line Question Option : No Option Orientation : Vertical

Correct Marks : 1 Wrong Marks : 0.25

The _____ river forms the traditional boundary between North India and South India.

Options :

1. ✓ Narmada
2. ✗ Tapti
3. ✗ Godavari
4. ✗ Krishna

Question Number : 32 Question Id : 16265332 Question Type : MCQ Option Shuffling : Yes Display Question Number : Yes Single Line Question Option : No Option Orientation : Vertical

Correct Marks : 1 Wrong Marks : 0.25

_____ नदी उत्तर भारत और दक्षिण भारत के बीच पारंपरिक सीमा बनाती है।

Options :

1. ✓ नर्मदा
2. ✗ ताप्ति

3. ✖ गोदावरी

4. ✖ कृष्णा

Question Number : 33 Question Id : 16265333 Question Type : MCQ Option Shuffling : Yes Display Question Number : Yes Single Line Question Option : No Option Orientation : Vertical

Correct Marks : 1 Wrong Marks : 0.25

One single health insurance policy that takes care of the hospitalization expenses of the entire family is commonly referred to as _____.

Options :

1. ✔ Family Floater

2. ✖ Group Mediclaim

3. ✖ Family Plan

4. ✖ Family Umbrella

Question Number : 33 Question Id : 16265333 Question Type : MCQ Option Shuffling : Yes Display Question Number : Yes Single Line Question Option : No Option Orientation : Vertical

Correct Marks : 1 Wrong Marks : 0.25

एक एकल स्वास्थ्य बीमा पॉलिसी जो पूरे परिवार के अस्पताल में होने वाले खर्चों का खयाल रखती है उसे आमतौर पर संदर्भित किया जाता है _____।

Options :

1. ✔ पारिवारिक फ्लोटर

2. ✖ ग्रुप मेडिक्लैम

3. ✖ पारिवारिक योजना (फेमिली प्लान)

4. ✖ फैमिली अम्ब्रेला

Question Number : 34 Question Id : 16265334 Question Type : MCQ Option Shuffling : Yes Display Question Number : Yes Single Line Question Option : No Option Orientation : Vertical

Correct Marks : 1 Wrong Marks : 0.25

The Financial Stability and Development Council is chaired by the _____.

Options :

1. ✔ Union Finance Minister

- 2. ✖ Governor, Reserve Bank of India
- 3. ✖ Chief Economic Advisor
- 4. ✖ Finance Secretary

Question Number : 34 Question Id : 16265334 Question Type : MCQ Option Shuffling : Yes Display Question Number : Yes Single Line Question Option : No Option Orientation : Vertical

Correct Marks : 1 Wrong Marks : 0.25

वित्तीय स्थिरता और विकास परिषद के अध्यक्ष _____ है।

Options :

- 1. ✔ केन्द्रीय वित्त मंत्री
- 2. ✖ गवर्नर, भारतीय रिज़र्व बैंक
- 3. ✖ मुख्य वित्तीय सलाहकार
- 4. ✖ वित्तीय सचिव

Question Number : 35 Question Id : 16265335 Question Type : MCQ Option Shuffling : Yes Display Question Number : Yes Single Line Question Option : No Option Orientation : Vertical

Correct Marks : 1 Wrong Marks : 0.25

The contraction of human heart chambers is called _____.

Options :

- 1. ✔ Systole
- 2. ✖ Diastole
- 3. ✖ Stroke
- 4. ✖ Heartbeat

Question Number : 35 Question Id : 16265335 Question Type : MCQ Option Shuffling : Yes Display Question Number : Yes Single Line Question Option : No Option Orientation : Vertical

Correct Marks : 1 Wrong Marks : 0.25

मानव हृदय कक्षों के संकुचन को _____ कहा जाता है।

Options :

- 1. ✔ सिस्टोल

2. ✖ डायस्टोल

3. ✖ स्ट्रोक

4. ✖ धड़कन

Question Number : 36 Question Id : 16265336 Question Type : MCQ Option Shuffling : Yes Display Question Number : Yes Single Line Question Option : No Option Orientation : Vertical

Correct Marks : 1 Wrong Marks : 0.25

Which of the following is an example of homogeneous mixtures?

Options :

1. ✔ Sugar in water

2. ✖ Salt and Sulphur

3. ✖ Oil and Water

4. ✖ Sodium chloride and Iron filings

Question Number : 36 Question Id : 16265336 Question Type : MCQ Option Shuffling : Yes Display Question Number : Yes Single Line Question Option : No Option Orientation : Vertical

Correct Marks : 1 Wrong Marks : 0.25

निम्नलिखित में से कौन सा सजातीय मिश्रण का एक उदाहरण है?

Options :

1. ✔ पानी में चीनी

2. ✖ नमक और सल्फर

3. ✖ तेल और पानी

4. ✖ सोडियम क्लोराइड और लौह कण

Question Number : 37 Question Id : 16265337 Question Type : MCQ Option Shuffling : Yes Display Question Number : Yes Single Line Question Option : No Option Orientation : Vertical

Correct Marks : 1 Wrong Marks : 0.25

The Prime Minister's Science, Technology and Innovation Advisory Council (PM-STIAC) consisting of _____ members was constituted on 28th August 2018.

Options :

1. ✔ 21

2. ✖ 10

3. ✖ 15

4. ✖ 11

Question Number : 37 Question Id : 16265337 Question Type : MCQ Option Shuffling : Yes Display Question Number : Yes Single Line Question Option : No Option Orientation : Vertical

Correct Marks : 1 Wrong Marks : 0.25

प्रधान मंत्री विज्ञान, प्रौद्योगिकी और नवाचार सलाहकार परिषद (पीएम- एसटीआईएसी), जिसमें _____ सदस्य हैं, 28 अगस्त 2018 को गठित किया गया था।

Options :

1. ✔ 21

2. ✖ 10

3. ✖ 15

4. ✖ 11

Question Number : 38 Question Id : 16265338 Question Type : MCQ Option Shuffling : Yes Display Question Number : Yes Single Line Question Option : No Option Orientation : Vertical

Correct Marks : 1 Wrong Marks : 0.25

In which year did James Watson and Francis Crick discovered the double-helix structure of Deoxyribonucleic acid (DNA)?

Options :

1. ✔ 1953

2. ✖ 1949

3. ✖ 1955

4. ✖ 1960

Question Number : 38 Question Id : 16265338 Question Type : MCQ Option Shuffling : Yes Display Question Number : Yes Single Line Question Option : No Option Orientation : Vertical

Correct Marks : 1 Wrong Marks : 0.25

जेम्स वाटसन और फ्रांसिस क्रिक ने डीऑक्सीरिबोन्यूक्लिक एसिड (डीएनए) की डबल-हेलिक्स संरचना की खोज किस वर्ष में की?

Options :

1. ✔ 1953

2. ✖ 1949

3. ✖ 1955

4. ✖ 1960

Question Number : 39 Question Id : 16265339 Question Type : MCQ Option Shuffling : Yes Display Question Number : Yes Single Line Question Option : No Option Orientation : Vertical

Correct Marks : 1 Wrong Marks : 0.25

The National Authority Chemicals Weapons Convention (NACWC) is _____.

Options :

1. ✔ an office in the Cabinet Secretariat, Government of India
2. ✖ an autonomous authority
3. ✖ an office under the Prime Minister's Office (PMO)
4. ✖ part of the Department of Defence Production

Question Number : 39 Question Id : 16265339 Question Type : MCQ Option Shuffling : Yes Display Question Number : Yes Single Line Question Option : No Option Orientation : Vertical

Correct Marks : 1 Wrong Marks : 0.25

राष्ट्रीय प्राधिकरण रसायन हथियार सम्मेलन (एनएसीडब्ल्यूसी) _____ है।

Options :

1. ✔ भारत सरकार के केन्द्रीय सचिवालय का एक कार्यालय
2. ✖ एक स्वायत्त संस्थान
3. ✖ प्रधान मंत्री कार्यालय (PMO) के तहत एक कार्यालय
4. ✖ रक्षा उत्पादन विभाग का हिस्सा

Question Number : 40 Question Id : 16265340 Question Type : MCQ Option Shuffling : Yes Display Question Number : Yes Single Line Question Option : No Option Orientation : Vertical

Correct Marks : 1 Wrong Marks : 0.25

Which of the following is NOT true with reference to the NITI Aayog?

Options :

1. ✔ It was formed by an Act of Parliament.

2. ✖ It was formed on January 1, 2015.
3. ✖ It provides policy inputs to the Government of India.
4. ✖ It replaced the Planning Commission.

Question Number : 40 Question Id : 16265340 Question Type : MCQ Option Shuffling : Yes Display Question Number : Yes Single Line Question Option : No Option Orientation : Vertical
Correct Marks : 1 Wrong Marks : 0.25

निति आयोग के संदर्भ में निम्नलिखित में से कौन सा सत्य नहीं है?

Options :

1. ✔ यह संसद के एक अधिनियम द्वारा गठित किया गया था।
2. ✖ यह 1 जनवरी, 2015 को स्थापित किया गया था।
3. ✖ यह भारत सरकार को नीतिगत सुझाव प्रदान करता है।
4. ✖ इसने योजना आयोग का स्थान ले लिया है।

Arithmetic Ability

Group Number :	3
Group Id :	1626533
Group Maximum Duration :	0
Group Minimum Duration :	0
Revisit allowed for view? :	No
Revisit allowed for edit? :	No
Break time:	0
Group Marks:	20
Revisit allowed for group Instructions? :	Yes
Maximum Instruction Time:	0
Minimum Instruction Time:	0

Arithmetic Ability

Section Id :	1626533
Section Number :	1
Section type :	Online
Mandatory or Optional:	Mandatory
Number of Questions:	19
Number of Questions to be attempted:	19
Section Marks:	20
Display Number Panel:	Yes
Group All Questions:	No

Sub-Section Number: 1
Sub-Section Id: 1626533
Question Shuffling Allowed : Yes

Question Number : 41 Question Id : 16265341 Question Type : MCQ Option Shuffling : Yes Display Question Number : Yes Single Line Question Option : No Option Orientation : Vertical

Correct Marks : 1 Wrong Marks : 0.25

The value of $\frac{(625)^{6.25} \times (25)^{2.6}}{(5^4)^{6.75} \times (\sqrt{5})^{2.4}} \times \frac{(0.49)^4 \times (0.343)^4}{(0.2401)^5}$ is:

Options :

1. ✖ 0.25

2. ✖ 0.35

3. ✔ 25

4. ✖ 175

Question Number : 41 Question Id : 16265341 Question Type : MCQ Option Shuffling : Yes Display Question Number : Yes Single Line Question Option : No Option Orientation : Vertical

Correct Marks : 1 Wrong Marks : 0.25

$\frac{(625)^{6.25} \times (25)^{2.6}}{(5^4)^{6.75} \times (\sqrt{5})^{2.4}} \times \frac{(0.49)^4 \times (0.343)^4}{(0.2401)^5}$ का मान है:

Options :

1. ✖ 0.25

2. ✖ 0.35

3. ✔ 25

4. ✖ 175

Question Number : 42 Question Id : 16265342 Question Type : MCQ Option Shuffling : Yes Display Question Number : Yes Single Line Question Option : No Option Orientation : Vertical

Correct Marks : 1 Wrong Marks : 0.25

The value of $\left(\sqrt{1 + \frac{\sqrt{3}}{2}} + \sqrt{1 - \frac{\sqrt{3}}{2}} \right) \div \frac{1 + \sqrt{1 - \frac{3}{4}}}{\frac{\sqrt{2}}{2}}$ is:

Options :

1. ✖ $2\sqrt{3}$

2. ✖ $\sqrt{3}$

3. ✖ $\frac{1}{2}$

4. ✔ 1

Question Number : 42 Question Id : 16265342 Question Type : MCQ Option Shuffling : Yes Display Question Number : Yes Single Line Question Option : No Option Orientation : Vertical

Correct Marks : 1 Wrong Marks : 0.25

$\left(\sqrt{1 + \frac{\sqrt{3}}{2}} + \sqrt{1 - \frac{\sqrt{3}}{2}} \right) \div \frac{1 + \sqrt{1 - \frac{3}{4}}}{\frac{\sqrt{3}}{2}}$ का मान है:

Options :

1. ✖ $2\sqrt{3}$

2. ✖ $\sqrt{3}$

3. ✖ $\frac{1}{2}$

4. ✔ 1

Question Number : 43 Question Id : 16265343 Question Type : MCQ Option Shuffling : Yes Display Question Number : Yes Single Line Question Option : No Option Orientation : Vertical

Correct Marks : 1 Wrong Marks : 0.25

The value of $\frac{7}{5 - \frac{8}{3}} \times \frac{4 - \frac{3}{2}}{3 - \frac{2}{3 - \frac{3}{2}}} - \frac{5}{14}$ of $\left[\frac{3\frac{1}{3} - 2\frac{1}{2}}{2\frac{5}{21} - 2} \text{ of } 1\frac{1}{5} + \frac{7}{10} \right]$ lies between:

Options :

1. ✖ $1\frac{1}{2}$ and $2\frac{1}{2}$

2. ✔ $2\frac{1}{2}$ and $3\frac{1}{2}$

3. ✖ $3\frac{1}{2}$ and $4\frac{1}{2}$

4. ✖ $4\frac{1}{2}$ and $5\frac{1}{2}$

Question Number : 43 Question Id : 16265343 Question Type : MCQ Option Shuffling : Yes Display Question Number : Yes Single Line Question Option : No Option Orientation : Vertical

Correct Marks : 1 Wrong Marks : 0.25

$$\frac{7}{5-\frac{8}{3}} \times \frac{4-\frac{3}{2}}{3-\frac{3}{3-\frac{3}{2}}} - \left[1\frac{1}{5} \text{ का } \frac{3\frac{1}{3}-2\frac{1}{2}}{2\frac{5}{21}-2} + \frac{7}{10} \right] \text{ का } \frac{5}{14} \text{ का मान निम्न के बीच में है:}$$

Options :

1. ✖ $1\frac{1}{2}$ और $2\frac{1}{2}$

2. ✔ $2\frac{1}{2}$ और $3\frac{1}{2}$

3. ✖ $3\frac{1}{2}$ और $4\frac{1}{2}$

4. ✖ $4\frac{1}{2}$ और $5\frac{1}{2}$

Question Number : 44 Question Id : 16265344 Question Type : MCQ Option Shuffling : Yes Display Question Number : Yes Single Line Question Option : No Option Orientation : Vertical

Correct Marks : 1 Wrong Marks : 0.25

Let x be the greatest number which when divides 1288, 8139, 17200 the remainder in each case is the same. What is the sum of digits of x ?

Options :

1. ✔ 5

2. ✖ 6

3. ✖ 8

4. ✖ 11

Question Number : 44 Question Id : 16265344 Question Type : MCQ Option Shuffling : Yes Display Question Number : Yes Single Line Question Option : No Option Orientation : Vertical

Correct Marks : 1 Wrong Marks : 0.25

यदि x वह बड़ी से बड़ी संख्या है जिससे जब 1288, 8139 और 17200 को भाग दिया जाए, तो शेषफल प्रत्येक दशा में समान है। x के अंकों का योग है:

Options :

1. ✔ 5

2. ✖ 6

3. ✖ 8

4. ✖ 11

Question Number : 45 Question Id : 16265345 Question Type : MCQ Option Shuffling : Yes Display Question Number : Yes Single Line Question Option : No Option Orientation : Vertical

Correct Marks : 1 Wrong Marks : 0.25

In a class 60% of the students are boys and rest are girls. If 35% of the number of boys and 60% of the number of girls get scholarship and the number of girls who do not get scholarship is 32, then the number of boys who do not get scholarship is:

Options :

1. ✖ 42

2. ✖ 60

3. ✔ 78

4. ✖ 84

Question Number : 45 Question Id : 16265345 Question Type : MCQ Option Shuffling : Yes Display Question Number : Yes Single Line Question Option : No Option Orientation : Vertical

Correct Marks : 1 Wrong Marks : 0.25

एक कक्षा में 60% विद्यार्थी लड़के हैं तथा शेष लड़कियाँ हैं। यदि लड़कों की संख्या 35% तथा लड़कियों की संख्या का 60% को छात्रवृत्ति मिलती है और जिन लड़कियों को छात्रवृत्ति नहीं मिलती है, उनकी संख्या 32 है, तो उन लड़कों की संख्या जिन्हें छात्रवृत्ति नहीं मिलती है, निम्न है:

Options :

1. ✖ 42

2. ✖ 60

3. ✔ 78

4. ✖ 84

Question Number : 46 Question Id : 16265346 Question Type : MCQ Option Shuffling : Yes Display Question Number : Yes Single Line Question Option : No Option Orientation : Vertical

Correct Marks : 1 Wrong Marks : 0.25

16 L of a solution containing 15% acid are mixed with 20 L of another solution containing 16% acid. 4 L of water was then mixed with the resulting solution. What is the percentage of water in the final solution?

Options :

1. ✖ 80

2. ✖ 88

3. ✖ 82

4. ✓ 86

Question Number : 46 Question Id : 16265346 Question Type : MCQ Option Shuffling : Yes Display Question Number : Yes Single Line Question Option : No Option Orientation : Vertical

Correct Marks : 1 Wrong Marks : 0.25

एक 16 लीटर घोल में, 15% अम्ल है। उसे 20 लीटर वाले एक अन्य घोल, जिसमें 16% अम्ल है, के साथ मिलाया जाता है इसके पश्चात इस प्रकार प्राप्त घोल में 4 लीटर पानी और मिलाया जाता है। अंतिम घोल में, पानी कितने प्रतिशत है?

Options :

1. ✗ 80

2. ✗ 88

3. ✗ 82

4. ✓ 86

Question Number : 47 Question Id : 16265347 Question Type : MCQ Option Shuffling : Yes Display Question Number : Yes Single Line Question Option : No Option Orientation : Vertical

Correct Marks : 1 Wrong Marks : 0.25

If goods are purchased for ₹ 480 and one-third are sold at a loss of 10%, then at what percentage profit should the remaining be sold so as to gain 20% on the whole transaction?

Options :

1. ✗ 28

2. ✓ 35

3. ✗ 40

4. ✗ 42

Question Number : 47 Question Id : 16265347 Question Type : MCQ Option Shuffling : Yes Display Question Number : Yes Single Line Question Option : No Option Orientation : Vertical

Correct Marks : 1 Wrong Marks : 0.25

यदि सामान को ₹ 480 पर खरीदकर, उसके एक तिहाई भाग को 10% हानि पर बेचा जाए, तो शेष सामान को कितने प्रतिशत लाभ पर बेचा जाए कि पुरे कारोबार में 20% का लाभ प्राप्त हो?

Options :

1. ✗ 28

2. ✓ 35

3. ✗ 40

4. ✖ 42

Question Number : 48 Question Id : 16265348 Question Type : MCQ Option Shuffling : Yes Display Question Number : Yes Single Line Question Option : No Option Orientation : Vertical

Correct Marks : 1 Wrong Marks : 0.25

A dealer marks an article 40% above its cost price and allows 12% discount on its marked price. Later on, he sells it by giving another cash discount of ₹ 39 and still he earns a profit of 18%. What is the cost price of the article?

Options :

1. ✖ ₹ 680

2. ✖ ₹ 700

3. ✖ ₹ 720

4. ✔ ₹ 750

Question Number : 48 Question Id : 16265348 Question Type : MCQ Option Shuffling : Yes Display Question Number : Yes Single Line Question Option : No Option Orientation : Vertical

Correct Marks : 1 Wrong Marks : 0.25

एक डीलर एक वस्तु पर उसके क्रयमूल्य से 40% अधिक मूल्य अंकित करता है और फिर इस अंकित मूल्य पर 12% की छूट देता है। बाद में, वह वस्तु को ₹ 39 की एक नकद छूट देकर बेच देता है और फिर भी उसे 18% का लाभ प्राप्त होता है। वस्तु का क्रयमूल्य क्या है?

Options :

1. ✖ ₹ 680

2. ✖ ₹ 700

3. ✖ ₹ 720

4. ✔ ₹ 750

Question Number : 49 Question Id : 16265349 Question Type : MCQ Option Shuffling : Yes Display Question Number : Yes Single Line Question Option : No Option Orientation : Vertical

Correct Marks : 1 Wrong Marks : 0.25

There are some children in a camp and their average weight is 24 kg. If 5 children of average weight 18 kg join the camp or if 10 children of average weight $24\frac{3}{4}$ kg leave the camp, the average weight in both cases remains equal. Initially, what is the number of children in the camp?

Options :

1. ✖ 12

2. ✔ 15

3. ✖ 16

4. ✖ 18

Question Number : 49 Question Id : 16265349 Question Type : MCQ Option Shuffling : Yes Display Question Number : Yes Single Line Question Option : No Option Orientation : Vertical

Correct Marks : 1 Wrong Marks : 0.25

एक कैम्प में कुछ बच्चे हैं और उनका औसत भार 24 किग्रा है। यदि 24 किग्रा औसत भार वाले 5 बच्चे कैम्प में और आ जाए या 10 बच्चे जिनका औसत भार $24\frac{3}{4}$ किग्रा है, कैम्प से बाहर चले जाए, तो दोनों स्थितियों में औसत भार समान रहता है। आरंभ में कैम्प में कितने बच्चे हैं?

Options :

1. ✖ 12

2. ✔ 15

3. ✖ 16

4. ✖ 18

Question Number : 50 Question Id : 16265350 Question Type : MCQ Option Shuffling : Yes Display Question Number : Yes Single Line Question Option : No Option Orientation : Vertical

Correct Marks : 1 Wrong Marks : 0.25

The ratio of mean proportional between 0.8 and 9.8 and the third proportional to 0.7 and 2.8 is:

Options :

1. ✖ 2 : 7

2. ✖ 1 : 3

3. ✔ 1 : 4

4. ✖ 2 : 3

Question Number : 50 Question Id : 16265350 Question Type : MCQ Option Shuffling : Yes Display Question Number : Yes Single Line Question Option : No Option Orientation : Vertical

Correct Marks : 1 Wrong Marks : 0.25

0.8 और 9.8 के म्ध्यानुपाती और 0.7 तथा 2.8 के तृतीयानुपाती में अनुपात है:

Options :

1. ✖ 2 : 7

2. ✖ 1 : 3

3. ✓ 1 : 4

4. ✗ 2 : 3

Question Number : 51 Question Id : 16265351 Question Type : MCQ Option Shuffling : Yes Display Question Number : Yes Single Line Question Option : No Option Orientation : Vertical

Correct Marks : 1 Wrong Marks : 0.25

The monthly incomes of A and B are in the ratio 6 : 5 and expenses are in the ratio 9 : 8. If the income of B is equal to the expenses of A, then the ratio of savings of A and B is:

Options :

1. ✓ 9 : 5

2. ✗ 5 : 9

3. ✗ 3 : 4

4. ✗ 4 : 3

Question Number : 51 Question Id : 16265351 Question Type : MCQ Option Shuffling : Yes Display Question Number : Yes Single Line Question Option : No Option Orientation : Vertical

Correct Marks : 1 Wrong Marks : 0.25

A और B की मासिक आयों में 6 : 5 का अनुपात है तथा उनके व्ययों में 9 : 8 का अनुपात है। यदि B की आय A के व्यय के बराबर है, तो A और B की बचतों में अनुपात है:

Options :

1. ✓ 9 : 5

2. ✗ 5 : 9

3. ✗ 3 : 4

4. ✗ 4 : 3

Question Number : 52 Question Id : 16265352 Question Type : MCQ Option Shuffling : Yes Display Question Number : Yes Single Line Question Option : No Option Orientation : Vertical

Correct Marks : 1 Wrong Marks : 0.25

The compound interest on a certain sum for 2 years at 10% per annum, interest compounded yearly, is ₹ 6,300. What will be the compound interest on the same sum for $3\frac{1}{4}$ years at the same rate? (nearest to one ₹)

Options :

1. ✗ ₹ 10,882

2. ✗ ₹ 10,892

3. ✖ ₹ 10,829

4. ✔ ₹ 10,928

Question Number : 52 Question Id : 16265352 Question Type : MCQ Option Shuffling : Yes Display Question Number : Yes Single Line Question Option : No Option Orientation : Vertical

Correct Marks : 1 Wrong Marks : 0.25

किसी राशी पर 2 वर्ष के लिए 10% वार्षिक दर से चक्रवृद्धि ब्याज 6300 है जब ब्याज वार्षिक संयोजित होता है। उसी राशी पर उसी दर से $3\frac{1}{4}$ वर्ष में कितना चक्रवृद्धि ब्याज होगा? (निकटतम एक के)

Options :

1. ✖ ₹ 10,882

2. ✖ ₹ 10,892

3. ✖ ₹ 10,829

4. ✔ ₹ 10,928

Question Number : 53 Question Id : 16265353 Question Type : MCQ Option Shuffling : Yes Display Question Number : Yes Single Line Question Option : No Option Orientation : Vertical

Correct Marks : 1 Wrong Marks : 0.25

The area of field in the shape of a trapezium is equal to the area of another field in the shape of an equilateral triangle. If the parallel sides of the first field are 70 m and 170 m and non-parallel sides are 130 m each, then the side (in m) of the triangular field is:

Options :

1. ✖ $80\sqrt{27}$

2. ✔ $80(27)^{\frac{1}{4}}$

3. ✖ $40\sqrt{27}$

4. ✖ $40(27)^{\frac{1}{4}}$

Question Number : 53 Question Id : 16265353 Question Type : MCQ Option Shuffling : Yes Display Question Number : Yes Single Line Question Option : No Option Orientation : Vertical

Correct Marks : 1 Wrong Marks : 0.25

समलंबाकार मैदान का क्षेत्रफल एक समबाहु त्रिभुजाकार मैदान के क्षेत्रफल के बराबर है। यदि पहलेवाले मैदान की समांतर भुजाएँ तो 70 मी तथा 170 मी तथा उनकी असमांतर प्रत्येक भुजा 130 मी है, त्रिभुजाकार मैदान की भुजा (मी में) है:

Options :

1. ✖ $80\sqrt{27}$

2. ✔ $80(27)^{\frac{1}{4}}$

3. ✖ $40\sqrt{(27)}$

4. ✖ $40(27)^{\frac{1}{4}}$

Question Number : 54 Question Id : 16265354 Question Type : MCQ Option Shuffling : Yes Display Question Number : Yes Single Line Question Option : No Option Orientation : Vertical

Correct Marks : 1 Wrong Marks : 0.25

The ratio of lateral surface area of a cone and that of hemisphere with equal height and equal radius is:

Options :

1. ✖ $1 : 2$

2. ✖ $2 : 3$

3. ✔ $1 : \sqrt{2}$

4. ✖ $2 : \sqrt{3}$

Question Number : 54 Question Id : 16265354 Question Type : MCQ Option Shuffling : Yes Display Question Number : Yes Single Line Question Option : No Option Orientation : Vertical

Correct Marks : 1 Wrong Marks : 0.25

समान त्रिज्या तथा समान ऊँचाई वाले एक शंकु और एक अर्धगोले के वक्र पृष्ठीय क्षेत्रफलों का अनुपात _____ है।

Options :

1. ✖ $1 : 2$

2. ✖ $2 : 3$

3. ✔ $1 : \sqrt{2}$

4. ✖ $2 : \sqrt{3}$

Question Number : 55 Question Id : 16265355 Question Type : MCQ Option Shuffling : Yes Display Question Number : Yes Single Line Question Option : No Option Orientation : Vertical

Correct Marks : 1 Wrong Marks : 0.25

The rate at which water flows in a river is $33\frac{1}{3}\%$ of the speed of a boat in still water. If the boat travels down the river for $3\frac{1}{2}$ hours and then returns back the river for 3 hours, it will be 33.6 km short of its starting point. What is the speed (in km) of the boat in still water?

Options :

- 1. ✖ 10.8
- 2. ✔ 12.6
- 3. ✖ 12.8
- 4. ✖ 13.2

Question Number : 55 Question Id : 16265355 Question Type : MCQ Option Shuffling : Yes Display Question Number : Yes Single Line Question Option : No Option Orientation : Vertical

Correct Marks : 1 Wrong Marks : 0.25

एक नदी में पानी के प्रवाह की चाल एक नाव के शांत जल में चलने की चाल का $33\frac{1}{3}\%$ है। यदि नाव नदी में पानी के प्रवाह के अनुकूल $3\frac{1}{2}$ चलती है और फिर 3 घंटे वापस चलती है तो वह अपने आरंभिक स्थान, से 33.6 किमी पीछे रह जाती है। नाव की चाल (किमी/घं मी) शांतजल में क्या है?

Options :

- 1. ✖ 10.8
- 2. ✔ 12.6
- 3. ✖ 12.8
- 4. ✖ 13.2

Question Number : 56 Question Id : 16265356 Question Type : MCQ Option Shuffling : Yes Display Question Number : Yes Single Line Question Option : No Option Orientation : Vertical

Correct Marks : 1 Wrong Marks : 0.25

The ratio of speeds of A and C is 5 : 11. B covered a distance of 450 km in 6 hours. The speed of A is two-thirds that of B. The distance (in km) covered by C in 3.6 hours is:

Options :

- 1. ✖ 270
- 2. ✖ 290
- 3. ✖ 388
- 4. ✔ 396

Question Number : 56 Question Id : 16265356 Question Type : MCQ Option Shuffling : Yes Display Question Number : Yes Single Line Question Option : No Option Orientation : Vertical

Correct Marks : 1 Wrong Marks : 0.25

A और C की चालों में 5 : 11 का अनुपात है। B ने 450 किमी की दूरी 6 घंटे में तय की। A की चाल B के चाल का दो-तिहाई है। C द्वारा 3.6 घंटे में तय की गई दूरी (किमी में) है:

Options :

1. ✖ 270

2. ✖ 290

3. ✖ 388

4. ✔ 396

Question Number : 57 Question Id : 16265357 Question Type : MCQ Option Shuffling : Yes Display Question Number : Yes Single Line Question Option : No Option Orientation : Vertical

Correct Marks : 1 Wrong Marks : 0.25

A can do a piece of work in 10 days, B can do it in 15 days and C can do it in 20 days. They started the work together. A leaves off after 2 days and B leaves off after 4 days from the beginning. C will complete the remaining work in:

Options :

1. ✖ $5\frac{1}{3}$ days

2. ✔ $6\frac{2}{3}$ days

3. ✖ $5\frac{2}{3}$ days

4. ✖ $10\frac{2}{3}$ days

Question Number : 57 Question Id : 16265357 Question Type : MCQ Option Shuffling : Yes Display Question Number : Yes Single Line Question Option : No Option Orientation : Vertical

Correct Marks : 1 Wrong Marks : 0.25

किसी काम को A 10 दिन में, B 15 दिन में तथा C 20 दिन में कर सकते हैं। उन्होंने मिलकर काम आरंभ किया। 2 दिन पश्चात A काम छोड़कर चला जाता है और आरंभ से 4 दिन पश्चात B भी चला जाता है। C अकेला शेष काम को पूरा निम्न दिन में करेगा:

Options :

1. ✖ $5\frac{1}{3}$ दिन

2. ✔ $6\frac{2}{3}$ दिन

3. ✖ $5\frac{2}{3}$ दिन

4. ✖ $10\frac{2}{3}$ दिन

Question Number : 58 Question Id : 16265358 Question Type : MCQ Option Shuffling : Yes Display Question Number : Yes Single Line Question Option : No Option Orientation : Vertical

Correct Marks : 1 Wrong Marks : 0.25

A and B can do a piece of work in 20 days. After working for 5 days together, C assisted them and the work was completed in next 10 days. If C does as much work in 4 days as B does in 3 days, how long B and C together will take to complete the same work?

Options :

1. ✖ $13\frac{1}{3}$ days

2. ✖ $13\frac{2}{3}$ days

3. ✔ $17\frac{1}{7}$ days

4. ✖ $17\frac{2}{7}$ days

Question Number : 58 Question Id : 16265358 Question Type : MCQ Option Shuffling : Yes Display Question Number : Yes Single Line Question Option : No Option Orientation : Vertical

Correct Marks : 1 Wrong Marks : 0.25

A और B मिलकर एक काम को 20 दिन में कर सकते हैं। पांच दिन एक साथ करने के पश्चात C के साथ मिलकर काम को अगले 10 दिन में पूरा करते हैं। यदि C द्वारा 4 दिन में किया गया काम B द्वारा 3 दिन में किए गए काम के बराबर है तो B और C मिलकर उसी काम को कितने समय में पूरा करेंगे?

Options :

1. ✖ $13\frac{1}{3}$ दिन

2. ✖ $13\frac{2}{3}$ दिन

3. ✔ $17\frac{1}{7}$ दिन

4. ✖ $17\frac{2}{7}$ दिन

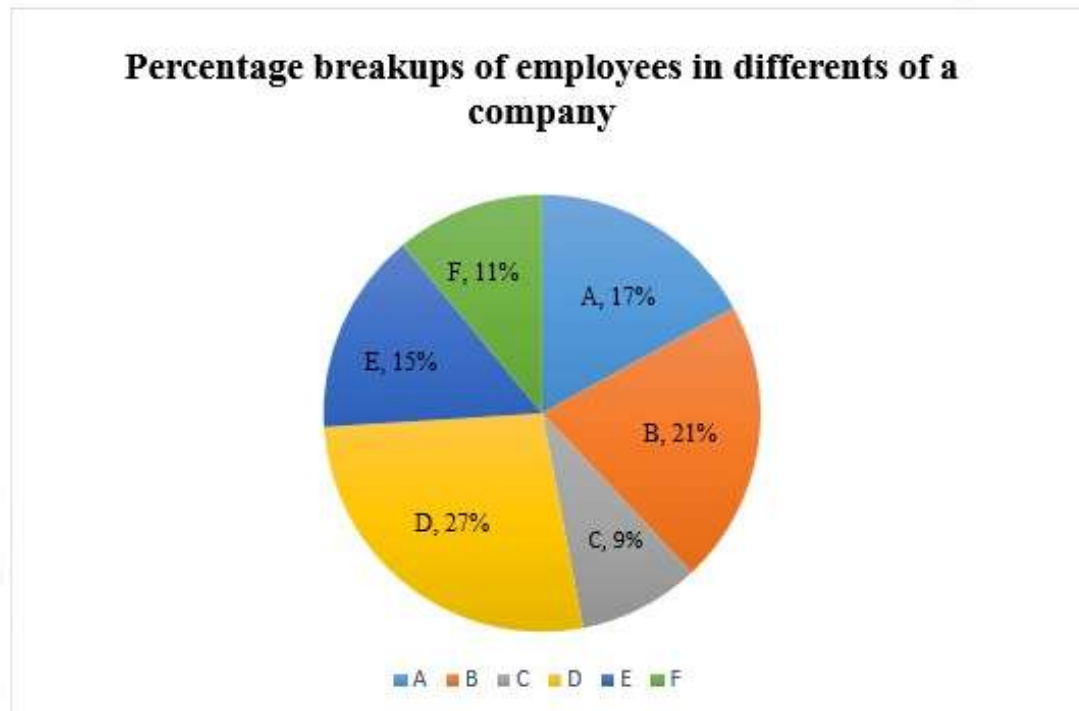
Sub-Section Number: 2
Sub-Section Id: 1626534
Question Shuffling Allowed : Yes

Question Id : 16265359 Question Type : COMPREHENSION Sub Question Shuffling Allowed : Yes Group Comprehension Questions : No

Question Numbers : (59 to 60)

Question Label : Comprehension

Study the following Pie-chart and table and answer the questions.



Total number of employees = 6300

Ratio of Males and Female employees

Department	Male : Female	
A	11	6
B	10	11
C	4	3
D	13	14
E	7	8
F	5	6

Sub questions

Question Number : 59 Question Id : 16265360 Question Type : MCQ Option Shuffling : Yes Display Question Number : Yes Single Line Question Option : No Option Orientation : Vertical


Correct Marks : 1 Wrong Marks : 0.25


The ratio of the number of male employees in departments B, D and E together to the number of female employees in A, E and F together is:

Options :

1.  3 : 2

2.  3 : 4

3.  31 : 21

4.  63 : 43

Question Number : 60 Question Id : 16265361 Question Type : MCQ Option Shuffling : Yes Display Question Number : Yes Single Line Question Option : No Option Orientation : Vertical

Correct Marks : 1 Wrong Marks : 0.25

Total number of employees in department E is what percent less than the total number of female employees in departments C and D?

Options :

1.  14

2.  15

3.  16

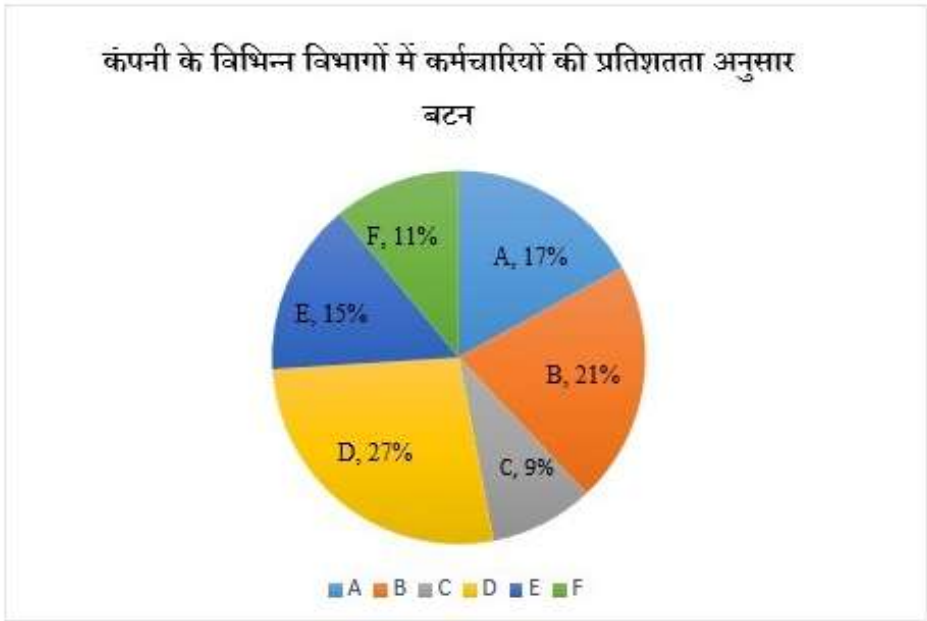
4.  19

Question Id : 16265359 Question Type : COMPREHENSION Sub Question Shuffling Allowed : Yes Group Comprehension Questions : No

Question Numbers : (59 to 60)

Question Label : Comprehension

निम्न पाई चार्ट का और सारणी का अध्ययन करके उत्तर दीजिए:



कर्मचारियों की कुल संख्या = 6300
पुरुषों और महिला कर्मचारियों का अनुपात

विभाग	पुरुष : महिला	
A	11	6
B	10	11
C	4	3
D	13	14
E	7	8
F	5	6

Sub questions

Question Number : 59 Question Id : 16265360 Question Type : MCQ Option Shuffling : Yes Display Question Number : Yes Single Line Question Option : No Option Orientation : Vertical Correct Marks : 1 Wrong Marks : 0.25

विभागों B, D तथा E में पुरुष कर्मचारियों की कुल संख्या का विभागों A, E तथा F में महिला कर्मचारियों की कुल संख्या से अनुपात है:

Options :

1. ✓ 3 : 2

2. ✖ 3 : 4

3. ✖ 31 : 21

4. ✖ 63 : 43

Question Number : 60 Question Id : 16265361 Question Type : MCQ Option Shuffling : Yes Display Question Number : Yes Single Line Question Option : No Option Orientation : Vertical

Correct Marks : 1 Wrong Marks : 0.25

विभाग E में कर्मचारियों की कुल संख्या विभागों C और D में महिला कर्मचारियों की कुल संख्या में कितने प्रतिशत कम है?

Options :

1. ✖ 14

2. ✖ 15

3. ✔ 16

4. ✖ 19

General English

Group Number :	4
Group Id :	1626534
Group Maximum Duration :	0
Group Minimum Duration :	0
Revisit allowed for view? :	No
Revisit allowed for edit? :	No
Break time:	0
Group Marks:	20
Revisit allowed for group Instructions? :	Yes
Maximum Instruction Time:	0
Minimum Instruction Time:	0

General English

Section Id :	1626534
Section Number :	1
Section type :	Online
Mandatory or Optional:	Mandatory
Number of Questions:	16
Number of Questions to be attempted:	16
Section Marks:	20

Display Number Panel:

Yes

Group All Questions:

No

Sub-Section Number:

1

Sub-Section Id:

1626535

Question Shuffling Allowed :

Yes


Question Number : 61 Question Id : 16265362 Question Type : MCQ Option Shuffling : Yes Display Question Number : Yes Single Line Question Option : No Option Orientation : Vertical

Correct Marks : 1 Wrong Marks : 0.25

Select the most appropriate option to fill in the blank.

Jayati and Madhav were wearing their raincoats. Therefore, when the rain came, they _____ wet.

Options :

1.  do not get
2.  didn't get
3.  aren't getting
4.  haven't got



Question Number : 61 Question Id : 16265362 Question Type : MCQ Option Shuffling : Yes Display Question Number : Yes Single Line Question Option : No Option Orientation : Vertical

Correct Marks : 1 Wrong Marks : 0.25

Select the most appropriate option to fill in the blank.

Jayati and Madhav were wearing their raincoats. Therefore, when the rain came, they _____ wet.

Options :

1.  do not get
2.  didn't get
3.  aren't getting
4.  haven't got

Question Number : 62 Question Id : 16265363 Question Type : MCQ Option Shuffling : Yes Display Question Number : Yes Single Line Question Option : No Option Orientation : Vertical

Correct Marks : 1 Wrong Marks : 0.25

Select the most appropriate option to fill in the blank.

Yesterday, I noticed that when the teacher was teaching, you _____ to her.

Options :

1. ✖ do not listen
2. ✖ are not listening
3. ✔ were not listening
4. ✖ have not listened

Question Number : 62 Question Id : 16265363 Question Type : MCQ Option Shuffling : Yes Display Question Number : Yes Single Line Question Option : No Option Orientation : Vertical

Correct Marks : 1 Wrong Marks : 0.25

Select the most appropriate option to fill in the blank.

Yesterday, I noticed that when the teacher was teaching, you _____ to her.

Options :

1. ✖ do not listen
2. ✖ are not listening
3. ✔ were not listening
4. ✖ have not listened

Question Number : 63 Question Id : 16265364 Question Type : MCQ Option Shuffling : Yes Display Question Number : Yes Single Line Question Option : No Option Orientation : Vertical

Correct Marks : 1 Wrong Marks : 0.25

Select the most appropriate option to fill in the blank.

I don't like to drive in the Delhi traffic _____ I use Metro and auto.

Options :

1. ✖ even if
2. ✔ so
3. ✖ because
4. ✖ otherwise

Question Number : 63 Question Id : 16265364 Question Type : MCQ Option Shuffling : Yes Display Question Number : Yes Single Line Question Option : No Option Orientation : Vertical

Correct Marks : 1 Wrong Marks : 0.25

Select the most appropriate option to fill in the blank.

I don't like to drive in the Delhi traffic _____ I use Metro and auto.

Options :

1. ✖ even if
2. ✔ so
3. ✖ because
4. ✖ otherwise

Question Number : 64 Question Id : 16265365 Question Type : MCQ Option Shuffling : Yes Display Question Number : Yes Single Line Question Option : No Option Orientation : Vertical

Correct Marks : 1 Wrong Marks : 0.25

Select the most appropriate option to fill in the blank.

I was working on my Mathematics _____ Taru and Kavya were playing chess.

Options :

1. ✖ instead
2. ✖ however
3. ✔ meanwhile
4. ✖ therefore

Question Number : 64 Question Id : 16265365 Question Type : MCQ Option Shuffling : Yes Display Question Number : Yes Single Line Question Option : No Option Orientation : Vertical

Correct Marks : 1 Wrong Marks : 0.25

Select the most appropriate option to fill in the blank.

I was working on my Mathematics _____ Taru and Kavya were playing chess.

Options :

1. ✖ instead
2. ✖ however
3. ✔ meanwhile

4. ✖ therefore

Question Number : 65 Question Id : 16265366 Question Type : MCQ Option Shuffling : Yes Display Question Number : Yes Single Line Question Option : No Option Orientation : Vertical

Correct Marks : 1 Wrong Marks : 0.25

Select the most appropriate option to fill in the blank.

A country _____ striking natural beauty _____ a stunning Adriatic coastline, Croatia is very popular as a tourist destination.

Options :

1. ✖ with ; in

2. ✔ of ; with

3. ✖ for ; at

4. ✖ of ; on

Question Number : 65 Question Id : 16265366 Question Type : MCQ Option Shuffling : Yes Display Question Number : Yes Single Line Question Option : No Option Orientation : Vertical

Correct Marks : 1 Wrong Marks : 0.25

Select the most appropriate option to fill in the blank.

A country _____ striking natural beauty _____ a stunning Adriatic coastline, Croatia is very popular as a tourist destination.

Options :

1. ✖ with ; in

2. ✔ of ; with

3. ✖ for ; at

4. ✖ of ; on

Question Number : 66 Question Id : 16265367 Question Type : MCQ Option Shuffling : Yes Display Question Number : Yes Single Line Question Option : No Option Orientation : Vertical

Correct Marks : 1 Wrong Marks : 0.25

Select the most appropriate option to fill in the blank.

The communists lost _____ the conservatives _____ the first free elections _____ Croatia.

Options :

1. ✖ for ; with ; in

2. ✖ by ; to ; for

3. ✖ in ; by ; at

4. ✔ to ; in ; in

Question Number : 66 Question Id : 16265367 Question Type : MCQ Option Shuffling : Yes Display Question Number : Yes Single Line Question Option : No Option Orientation : Vertical

Correct Marks : 1 Wrong Marks : 0.25

Select the most appropriate option to fill in the blank.

The communists lost _____ the conservatives _____ the first free elections _____ Croatia.

Options :

1. ✖ for ; with ; in

2. ✖ by ; to ; for

3. ✖ in ; by ; at

4. ✔ to ; in ; in

Question Number : 67 Question Id : 16265368 Question Type : MCQ Option Shuffling : Yes Display Question Number : Yes Single Line Question Option : No Option Orientation : Vertical

Correct Marks : 1 Wrong Marks : 0.25

Select the most appropriate option to fill in the blank.

You can still _____ the video that she has uploaded on the You Tube.

Options :

1. ✔ access

2. ✖ penetrate

3. ✖ infiltrate

4. ✖ attack

Question Number : 67 Question Id : 16265368 Question Type : MCQ Option Shuffling : Yes Display Question Number : Yes Single Line Question Option : No Option Orientation : Vertical

Correct Marks : 1 Wrong Marks : 0.25

Select the most appropriate option to fill in the blank.

You can still _____ the video that she has uploaded on the You Tube.

Options :

1. ☒ access
2. ☐ penetrate
3. ☐ infiltrate
4. ☐ attack

Question Number : 68 Question Id : 16265369 Question Type : MCQ Option Shuffling : Yes Display Question Number : Yes Single Line Question Option : No Option Orientation : Vertical

Correct Marks : 1 Wrong Marks : 0.25

Select the most appropriate option to fill in the blank.

No one _____ that the intensity of the floods in Kerala would be so great that it would demolish village after village.

Options :

1. ☐ involved
2. ☐ examined
3. ☒ anticipated
4. ☐ watched

Question Number : 68 Question Id : 16265369 Question Type : MCQ Option Shuffling : Yes Display Question Number : Yes Single Line Question Option : No Option Orientation : Vertical

Correct Marks : 1 Wrong Marks : 0.25

Select the most appropriate option to fill in the blank.

No one _____ that the intensity of the floods in Kerala would be so great that it would demolish village after village.

Options :

1. ☐ involved
2. ☐ examined
3. ☒ anticipated
4. ☐ watched

Question Number : 69 Question Id : 16265370 Question Type : MCQ Option Shuffling : Yes Display Question Number : Yes Single Line Question Option : No Option Orientation : Vertical

Correct Marks : 1 Wrong Marks : 0.25

Select the most appropriate synonym of the given word.

RECKON

Options :

1. ✖ observe

2. ✖ explain

3. ✖ examine

4. ✔ imagine

Question Number : 69 Question Id : 16265370 Question Type : MCQ Option Shuffling : Yes Display Question Number : Yes Single Line Question Option : No Option Orientation : Vertical

Correct Marks : 1 Wrong Marks : 0.25

Select the most appropriate synonym of the given word.

RECKON

Options :

1. ✖ observe

2. ✖ explain

3. ✖ examine

4. ✔ imagine

Question Number : 70 Question Id : 16265371 Question Type : MCQ Option Shuffling : Yes Display Question Number : Yes Single Line Question Option : No Option Orientation : Vertical

Correct Marks : 1 Wrong Marks : 0.25

Select the most appropriate synonym of the given word.

IMMUNE

Options :

1. ✔ resistant

2. ✖ vulnerable

3. ✖ susceptible

4. ✖ helpless





Question Number : 70 Question Id : 16265371 Question Type : MCQ Option Shuffling : Yes Display Question Number : Yes Single Line Question Option : No Option Orientation : Vertical

Correct Marks : 1 Wrong Marks : 0.25

Select the most appropriate synonym of the given word.

IMMUNE

Options :

1.  resistant
2.  vulnerable
3.  susceptible
4.  helpless

Question Number : 71 Question Id : 16265372 Question Type : MCQ Option Shuffling : Yes Display Question Number : Yes Single Line Question Option : No Option Orientation : Vertical

Correct Marks : 1 Wrong Marks : 0.25

Select the most appropriate antonym of the given word.

SUBSIDE

Options :

1.  fall
2.  stand
3.  sink
4.  drop

Question Number : 71 Question Id : 16265372 Question Type : MCQ Option Shuffling : Yes Display Question Number : Yes Single Line Question Option : No Option Orientation : Vertical

Correct Marks : 1 Wrong Marks : 0.25

Select the most appropriate antonym of the given word.

SUBSIDE

Options :

1.  fall
2.  stand
3.  sink

4. ✖ drop

Question Number : 72 Question Id : 16265373 Question Type : MCQ Option Shuffling : Yes Display Question Number : Yes Single Line Question Option : No Option Orientation : Vertical

Correct Marks : 1 Wrong Marks : 0.25

Select the option which is NOT an antonym of another word by way of adding the prefix 'dis-'.

Options :

1. ✖ disqualify

2. ✖ disinterested

3. ✔ distinguished

4. ✖ disregard

Question Number : 72 Question Id : 16265373 Question Type : MCQ Option Shuffling : Yes Display Question Number : Yes Single Line Question Option : No Option Orientation : Vertical

Correct Marks : 1 Wrong Marks : 0.25

Select the option which is NOT an antonym of another word by way of adding the prefix 'dis-'.

Options :

1. ✖ disqualify

2. ✖ disinterested

3. ✔ distinguished

4. ✖ disregard

Question Number : 73 Question Id : 16265374 Question Type : MCQ Option Shuffling : Yes Display Question Number : Yes Single Line Question Option : No Option Orientation : Vertical

Correct Marks : 1 Wrong Marks : 0.25

Arrange parts of the sentence in meaningful and grammatically correct order.

A. recommend that

B. should be introduced

C. Researchers at the US National Library of Medicine

D. 'no selfie zones'

E. at dangerous spots to reduce deaths

Options :

1. ✖ CDAEB

2. ✓ CADBE

3. ✗ CEBAD

4. ✗ CBEDA

Question Number : 73 Question Id : 16265374 Question Type : MCQ Option Shuffling : Yes Display Question Number : Yes Single Line Question Option : No Option Orientation : Vertical

Correct Marks : 1 Wrong Marks : 0.25

Arrange parts of the sentence in meaningful and grammatically correct order.

- A. recommend that
- B. should be introduced
- C. Researchers at the US National Library of Medicine
- D. 'no selfie zones'
- E. at dangerous spots to reduce deaths

Options :

1. ✗ CDAEB

2. ✓ CADBE

3. ✗ CEBAD

4. ✗ CBEDA

Question Number : 74 Question Id : 16265375 Question Type : MCQ Option Shuffling : Yes Display Question Number : Yes Single Line Question Option : No Option Orientation : Vertical

Correct Marks : 1 Wrong Marks : 0.25

In the following sentence four words/phrases have been underlined. One of them is incorrect.

Archaeologists in the Netherlands have discovered a 2,000-year-old stretch of Roman road and the remains of a Roman village at the town of Katwijk, who once marked the northern boundary of the Roman Empire.

Options :

1. ✗ have discovered

2. ✗ and the remains of

3. ✗ at the town of

4. ✓ who once marked

Question Number : 74 Question Id : 16265375 Question Type : MCQ Option Shuffling : Yes Display Question Number : Yes Single Line Question Option : No Option Orientation : Vertical

Correct Marks : 1 Wrong Marks : 0.25

In the following sentence four words/phrases have been underlined. One of them is incorrect.

Archaeologists in the Netherlands have discovered a 2,000-year-old stretch of Roman road and the remains of a Roman village at the town of Katwijk, who once marked the northern boundary of the Roman Empire.

Options :

1. ✖ have discovered
2. ✖ and the remains of
3. ✖ at the town of
4. ✔ who once marked

Question Number : 75 Question Id : 16265376 Question Type : MCQ Option Shuffling : Yes Display Question Number : Yes Single Line Question Option : No Option Orientation : Vertical

Correct Marks : 1 Wrong Marks : 0.25

From the options given below choose the sentence that is NOT correct.

Options :

1. ✖ Moxi is a "socially intelligent" hospital robot that can autonomously pick up and deliver medical supplies.
2. ✖ The robot, developed by Diligent Robotics has gone into service at three hospitals in Texas as part of pilot programme.
3. ✔ Moxi take on non-patient-facing logistical tasks and reduce trips by nurses to supply rooms,
4. ✖ Diligent believes Moxi can free up nursing staff for other duties.

Question Number : 75 Question Id : 16265376 Question Type : MCQ Option Shuffling : Yes Display Question Number : Yes Single Line Question Option : No Option Orientation : Vertical

Correct Marks : 1 Wrong Marks : 0.25

From the options given below choose the sentence that is NOT correct.

Options :

1. ✖ Moxi is a "socially intelligent" hospital robot that can autonomously pick up and deliver medical supplies.
2. ✖ The robot, developed by Diligent Robotics has gone into service at three hospitals in Texas as part of pilot programme.
3. ✔ Moxi take on non-patient-facing logistical tasks and reduce trips by nurses to supply rooms,
4. ✖ Diligent believes Moxi can free up nursing staff for other duties.

Sub-Section Number:	2
Sub-Section Id:	1626536
Question Shuffling Allowed :	Yes

Question Id : 16265377 Question Type : COMPREHENSION Sub Question Shuffling Allowed : Yes Group Comprehension Questions : No
Question Numbers : (76 to 80)
Question Label : Comprehension

Read the following passage and answer the questions based on it.

The occurrence of a new insect pest, Fall Armyworm (FAW), has been recently reported in Karnataka and also parts of Andhra Pradesh, Telangana, Tamil Nadu, Maharashtra and Gujarat. The pest has been detected mainly in maize fields.

FAW is not new to the scientific community. This highly-destructive and invasive pest has been seen in the Americas since several decades, but its prevalence outside was noted for the first time in West Africa in early 2016. Since then, it has spread to 44 countries across the continent.

The adult moth of the pest migrates very fast — almost 100 km every night. It can, therefore, invade new areas quickly. Also, each female moth is capable of laying 1,500 eggs on an average. The entire lifecycle — from egg to new adult moth that lays fresh eggs — is completed in about 30 days during the summer months. The pest thrives on a wide spectrum of host crop plants: maize, sorghum, rice, sugarcane, soyabean, vegetables, etc.

Yet, FAW can be effectively managed through an integrated pest management (IPM) approach.

The FAW moth lays eggs on the plant's foliage (leaves). The egg stage lasts for only 2-3 days in warmer weather. The next larval stage is the most dangerous one whose entire duration is from 14 to 30 days, depending on the temperature and humidity conditions. The destruction of leaves, stems or flowers of the crop plants by the larva through feeding happens mostly at this stage. Once the larval stage is completed, the growing moth pupates in the soil — for 8-9 days. The nocturnal egg-laying adults live for about 10 days, while most active during warm and humid evenings.

Scientists at the University of Agricultural Sciences, Bengaluru have scientifically validated the incidence of FAW in maize fields across various districts of Karnataka. There have been isolated reports of the pest's presence in the maize-growing areas of other states, too. Fortunately, it has not caused any significant destruction as yet. But the fact that the moth can travel several hundred kilometers and lay eggs profusely during its lifespan calls for serious concern.

In such a scenario, policymakers — more so, in the states where the pest has already been detected — need to nip the problem in the bud. A mass awareness campaign is necessary to build awareness among farmers and extension workers on how to recognize the various stages of the insect and manage/control it with the right IPM interventions. An effective IPM strategy would need to incorporate host plant resistance (through breeding), biological and cultural control, and use of environmentally-safer chemical and bio-pesticides for crop protection. Spraying of chemicals should be avoided. Cultural control practices can work, especially when the FAW problem is still localised to particular geographies/crops. The eggs laid by the moths are discernible to the naked eye. Farmers can be trained to recognize and destroy the egg masses, so as to prevent the caterpillars from emerging.

Sub questions

Question Number : 76 Question Id : 16265378 Question Type : MCQ Option Shuffling : Yes Display Question Number : Yes Single Line Question Option : No Option Orientation : Vertical

Correct Marks : 1 Wrong Marks : 0.25

The main purpose of this article is to:

Options :

1. ✖ Show how India has dealt with the pest problem
2. ✖ Explain the life cycle of the pest FAW
3. ✔ Create awareness that effective measures can solve the pest problem
4. ✖ Highlight the problems created by FAW in different countries

Question Number : 77 Question Id : 16265379 Question Type : MCQ Option Shuffling : Yes Display Question Number : Yes Single Line Question Option : No Option Orientation : Vertical

Correct Marks : 1 Wrong Marks : 0.25

“Since then, it has spread to 44 countries across the continent.” Which continent is being referred to here?

Options :

1. ✔ Africa
2. ✖ North America
3. ✖ Asia
4. ✖ South America

Question Number : 78 Question Id : 16265380 Question Type : MCQ Option Shuffling : Yes Display Question Number : Yes Single Line Question Option : No Option Orientation : Vertical

Correct Marks : 1 Wrong Marks : 0.25

The FAW attacks a number of crops. However which is the crop where it has been mainly detected?

Options :

1. ✖ Rice
2. ✖ Sugarcane
3. ✖ Soyabean

4.  Maize


Question Number : 79 Question Id : 16265381 Question Type : MCQ Option Shuffling : Yes Display Question Number : Yes Single Line Question Option : No Option Orientation : Vertical

Correct Marks : 1 Wrong Marks : 0.25

What is the correct sequence of a moth's life cycle?

- A. eating of leaves, stems and flowers by the larva
- B. emerging of the adult moth
- C. laying of eggs on the plant's leaves
- D. pupating underground

Options :

1.  ABCD

2.  CADB

3.  BDAC


4.  DCBA


Question Number : 80 Question Id : 16265382 Question Type : MCQ Option Shuffling : Yes Display Question Number : Yes Single Line Question Option : No Option Orientation : Vertical


Correct Marks : 1 Wrong Marks : 0.25


How can the farmers best stop caterpillars from emerging?

Options :

1.  By biological and cultural control

2.  By spraying the fields with chemicals

3.  By destroying the eggs seen on the plants

4.  By using host plant resistance

Question Id : 16265377 Question Type : COMPREHENSION Sub Question Shuffling Allowed : Yes Group Comprehension Questions : No

Question Numbers : (76 to 80)

Question Label : Comprehension

Read the following passage and answer the questions based on it.

The occurrence of a new insect pest, Fall Armyworm (FAW), has been recently reported in Karnataka and also parts of Andhra Pradesh, Telangana, Tamil Nadu, Maharashtra and Gujarat. The pest has been detected mainly in maize fields.

FAW is not new to the scientific community. This highly-destructive and invasive pest has been seen in the Americas since several decades, but its prevalence outside was noted for the first time in West Africa in early 2016. Since then, it has spread to 44 countries across the continent.

The adult moth of the pest migrates very fast — almost 100 km every night. It can, therefore, invade new areas quickly. Also, each female moth is capable of laying 1,500 eggs on an average. The entire lifecycle — from egg to new adult moth that lays fresh eggs — is completed in about 30 days during the summer months. The pest thrives on a wide spectrum of host crop plants: maize, sorghum, rice, sugarcane, soyabean, vegetables, etc.

Yet, FAW can be effectively managed through an integrated pest management (IPM) approach.

The FAW moth lays eggs on the plant's foliage (leaves). The egg stage lasts for only 2-3 days in warmer weather. The next larval stage is the most dangerous one whose entire duration is from 14 to 30 days, depending on the temperature and humidity conditions. The destruction of leaves, stems or flowers of the crop plants by the larva through feeding happens mostly at this stage. Once the larval stage is completed, the growing moth pupates in the soil — for 8-9 days. The nocturnal egg-laying adults live for about 10 days, while most active during warm and humid evenings.

Scientists at the University of Agricultural Sciences, Bengaluru have scientifically validated the incidence of FAW in maize fields across various districts of Karnataka. There have been isolated reports of the pest's presence in the maize-growing areas of other states, too. Fortunately, it has not caused any significant destruction as yet. But the fact that the moth can travel several hundred kilometers and lay eggs profusely during its lifespan calls for serious concern.

In such a scenario, policymakers — more so, in the states where the pest has already been detected — need to nip the problem in the bud. A mass awareness campaign is necessary to build awareness among farmers and extension workers on how to recognize the various stages of the insect and manage/control it with the right IPM interventions. An effective IPM strategy would need to incorporate host plant resistance (through breeding), biological and cultural control, and use of environmentally-safer chemical and bio-pesticides for crop protection. Spraying of chemicals should be avoided. Cultural control practices can work, especially when the FAW problem is still localised to particular geographies/crops. The eggs laid by the moths are discernible to the naked eye. Farmers can be trained to recognize and destroy the egg masses, so as to prevent the caterpillars from emerging.

Sub questions

Question Number : 76 Question Id : 16265378 Question Type : MCQ Option Shuffling : Yes Display Question Number : Yes Single Line Question Option : No Option Orientation : Vertical

Correct Marks : 1 Wrong Marks : 0.25

The main purpose of this article is to:

Options :

1. ✖ Show how India has dealt with the pest problem
2. ✖ Explain the life cycle of the pest FAW
3. ✔ Create awareness that effective measures can solve the pest problem
4. ✖ Highlight the problems created by FAW in different countries

Question Number : 77 Question Id : 16265379 Question Type : MCQ Option Shuffling : Yes Display Question Number : Yes Single Line Question Option : No Option Orientation : Vertical

Correct Marks : 1 Wrong Marks : 0.25

“Since then, it has spread to 44 countries across the continent.” Which continent is being referred to here?

Options :

1. ✔ Africa
2. ✖ North America
3. ✖ Asia
4. ✖ South America

Question Number : 78 Question Id : 16265380 Question Type : MCQ Option Shuffling : Yes Display Question Number : Yes Single Line Question Option : No Option Orientation : Vertical

Correct Marks : 1 Wrong Marks : 0.25

The FAW attacks a number of crops. However which is the crop where it has been mainly detected?

Options :

1. ✖ Rice
2. ✖ Sugarcane
3. ✖ Soyabean

4. ✓ Maize

Question Number : 79 Question Id : 16265381 Question Type : MCQ Option Shuffling : Yes Display Question Number : Yes Single Line Question Option : No Option Orientation : Vertical

Correct Marks : 1 Wrong Marks : 0.25

What is the correct sequence of a moth's life cycle?

- A. eating of leaves, stems and flowers by the larva
- B. emerging of the adult moth
- C. laying of eggs on the plant's leaves
- D. pupating underground

Options :

1. ✗ ABCD

2. ✓ CADB

3. ✗ BDAC

4. ✗ DCBA

Question Number : 80 Question Id : 16265382 Question Type : MCQ Option Shuffling : Yes Display Question Number : Yes Single Line Question Option : No Option Orientation : Vertical

Correct Marks : 1 Wrong Marks : 0.25

How can the farmers best stop caterpillars from emerging?

Options :

1. ✗ By biological and cultural control

2. ✗ By spraying the fields with chemicals

3. ✓ By destroying the eggs seen on the plants

4. ✗ By using host plant resistance

General Hindi

Group Number :	5
Group Id :	1626535
Group Maximum Duration :	0
Group Minimum Duration :	0
Revisit allowed for view? :	No
Revisit allowed for edit? :	No
Break time:	0

Group Marks:	20
Revisit allowed for group Instructions? :	Yes
Maximum Instruction Time:	0
Minimum Instruction Time:	0

General Hindi

Section Id :	1626535
Section Number :	1
Section type :	Online
Mandatory or Optional:	Mandatory
Number of Questions:	16
Number of Questions to be attempted:	16
Section Marks:	20
Display Number Panel:	Yes
Group All Questions:	No

Sub-Section Number:	1
Sub-Section Id:	1626537
Question Shuffling Allowed :	Yes

Question Id : 16265383 Question Type : COMPREHENSION Sub Question Shuffling Allowed : Yes Group Comprehension Questions : No

Question Numbers : (81 to 85)

Question Label : Comprehension

नीचे दिये गए गद्यांश को पढ़कर पूछे गये प्रश्नों के उत्तर दीजिए।

डॉ. नगेंद्र की पुस्तक सुमित्रानंदन पंत (1938) शुक्ल जी के जीवन काल में ही प्रकाशित हो गई थी। उन्होंने छायावाद की तकनीक पर विचार करने के लिए इस पुस्तक की प्रशंसा भी की थी। डॉ. नगेंद्र ने छायावाद को 'स्थूल के प्रति सूक्ष्म का विद्रोह' कहा और उसे केवल 'शैली' मानना उचित नहीं समझा। डॉ. नगेंद्र ने साकेत: एक अध्ययन (1939) भी लिखा। इन दोनों पुस्तकों में पंत और मैथिलीशरण गुप्त की काव्य की सहृदयता के साथ समीक्षा की गई है। डॉ. नगेंद्र ने पंत के काव्य में विचारों की भूमिका को सबसे महत्वपूर्ण माना है, उनके इंद्रियबोध की संवेदनशीलता को रेखांकित किया है। साकेत को डॉ. नगेंद्र ने 'जीवनवादी' काव्य कहा है।

Sub questions

Question Number : 81 Question Id : 16265384 Question Type : MCQ Option Shuffling : Yes Display Question Number : Yes Single Line Question Option : No Option Orientation : Vertical
Correct Marks : 1 Wrong Marks : 0.25

गद्यांश में उल्लिखित 'सुमित्रानंदन पंत' पुस्तक के लेखक हैं:

Options :

1. ✖ सुमित्रानंदन पंत
2. ✖ मैथिलीशरण गुप्त
3. ✔ डॉ. नगेंद्र
4. ✖ रामचन्द्र शुक्ल

Question Number : 82 Question Id : 16265385 Question Type : MCQ Option Shuffling : Yes Display Question Number : Yes Single Line Question Option : No Option Orientation : Vertical

Correct Marks : 1 Wrong Marks : 0.25

'सुमित्रानंदन पंत' पुस्तक की प्रशंसा किसने की?

Options :

1. ✖ सुमित्रानंदन पंत
2. ✖ मैथिलीशरण गुप्त
3. ✖ निराला
4. ✔ रामचन्द्र शुक्ल

Question Number : 83 Question Id : 16265386 Question Type : MCQ Option Shuffling : Yes Display Question Number : Yes Single Line Question Option : No Option Orientation : Vertical

Correct Marks : 1 Wrong Marks : 0.25

डॉ. नगेंद्र ने 'स्थूल के प्रति सूक्ष्म का विद्रोह' किसे कहा?

Options :

1. ✔ छायावाद
2. ✖ प्रगतिवाद
3. ✖ प्रयोगवाद

4. ✖ नयी कविता

Question Number : 84 Question Id : 16265387 Question Type : MCQ Option Shuffling : Yes Display Question Number : Yes Single Line Question Option : No Option Orientation : Vertical

Correct Marks : 1 Wrong Marks : 0.25

किस रचना को डॉ. नगेंद्र ने 'जीवनवादी' काव्य कहा?

Options :

1. ✖ कामायनी

2. ✔ साकेत

3. ✖ पल्लव

4. ✖ कुरुक्षेत्र

Question Number : 85 Question Id : 16265388 Question Type : MCQ Option Shuffling : Yes Display Question Number : Yes Single Line Question Option : No Option Orientation : Vertical

Correct Marks : 1 Wrong Marks : 0.25

डॉ. नगेंद्र ने पंत के काव्य में किसकी भूमिका को सबसे महत्वपूर्ण माना है?

Options :

1. ✖ भाव

2. ✔ विचार

3. ✖ भाषा

4. ✖ रस

Question Id : 16265383 Question Type : COMPREHENSION Sub Question Shuffling Allowed : Yes Group Comprehension Questions : No

Question Numbers : (81 to 85)

Question Label : Comprehension

नीचे दिये गए गद्यांश को पढ़कर पूछे गये प्रश्नों के उत्तर दीजिए।

डॉ. नगेंद्र की पुस्तक सुमित्रानंदन पंत (1938) शुक्ल जी के जीवन काल में ही प्रकाशित हो गई थी। उन्होंने छायावाद की तकनीक पर विचार करने के लिए इस पुस्तक की प्रशंसा भी की थी। डॉ. नगेंद्र ने छायावाद को 'स्थूल के प्रति सूक्ष्म का विद्रोह' कहा और उसे केवल 'शैली' मानना उचित नहीं समझा। डॉ. नगेंद्र ने साकेत: एक अध्ययन (1939) भी लिखा। इन दोनों पुस्तकों में पंत और मैथिलीशरण गुप्त की काव्य की सहृदयता के साथ समीक्षा की गई है। डॉ. नगेंद्र ने पंत के काव्य में विचारों की भूमिका को सबसे महत्वपूर्ण माना है, उनके इंद्रियबोध की संवेदनशीलता को रेखांकित किया है। साकेत को डॉ. नगेंद्र ने 'जीवनवादी' काव्य कहा है।

Sub questions

Question Number : 81 Question Id : 16265384 Question Type : MCQ Option Shuffling : Yes Display Question Number : Yes Single Line Question Option : No Option Orientation : Vertical

Correct Marks : 1 Wrong Marks : 0.25

गद्यांश में उल्लिखित 'सुमित्रानंदन पंत' पुस्तक के लेखक हैं:

Options :

1. ✖ सुमित्रानंदन पंत
2. ✖ मैथिलीशरण गुप्त
3. ✔ डॉ. नगेंद्र
4. ✖ रामचन्द्र शुक्ल

Question Number : 82 Question Id : 16265385 Question Type : MCQ Option Shuffling : Yes Display Question Number : Yes Single Line Question Option : No Option Orientation : Vertical

Correct Marks : 1 Wrong Marks : 0.25

'सुमित्रानंदन पंत' पुस्तक की प्रशंसा किसने की?

Options :

1. ✖ सुमित्रानंदन पंत
2. ✖ मैथिलीशरण गुप्त

3. ✖ निराला

4. ✔ रामचन्द्र शुक्ल

Question Number : 83 Question Id : 16265386 Question Type : MCQ Option Shuffling : Yes Display Question Number : Yes Single Line Question Option : No Option Orientation : Vertical

Correct Marks : 1 Wrong Marks : 0.25

डॉ. नगेंद्र ने 'स्थूल के प्रति सूक्ष्म का विद्रोह' किसे कहा?

Options :

1. ✔ छायावाद

2. ✖ प्रगतिवाद

3. ✖ प्रयोगवाद

4. ✖ नयी कविता

Question Number : 84 Question Id : 16265387 Question Type : MCQ Option Shuffling : Yes Display Question Number : Yes Single Line Question Option : No Option Orientation : Vertical

Correct Marks : 1 Wrong Marks : 0.25

किस रचना को डॉ. नगेंद्र ने 'जीवनवादी' काव्य कहा?

Options :

1. ✖ कामायनी

2. ✔ साकेत

3. ✖ पल्लव

4. ✖ कुरुक्षेत्र

Question Number : 85 Question Id : 16265388 Question Type : MCQ Option Shuffling : Yes Display Question Number : Yes Single Line Question Option : No Option Orientation : Vertical

Correct Marks : 1 Wrong Marks : 0.25

डॉ. नगेंद्र ने पंत के काव्य में किसकी भूमिका को सबसे महत्वपूर्ण माना है?

Options :

1. ✖ भाव
2. ✔ विचार
3. ✖ भाषा
4. ✖ रस

Sub-Section Number: 2
Sub-Section Id: 1626538
Question Shuffling Allowed : Yes

Question Number : 86 Question Id : 16265389 Question Type : MCQ Option Shuffling : Yes Display Question Number : Yes Single Line Question Option : No Option Orientation : Vertical

Correct Marks : 1 Wrong Marks : 0.25

निम्नलिखित में कौन सा शब्द तत्सम है?

Options :

1. ✖ रानी
2. ✖ रात
3. ✔ रजनी
4. ✖ यहाँ

Question Number : 86 Question Id : 16265389 Question Type : MCQ Option Shuffling : Yes Display Question Number : Yes Single Line Question Option : No Option Orientation : Vertical

Correct Marks : 1 Wrong Marks : 0.25

निम्नलिखित में कौन सा शब्द तत्सम है?

Options :

1. ✖ रानी
2. ✖ रात
3. ✔ रजनी
4. ✖ यहाँ

Question Number : 87 Question Id : 16265390 Question Type : MCQ Option Shuffling : Yes Display Question Number : Yes Single Line Question Option : No Option Orientation : Vertical

Correct Marks : 1 Wrong Marks : 0.25

निम्नलिखित में तद्रव शब्द कौन सा है?

Options :

1. ✖ बिन्दु
2. ✖ वृद्ध
3. ✖ व्यतीत
4. ✔ भला

Question Number : 87 Question Id : 16265390 Question Type : MCQ Option Shuffling : Yes Display Question Number : Yes Single Line Question Option : No Option Orientation : Vertical

Correct Marks : 1 Wrong Marks : 0.25

निम्नलिखित में तद्रव शब्द कौन सा है?

Options :

1. ✖ बिन्दु
2. ✖ वृद्ध
3. ✖ व्यतीत
4. ✔ भला

Question Number : 88 Question Id : 16265391 Question Type : MCQ Option Shuffling : Yes Display Question Number : Yes Single Line Question Option : No Option Orientation : Vertical

Correct Marks : 1 Wrong Marks : 0.25

निम्नलिखित में व्यक्तिवाचक संज्ञा कौन सी है?

Options :

1. ✔ जापान
2. ✖ गाय
3. ✖ मकान
4. ✖ चाँदी

Question Number : 88 Question Id : 16265391 Question Type : MCQ Option Shuffling : Yes Display Question Number : Yes Single Line Question Option : No Option Orientation : Vertical

Correct Marks : 1 Wrong Marks : 0.25

निम्नलिखित में व्यक्तिवाचक संज्ञा कौन सी है?

Options :

1. ☒ जापान
2. ☐ गाय
3. ☐ मकान
4. ☐ चाँदी

Question Number : 89 Question Id : 16265392 Question Type : MCQ Option Shuffling : Yes Display Question Number : Yes Single Line Question Option : No Option Orientation : Vertical

Correct Marks : 1 Wrong Marks : 0.25

उत्तम पुरुष सर्वनाम है:

Options :

1. ☐ तुम
2. ☐ वह
3. ☒ मैं
4. ☐ आप

Question Number : 89 Question Id : 16265392 Question Type : MCQ Option Shuffling : Yes Display Question Number : Yes Single Line Question Option : No Option Orientation : Vertical

Correct Marks : 1 Wrong Marks : 0.25

उत्तम पुरुष सर्वनाम है:

Options :

1. ☐ तुम
2. ☐ वह
3. ☒ मैं
4. ☐ आप

Question Number : 90 Question Id : 16265393 Question Type : MCQ Option Shuffling : Yes Display Question Number : Yes Single Line Question Option : No Option Orientation : Vertical

Correct Marks : 1 Wrong Marks : 0.25

निम्नलिखित में कौन सा शब्द अव्यय है?

Options :

1. ✖ आगामी
2. ✔ तथा
3. ✖ सुडौल
4. ✖ नीला

Question Number : 90 Question Id : 16265393 Question Type : MCQ Option Shuffling : Yes Display Question Number : Yes Single Line Question Option : No Option Orientation : Vertical

Correct Marks : 1 Wrong Marks : 0.25

निम्नलिखित में कौन सा शब्द अव्यय है?

Options :

1. ✖ आगामी
2. ✔ तथा
3. ✖ सुडौल
4. ✖ नीला

Question Number : 91 Question Id : 16265394 Question Type : MCQ Option Shuffling : Yes Display Question Number : Yes Single Line Question Option : No Option Orientation : Vertical

Correct Marks : 1 Wrong Marks : 0.25

‘अतएव’ का संधि-विच्छेद होगा:

Options :

1. ✔ अतः + एव
2. ✖ अत + एव
3. ✖ अता + एव
4. ✖ अते + व

Question Number : 91 Question Id : 16265394 Question Type : MCQ Option Shuffling : Yes Display Question Number : Yes Single Line Question Option : No Option Orientation : Vertical

Correct Marks : 1 Wrong Marks : 0.25

‘अतएव’ का संधि-विच्छेद होगा:

Options :

1. ✓ अतः + एव

2. ✗ अत + एव

3. ✗ अता + एव

4. ✗ अते + व

Question Number : 92 Question Id : 16265395 Question Type : MCQ Option Shuffling : Yes Display Question Number : Yes Single Line Question Option : No Option Orientation : Vertical

Correct Marks : 1 Wrong Marks : 0.25

‘बराबर’ में समास है:

Options :

1. ✗ द्वंद्व

2. ✗ दविगु

3. ✗ तत्पुरुष

4. ✓ अव्ययीभाव

Question Number : 92 Question Id : 16265395 Question Type : MCQ Option Shuffling : Yes Display Question Number : Yes Single Line Question Option : No Option Orientation : Vertical

Correct Marks : 1 Wrong Marks : 0.25

‘बराबर’ में समास है:

Options :

1. ✗ द्वंद्व

2. ✗ दविगु

3. ✗ तत्पुरुष

4. ✓ अव्ययीभाव

Question Number : 93 Question Id : 16265396 Question Type : MCQ Option Shuffling : Yes Display Question Number : Yes Single Line Question Option : No Option Orientation : Vertical

Correct Marks : 1 Wrong Marks : 0.25

निम्नलिखित में कौन सा शब्द पुलिङ्ग है?

Options :

1. ✖ आहट
2. ✔ आभार
3. ✖ आँख
4. ✖ इच्छा

Question Number : 93 Question Id : 16265396 Question Type : MCQ Option Shuffling : Yes Display Question Number : Yes Single Line Question Option : No Option Orientation : Vertical

Correct Marks : 1 Wrong Marks : 0.25

निम्नलिखित में कौन सा शब्द पुलिंग है?

Options :

1. ✖ आहट
2. ✔ आभार
3. ✖ आँख
4. ✖ इच्छा

Question Number : 94 Question Id : 16265397 Question Type : MCQ Option Shuffling : Yes Display Question Number : Yes Single Line Question Option : No Option Orientation : Vertical

Correct Marks : 1 Wrong Marks : 0.25

‘अभियोग’ में उपसर्ग है:

Options :

1. ✖ अ
2. ✖ आ
3. ✔ अभि
4. ✖ योग

Question Number : 94 Question Id : 16265397 Question Type : MCQ Option Shuffling : Yes Display Question Number : Yes Single Line Question Option : No Option Orientation : Vertical

Correct Marks : 1 Wrong Marks : 0.25

‘अभियोग’ में उपसर्ग है:

Options :

1. ✖ अ

2. ✖ आ

3. ✔ अभि

4. ✖ योग

Question Number : 95 Question Id : 16265398 Question Type : MCQ Option Shuffling : Yes Display Question Number : Yes Single Line Question Option : No Option Orientation : Vertical

Correct Marks : 1 Wrong Marks : 0.25

‘भतीजा’ में प्रत्यय है:

Options :

1. ✔ जा

2. ✖ ज

3. ✖ तीजा

4. ✖ भ

Question Number : 95 Question Id : 16265398 Question Type : MCQ Option Shuffling : Yes Display Question Number : Yes Single Line Question Option : No Option Orientation : Vertical

Correct Marks : 1 Wrong Marks : 0.25

‘भतीजा’ में प्रत्यय है:

Options :

1. ✔ जा

2. ✖ ज

3. ✖ तीजा

4. ✖ भ

Question Number : 96 Question Id : 16265399 Question Type : MCQ Option Shuffling : Yes Display Question Number : Yes Single Line Question Option : No Option Orientation : Vertical

Correct Marks : 1 Wrong Marks : 0.25

‘यमुना’ का पर्यायवाची है:

Options :

1. ✖ मन्दाकिनी

2. ✖ सुरसरिता

3. ✖ तरंगिणी

4. ✔ कृष्णा

Question Number : 96 Question Id : 16265399 Question Type : MCQ Option Shuffling : Yes Display Question Number : Yes Single Line Question Option : No Option Orientation : Vertical

Correct Marks : 1 Wrong Marks : 0.25

‘यमुना’ का पर्यायवाची है:

Options :

1. ✖ मन्दाकिनी

2. ✖ सुरसरिता

3. ✖ तरंगिणी

4. ✔ कृष्णा

Question Number : 97 Question Id : 162653100 Question Type : MCQ Option Shuffling : Yes Display Question Number : Yes Single Line Question Option : No Option Orientation : Vertical

Correct Marks : 1 Wrong Marks : 0.25

‘स्वाभाविक’ का विलोम होगा:

Options :

1. ✖ भाविक

2. ✖ पराभाविक

3. ✔ अस्वाभाविक

4. ✖ प्राकृतिक

Question Number : 97 Question Id : 162653100 Question Type : MCQ Option Shuffling : Yes Display Question Number : Yes Single Line Question Option : No Option Orientation : Vertical

Correct Marks : 1 Wrong Marks : 0.25

‘स्वाभाविक’ का विलोम होगा:

Options :

1. ✖ भाविक

2. ✖ पराभाविक

3. ✓ अस्वाभाविक

4. ✗ प्राकृतिक

Question Number : 98 Question Id : 162653101 Question Type : MCQ Option Shuffling : Yes Display Question Number : Yes
Single Line Question Option : No Option Orientation : Vertical
Correct Marks : 1 Wrong Marks : 0.25

‘अलग-अलग अवयवों को एक में जोड़ना’ के लिए एक शब्द होगा:

Options :

1. ✗ विश्लेषण

2. ✓ संश्लेषण

3. ✗ विखंडन

4. ✗ विग्रह

Question Number : 98 Question Id : 162653101 Question Type : MCQ Option Shuffling : Yes Display Question Number : Yes
Single Line Question Option : No Option Orientation : Vertical
Correct Marks : 1 Wrong Marks : 0.25

‘अलग-अलग अवयवों को एक में जोड़ना’ के लिए एक शब्द होगा:

Options :

1. ✗ विश्लेषण

2. ✓ संश्लेषण

3. ✗ विखंडन

4. ✗ विग्रह

Question Number : 99 Question Id : 162653102 Question Type : MCQ Option Shuffling : Yes Display Question Number : Yes
Single Line Question Option : No Option Orientation : Vertical
Correct Marks : 1 Wrong Marks : 0.25

निम्नलिखित में शुद्ध वर्तनी वाला शब्द है:

Options :

1. ✗ प्रदेशिक

2. ✗ प्रदेशीक

3. ✖ प्रादेशीक

4. ✔ प्रादेशिक

Question Number : 99 Question Id : 162653102 Question Type : MCQ Option Shuffling : Yes Display Question Number : Yes
Single Line Question Option : No Option Orientation : Vertical

Correct Marks : 1 Wrong Marks : 0.25

निम्नलिखित में शुद्ध वर्तनी वाला शब्द है:

Options :

1. ✖ प्रदेशिक

2. ✖ प्रदेशीक

3. ✖ प्रादेशीक

4. ✔ प्रादेशिक

Question Number : 100 Question Id : 162653103 Question Type : MCQ Option Shuffling : Yes Display Question Number : Yes
Single Line Question Option : No Option Orientation : Vertical

Correct Marks : 1 Wrong Marks : 0.25

‘मैंने पुस्तकालय जाना है।’ वाक्य में अशुद्ध है:

Options :

1. ✔ मैंने

2. ✖ पुस्तकालय

3. ✖ जाना

4. ✖ है।

Question Number : 100 Question Id : 162653103 Question Type : MCQ Option Shuffling : Yes Display Question Number : Yes
Single Line Question Option : No Option Orientation : Vertical

Correct Marks : 1 Wrong Marks : 0.25

‘मैंने पुस्तकालय जाना है।’ वाक्य में अशुद्ध है:

Options :

1. ✔ मैंने

2. ✖ पुस्तकालय

3. ✖ जाना

4. ✖ है।

Subject Related

Group Number :	6
Group Id :	1626536
Group Maximum Duration :	0
Group Minimum Duration :	0
Revisit allowed for view? :	No
Revisit allowed for edit? :	No
Break time:	0
Group Marks:	20
Revisit allowed for group Instructions? :	Yes
Maximum Instruction Time:	0
Minimum Instruction Time:	0

Subject Related

Section Id :	1626536
Section Number :	1
Section type :	Online
Mandatory or Optional:	Mandatory
Number of Questions:	20
Number of Questions to be attempted:	20
Section Marks:	20
Display Number Panel:	Yes
Group All Questions:	No

Sub-Section Number:	1
Sub-Section Id:	1626539
Question Shuffling Allowed :	Yes

Question Number : 101 Question Id : 162653104 Question Type : MCQ Option Shuffling : Yes Display Question Number : Yes
Single Line Question Option : No Option Orientation : Vertical

Correct Marks : 1 Wrong Marks : 0.25

In 1772 who was the company official who had ventured to say that “the demand for Indian textiles could never reduce, since no other nation produced goods of the same quality”?

Options :

1. ✖ Robert Clive

2. ✖ Warren Hastings

3. ✔ Henry Patullo

4. ✖ Cornwallis

Question Number : 101 Question Id : 162653104 Question Type : MCQ Option Shuffling : Yes Display Question Number : Yes
Single Line Question Option : No Option Orientation : Vertical

Correct Marks : 1 Wrong Marks : 0.25

1772 में ईस्ट इंडिया कंपनी का वह अधिकारी कौन था, जिसने कहा था, "भारतीय वस्त्रों की मांग कभी कम नहीं हो सकती है, क्योंकि कोई अन्य देश इतनी गुणवत्ता का सामान नहीं बनाता है"?

Options :

1. ✖ रॉबर्ट क्लाइव
2. ✖ वॉरेन हेस्टिंग्स
3. ✔ हेनरी पाटुलो
4. ✖ कार्नवालिस

Question Number : 102 Question Id : 162653105 Question Type : MCQ Option Shuffling : Yes Display Question Number : Yes
Single Line Question Option : No Option Orientation : Vertical

Correct Marks : 1 Wrong Marks : 0.25

Via which of the following Indian coasts was a vibrant sea trade to the Gulf and Red Sea ports operated through the main pre-colonial ports?

Options :

1. ✔ Surat on Gujarat coast
2. ✖ Masulipatnam on Coromandel coast
3. ✖ Hoogly in Bengal
4. ✖ Bombay

Question Number : 102 Question Id : 162653105 Question Type : MCQ Option Shuffling : Yes Display Question Number : Yes
Single Line Question Option : No Option Orientation : Vertical

Correct Marks : 1 Wrong Marks : 0.25

निम्नलिखित भारतीय समुद्र तटों में से कौन से तट से मुख्य समुद्री पूर्व औपनिवेशिक बंदरगाहों के माध्यम से खाड़ी देशों और लाल सागर बंदरगाहों के लिए समुद्री व्यापार संचालित होता था?

Options :

1. ✔ गुजरात तट पर सूरत
2. ✖ कोरोमंडल तट पर मासुलिपत्तनम

3. ✖ बंगाल में हुगली

4. ✖ बॉम्बे

Question Number : 103 Question Id : 162653106 Question Type : MCQ Option Shuffling : Yes Display Question Number : Yes
Single Line Question Option : No Option Orientation : Vertical

Correct Marks : 1 Wrong Marks : 0.25

Who proposed the form of government that was based on a social contract between people and their representatives?

Options :

1. ✖ Montesquieu

2. ✖ John Locke

3. ✔ Jean-Jacques Rousseau

4. ✖ David Hume

Question Number : 103 Question Id : 162653106 Question Type : MCQ Option Shuffling : Yes Display Question Number : Yes
Single Line Question Option : No Option Orientation : Vertical

Correct Marks : 1 Wrong Marks : 0.25

किसने सरकार के उस रूप का प्रस्ताव दिया था जो लोगों और उनके प्रतिनिधियों के बीच सामाजिक अनुबंध पर आधारित था?

Options :

1. ✖ मॉन्टेस्क्यू

2. ✖ जॉन लोके

3. ✔ जॉन - जाक रूसो

4. ✖ डेविड ह्यूम

Question Number : 104 Question Id : 162653107 Question Type : MCQ Option Shuffling : Yes Display Question Number : Yes
Single Line Question Option : No Option Orientation : Vertical

Correct Marks : 1 Wrong Marks : 0.25

When did the Convention abolished monarchy and declared France as a Republic?

Options :

1. ✔ 21st September, 1792

2. ✖ 2nd August, 1793

3. ✖ 10th August, 1793

4. ✖ 9th July, 1794

Question Number : 104 Question Id : 162653107 Question Type : MCQ Option Shuffling : Yes Display Question Number : Yes
Single Line Question Option : No Option Orientation : Vertical

Correct Marks : 1 Wrong Marks : 0.25

फ्रांस में राजशाही को समाप्त कर और देश को गणराज्य घोषित करने का सम्मेलन (कन्वेंशन) कब हुआ?

Options :

1. ✔ 21 सितंबर, 1792

2. ✖ 2 अगस्त, 1793

3. ✖ 10 अगस्त, 1793

4. ✖ 9 जुलाई, 1794

Question Number : 105 Question Id : 162653108 Question Type : MCQ Option Shuffling : Yes Display Question Number : Yes
Single Line Question Option : No Option Orientation : Vertical

Correct Marks : 1 Wrong Marks : 0.25

With regard to the French Revolution, which among the following had reworked the sovereign nation state by redefining the idea of freedom from the bondage into a movement?

Options :

1. ✔ Colonised people

2. ✖ Jacobians

3. ✖ Socialists

4. ✖ Nobles

Question Number : 105 Question Id : 162653108 Question Type : MCQ Option Shuffling : Yes Display Question Number : Yes
Single Line Question Option : No Option Orientation : Vertical

Correct Marks : 1 Wrong Marks : 0.25

फ्रांसीसी क्रांति के संबंध में, निम्नलिखित में से किसने गुलामी से आजादी के विचार को फिर से परिभाषित करके संप्रभु राष्ट्र राज्य को फिर से आंदोलन में चलाया था?

Options :

1. ✔ उपनिवेशित लोग

2. ✖ जैकोबियन्स

3. ✖ समाजवादी

4. ✖ अभिजात वर्ग

Question Number : 106 Question Id : 162653109 Question Type : MCQ Option Shuffling : Yes Display Question Number : Yes
Single Line Question Option : No Option Orientation : Vertical

Correct Marks : 1 Wrong Marks : 0.25

In 1851, who described Awadh as “a cherry that will drop into our mouth one day”?

Options :

1. ✖ Lord William Bentick

2. ✖ John Macpherson

3. ✖ Richard Wellesley

4. ✔ Lord Dalhousie

Question Number : 106 Question Id : 162653109 Question Type : MCQ Option Shuffling : Yes Display Question Number : Yes
Single Line Question Option : No Option Orientation : Vertical

Correct Marks : 1 Wrong Marks : 0.25

1851 में, किसने अवध सूबे को "एक चेरी जो एक दिन हमारे मुंह में गिर जाएगा" इस रूप में वर्णित किया था?

Options :

1. ✖ लॉर्ड विलियम बेंटिक

2. ✖ जॉन मैकफेरसन

3. ✖ रिचर्ड वेलेस्ले

4. ✔ लॉर्ड डलहौजी

Question Number : 107 Question Id : 162653110 Question Type : MCQ Option Shuffling : Yes Display Question Number : Yes
Single Line Question Option : No Option Orientation : Vertical

Correct Marks : 1 Wrong Marks : 0.25

Who among the followings mobilized the Headmen and Cultivators of Chaurasee Des, moving at night from village to village, urging people to rebel against the British?

Options :

1. ✔ Shah Mal

2. ✖ Maulvi Ahmadullah Shah

3. ✖ Suraj Mal

4. ✖ Birjis Qadr

Question Number : 107 Question Id : 162653110 Question Type : MCQ Option Shuffling : Yes Display Question Number : Yes
Single Line Question Option : No Option Orientation : Vertical

Correct Marks : 1 Wrong Marks : 0.25

निम्नलिखित लोगों में से किसने चौरसी देस के सरदारों और किसानों को संगठित किया, और रात में गांव गांव घूमते हुए लोगों से अंग्रेजों के खिलाफ विद्रोह करने का आग्रह किया?

Options :

1. ✔ शाह मल

2. ✖ मौलवी अहमदुल्लाह शाह

3. ✖ सूरज मल

4. ✖ बिरजिस कद्र

Question Number : 108 Question Id : 162653111 Question Type : MCQ Option Shuffling : Yes Display Question Number : Yes
Single Line Question Option : No Option Orientation : Vertical

Correct Marks : 1 Wrong Marks : 0.25

Which Congress session formalized the demand for 'Purna Swaraj' or 'Full Independence' for India?

Options :

1. ✔ Lahore session, 1929

2. ✖ Delhi session, 1923

3. ✖ Calcutta session, 1917

4. ✖ Lahore session, 1909

Question Number : 108 Question Id : 162653111 Question Type : MCQ Option Shuffling : Yes Display Question Number : Yes
Single Line Question Option : No Option Orientation : Vertical

Correct Marks : 1 Wrong Marks : 0.25

किस कांग्रेस अधिवेशन में 'पूर्ण स्वराज' या भारत के लिए पूर्ण स्वतंत्रता की मांग को औपचारिक रूप दिया गया था?

Options :

1. ✔ लाहौर अधिवेशन, 1929

2. ✖ दिल्ली अधिवेशन, 1923

3. ✖ कलकत्ता अधिवेशन, 1917

4. ✖ लाहौर अधिवेशन, 1909

Question Number : 109 Question Id : 162653112 Question Type : MCQ Option Shuffling : Yes Display Question Number : Yes
Single Line Question Option : No Option Orientation : Vertical

Correct Marks : 1 Wrong Marks : 0.25

Reacting against the colonial policies and to organize the business activities when did the Indian Merchants and Industrialists formed the Indian Industrial and Commercial Congress?

Options :

1. ✖ 1927

2. ✔ 1920

3. ✖ 1921

4. ✖ 1923

Question Number : 109 Question Id : 162653112 Question Type : MCQ Option Shuffling : Yes Display Question Number : Yes
Single Line Question Option : No Option Orientation : Vertical

Correct Marks : 1 Wrong Marks : 0.25

औपनिवेशिक नीतियों के खिलाफ प्रतिक्रिया देने और व्यापारिक गतिविधियों को व्यवस्थित करने के लिए भारतीय व्यापारियों और उद्योगपतियों ने भारतीय औद्योगिक और वाणिज्यिक कांग्रेस का गठन कब किया?

Options :

1. ✖ 1927

2. ✔ 1920

3. ✖ 1921

4. ✖ 1923

Question Number : 110 Question Id : 162653113 Question Type : MCQ Option Shuffling : Yes Display Question Number : Yes
Single Line Question Option : No Option Orientation : Vertical

Correct Marks : 1 Wrong Marks : 0.25

Who was the leading English manufacturer who sought to build a cooperative community called 'New Harmony' in Indiana (USA)?

Options :

1. ✖ Friedrich Engels

2. ✖ Daniel Johnson

3. ✖ Louis Blanc

4. ✔ Robert Owen

Question Number : 110 Question Id : 162653113 Question Type : MCQ Option Shuffling : Yes Display Question Number : Yes
Single Line Question Option : No Option Orientation : Vertical

Correct Marks : 1 Wrong Marks : 0.25

इंडियाना (यू.एस.ए.) में 'न्यू हार्मनी' नामक एक सहकारी समुदाय बनाने की मांग करने वाले अग्रणी अंग्रेज निर्माणकर्ता कौन थे?

Options :

1. ✖ फ्रेडरिक एंजल्स

2. ✖ डैनियल जॉनसन

3. ✖ लुई ब्लैंक

4. ✔ रॉबर्ट ओवेन

Question Number : 111 Question Id : 162653114 Question Type : MCQ Option Shuffling : Yes Display Question Number : Yes
Single Line Question Option : No Option Orientation : Vertical

Correct Marks : 1 Wrong Marks : 0.25

What was the percentage of women factory labour force in Russia by 1914?

Options :

1. ✔ 31 percent

2. ✖ 35 percent

3. ✖ 38 percent

4. ✖ 28 percent

Question Number : 111 Question Id : 162653114 Question Type : MCQ Option Shuffling : Yes Display Question Number : Yes
Single Line Question Option : No Option Orientation : Vertical

Correct Marks : 1 Wrong Marks : 0.25

1914 तक रूस में महिला कारखाना श्रम बल का प्रतिशत कितना था?

Options :

1. ✔ 31 प्रतिशत

2. ✖ 35 प्रतिशत

3. ✖ 38 प्रतिशत

4. ✖ 28 प्रतिशत

Question Number : 112 Question Id : 162653115 Question Type : MCQ Option Shuffling : Yes Display Question Number : Yes
Single Line Question Option : No Option Orientation : Vertical

Correct Marks : 1 Wrong Marks : 0.25

Which of the following was the demand of the liberals in Russia along with peasants and workers in 1905?

Options :

1. ✖ Land of landlords

2. ✔ Constitution

3. ✖ Land of peasants

4. ✖ Democracy

Question Number : 112 Question Id : 162653115 Question Type : MCQ Option Shuffling : Yes Display Question Number : Yes
Single Line Question Option : No Option Orientation : Vertical

Correct Marks : 1 Wrong Marks : 0.25

1905 में रूस में किसानों और श्रमिकों के साथ उदारवादियों की क्या मांग थी?

Options :

1. ✖ मकान मालिकों की भूमि

2. ✔ संविधान

3. ✖ किसानों की भूमि

4. ✖ जनतंत्र

Question Number : 113 Question Id : 162653116 Question Type : MCQ Option Shuffling : Yes Display Question Number : Yes
Single Line Question Option : No Option Orientation : Vertical

Correct Marks : 1 Wrong Marks : 0.25

Who had led the revolution that brought down the Russian Monarchy in February 1917?

Options :

1. ✔ Petrograd

- 2. ✖ Tsar
- 3. ✖ Military
- 4. ✖ Land lords

Question Number : 113 Question Id : 162653116 Question Type : MCQ Option Shuffling : Yes Display Question Number : Yes
Single Line Question Option : No Option Orientation : Vertical

Correct Marks : 1 Wrong Marks : 0.25

किसने उस क्रांति का नेतृत्व किया जिसने फरवरी 1917 में रूसी राजशाही को उखाड़ फेंका?

Options :

- 1. ✔ पेट्रोग्रेड
- 2. ✖ ज़ार
- 3. ✖ सैन्य
- 4. ✖ लैंड लॉर्ड्स

Question Number : 114 Question Id : 162653117 Question Type : MCQ Option Shuffling : Yes Display Question Number : Yes
Single Line Question Option : No Option Orientation : Vertical

Correct Marks : 1 Wrong Marks : 0.25

Marx believed that to free themselves from the capitalist exploitation, workers had to construct a _____ society where all property was socially controlled.

Options :

- 1. ✖ revolutionary socialist
- 2. ✖ capitalist
- 3. ✔ radically socialist
- 4. ✖ socialist cooperative

Question Number : 114 Question Id : 162653117 Question Type : MCQ Option Shuffling : Yes Display Question Number : Yes
Single Line Question Option : No Option Orientation : Vertical

Correct Marks : 1 Wrong Marks : 0.25

मार्क्स का मानना था कि खुद को पूंजीवादी शोषण से मुक्त करने के लिए, श्रमिकों को एक _____ सोसाइटी बनाना था जहां सभी संपत्ति को सामाजिक रूप से नियंत्रित किया जाएगा।

Options :

- 1. ✖ क्रांतिकारी समाजवादी

2. ✖ पूंजीवादी

3. ✔ मूलतः समाजवादी

4. ✖ समाजवादी सहकारी

Question Number : 115 Question Id : 162653118 Question Type : MCQ Option Shuffling : Yes Display Question Number : Yes
Single Line Question Option : No Option Orientation : Vertical

Correct Marks : 1 Wrong Marks : 0.25

Many Indians got inspired by the Russian Revolution and wrote on the Soviet Socialism. Who among the following authors wrote, in Hindi, in 1920-21, on Russian Revolution, Lenin's life and thoughts, and later the Red Revolution?

Options :

1. ✖ Jawaharlal Nehru

2. ✔ R.S. Avasthi

3. ✖ Rabindranath Tagore

4. ✖ S.D. Vidyalkar

Question Number : 115 Question Id : 162653118 Question Type : MCQ Option Shuffling : Yes Display Question Number : Yes
Single Line Question Option : No Option Orientation : Vertical

Correct Marks : 1 Wrong Marks : 0.25

1920-21 में, रूसी क्रांति, लेनिन के जीवन तथा विचारों और बाद में रेड रेवोलुशन (लाल क्रांति) के विषय में निम्नलिखित लेखकों में से किसने हिंदी में लिखा था?

Options :

1. ✖ जवाहर लाल नेहरू

2. ✔ आर. एस. अवस्थी

3. ✖ रवींद्रनाथ टैगोर

4. ✖ एस.डी. विद्यालंकार

Question Number : 116 Question Id : 162653119 Question Type : MCQ Option Shuffling : Yes Display Question Number : Yes
Single Line Question Option : No Option Orientation : Vertical

Correct Marks : 1 Wrong Marks : 0.25

Mention the name of the book that was written by Charlotte Beradt who secretly recorded the people's dreams in her diary and later published it as a book.

Options :

1. ✖ Villette
2. ✖ Inside the Third Reich
3. ✖ The rise and fall of Third Reich
4. ✔ Third Reich of Dreams

Question Number : 116 Question Id : 162653119 Question Type : MCQ Option Shuffling : Yes Display Question Number : Yes
Single Line Question Option : No Option Orientation : Vertical

Correct Marks : 1 Wrong Marks : 0.25

शार्लोट बेराट द्वारा लिखी गई पुस्तक के नाम का उल्लेख करें, जिन्होंने गुप्त रूप से अपने डायरी में लोगों के सपनों को दर्ज किया और बाद में इसे एक पुस्तक के रूप में प्रकाशित किया।

Options :

1. ✖ विलेट
2. ✖ इनसाइड द थर्ड राइक
3. ✖ द राइज एंड फाल ऑफ थर्ड राइक
4. ✔ थर्ड राइक ऑफ ड्रीम्स

Question Number : 117 Question Id : 162653120 Question Type : MCQ Option Shuffling : Yes Display Question Number : Yes
Single Line Question Option : No Option Orientation : Vertical

Correct Marks : 1 Wrong Marks : 0.25

The programme of the Nazis where in the properties of the Jews were vandalised and looted, houses of Jews were attacked, synagogues were burnt, and men arrested was referred to as:

Options :

1. ✖ The Nuremberg Laws 1935
2. ✖ The art of propaganda
3. ✔ The Night of Broken Glass in November 1938
4. ✖ The National Socialist Programme

Question Number : 117 Question Id : 162653120 Question Type : MCQ Option Shuffling : Yes Display Question Number : Yes
Single Line Question Option : No Option Orientation : Vertical

Correct Marks : 1 Wrong Marks : 0.25

नाज़ियों का कार्यक्रम जिसमें यहूदियों की संपत्तियों को बर्बाद कर दिया गया था और लूट लिया गया था, यहूदियों के घरों पर हमला किया गया था, उनके सभास्थलों को जला दिया गया था, और पुरुषों को गिरफ्तार कर लिया गया था, इसे किस रूप में संदर्भित किया गया था?

Options :

1. ✖ द नुरेम्बर्ग लॉज़ 1935
2. ✖ द आर्ट ऑफ प्रोपेगेंडा
3. ✔ द नाइट ऑफ ब्रोकेन ग्लास इन नवंबर 1938
4. ✖ द नेशनल सोशलिस्ट प्रोग्राम

Question Number : 118 Question Id : 162653121 Question Type : MCQ Option Shuffling : Yes Display Question Number : Yes
Single Line Question Option : No Option Orientation : Vertical

Correct Marks : 1 Wrong Marks : 0.25

What was the young and fragile idea that could NOT survive the instabilities of the interwar Europe?

Options :

1. ✖ Socialism
2. ✖ Conservative dictatorship
3. ✔ Democracy
4. ✖ Radicalism

Question Number : 118 Question Id : 162653121 Question Type : MCQ Option Shuffling : Yes Display Question Number : Yes
Single Line Question Option : No Option Orientation : Vertical

Correct Marks : 1 Wrong Marks : 0.25

वह युवा और कमजोर विचार क्या था जो युद्धरत यूरोप की अस्थिरता से बच नहीं सका?

Options :

1. ✖ समाजवाद
2. ✖ रूढ़िवादी (कंज़र्वेटिव) तानाशाही
3. ✔ जनतंत्र
4. ✖ अतिवाद

Question Number : 119 Question Id : 162653122 Question Type : MCQ Option Shuffling : Yes Display Question Number : Yes
Single Line Question Option : No Option Orientation : Vertical

Correct Marks : 1 Wrong Marks : 0.25

Who were mockingly called as 'November Criminals'?

Options :

1. ☒ Socialists, Catholics and Democrats
2. ☐ Radicals, Liberals and Conservatives
3. ☐ Jews, Gypsies and Physically enabled
4. ☐ Socialists, Nazis and Democrats

Question Number : 119 Question Id : 162653122 Question Type : MCQ Option Shuffling : Yes Display Question Number : Yes
Single Line Question Option : No Option Orientation : Vertical

Correct Marks : 1 Wrong Marks : 0.25

किन लोगों को उपहास से 'नवंबर क्रिमिनल्स (अपराधी)' कहा जाता था?

Options :

1. ☒ समाजवादी, कैथोलिक और डेमोक्रेट्स
2. ☐ आमूल परिवर्तनवादी (रेडिकल), उदारवादी (लिबरल) और रूढ़िवादी (कंज़र्वेटिक्स)
3. ☐ यहूदी, जिप्सी और शारीरिक रूप से सक्षम
4. ☐ समाजवादी, नाज़ी और डेमोक्रेट्स

Question Number : 120 Question Id : 162653123 Question Type : MCQ Option Shuffling : Yes Display Question Number : Yes
Single Line Question Option : No Option Orientation : Vertical

Correct Marks : 1 Wrong Marks : 0.25

In which year was the Tripartite pact between Italy, Japan and Germany signed?

Options :

1. ☐ 1939
2. ☐ 1941
3. ☐ 1938
4. ☒ 1940

Question Number : 120 Question Id : 162653123 Question Type : MCQ Option Shuffling : Yes Display Question Number : Yes
Single Line Question Option : No Option Orientation : Vertical

Correct Marks : 1 Wrong Marks : 0.25

इटली, जापान और जर्मनी के बीच त्रिपक्षीय समझौते पर किस वर्ष हस्ताक्षर किए गए थे?

Options :

1. ✖ 1939

2. ✖ 1941

3. ✖ 1938

4. ✔ 1940

Subject Related

Group Number :	7
Group Id :	1626537
Group Maximum Duration :	0
Group Minimum Duration :	0
Revisit allowed for view? :	No
Revisit allowed for edit? :	No
Break time:	0
Group Marks:	20
Revisit allowed for group Instructions? :	Yes
Maximum Instruction Time:	0
Minimum Instruction Time:	0

Subject Related

Section Id :	1626537
Section Number :	1
Section type :	Online
Mandatory or Optional:	Mandatory
Number of Questions:	20
Number of Questions to be attempted:	20
Section Marks:	20
Display Number Panel:	Yes
Group All Questions:	No

Sub-Section Number:	1
Sub-Section Id:	16265310
Question Shuffling Allowed :	Yes

Question Number : 121 Question Id : 162653124 Question Type : MCQ Option Shuffling : Yes Display Question Number : Yes
Single Line Question Option : No Option Orientation : Vertical

Correct Marks : 1 Wrong Marks : 0.25

Which of the famous constellations can be seen during summer in the early part of the night?

Note: For this question, discrepancy is found in question/answer. So, this question is ignored for all candidates.

Options :

1. Great Bear
2. Ursa Major
3. Orion
4. Leo Major

Question Number : 121 Question Id : 162653124 Question Type : MCQ Option Shuffling : Yes Display Question Number : Yes
Single Line Question Option : No Option Orientation : Vertical

Correct Marks : 1 Wrong Marks : 0.25

रात के शुरुआती हिस्से में गर्मी के दौरान कौन से प्रसिद्ध नक्षत्रों को देखा जा सकता है?

Note: For this question, discrepancy is found in question/answer. So, this question is ignored for all candidates.

Options :

1. सप्तऋषि (ग्रेट बीयर)
2. सप्तर्षिमंडल (उर्सा मेजर)
3. मृग नक्षत्र (ओरियन)
4. सिंह प्रमुख (लियो मेजर)

Question Number : 122 Question Id : 162653125 Question Type : MCQ Option Shuffling : Yes Display Question Number : Yes
Single Line Question Option : No Option Orientation : Vertical

Correct Marks : 1 Wrong Marks : 0.25

Who suggested that the movement responsible for the drifting of the continents was caused by pole-fleeing force and tidal force?

Options :

1. ✖ Arthur Holmes' Convection Current Theory
2. ✖ Continental Drift Theory by Frank Bursley Taylor
3. ✔ Wegener's Continental Drift Theory
4. ✖ Abraham Ortelius Theory

Question Number : 122 Question Id : 162653125 Question Type : MCQ Option Shuffling : Yes Display Question Number : Yes
Single Line Question Option : No Option Orientation : Vertical

Correct Marks : 1 Wrong Marks : 0.25

किसने सुझाव दिया कि महाद्वीपों के बहाव के कारण होने वाली हलचल पोल-फ्लिंग फोर्स और ज्वारीय बल के कारण हुआ था?

Options :

1. ✖ आर्थर होम्स का संवहन धारा सिद्धांत
2. ✖ फ्रैंक बर्सले टेलर का महाद्वीपीय बहाव सिद्धांत
3. ✔ वेजेनर का महाद्वीपीय बहाव सिद्धांत
4. ✖ अब्राहम ऑर्टेलियस सिद्धांत

Question Number : 123 Question Id : 162653126 Question Type : MCQ Option Shuffling : Yes Display Question Number : Yes
Single Line Question Option : No Option Orientation : Vertical

Correct Marks : 1 Wrong Marks : 0.25

The axis of the Earth, which is an imaginary line, makes an angel of _____ with its orbital plane.

Options :

1. ✖ 68 degree
2. ✖ 64 degree
3. ✔ 66 degree
4. ✖ 65 degree

Question Number : 123 Question Id : 162653126 Question Type : MCQ Option Shuffling : Yes Display Question Number : Yes
Single Line Question Option : No Option Orientation : Vertical

Correct Marks : 1 Wrong Marks : 0.25

पृथ्वी की धुरी, जो एक काल्पनिक रेखा है, अपने कक्षीय समतल के साथ _____ का कोण बनाती है।

Options :

1. ✖ 68 डिग्री
2. ✖ 64 डिग्री
3. ✔ 66 डिग्री
4. ✖ 65 डिग्री

Question Number : 124 Question Id : 162653127 Question Type : MCQ Option Shuffling : Yes Display Question Number : Yes
Single Line Question Option : No Option Orientation : Vertical

Correct Marks : 1 Wrong Marks : 0.25

What is the local time difference between Dwarka in Gujarat to Dibrugarh in Assam?

Options :

1. ✖ 1 hour 05 minutes
2. ✖ 1 hour 19 minutes
3. ✖ 1 hour 15 minutes
4. ✔ 1 hour 45 minutes

Question Number : 124 Question Id : 162653127 Question Type : MCQ Option Shuffling : Yes Display Question Number : Yes
Single Line Question Option : No Option Orientation : Vertical

Correct Marks : 1 Wrong Marks : 0.25

गुजरात में द्वारका और असम में दिब्रूगढ़ के बीच स्थानीय समय में कितना अंतर है?

Options :

1. ✖ 1 घंटा 05 मिनट
2. ✖ 1 घंटा 19 मिनट
3. ✖ 1 घंटे 15 मिनट
4. ✔ 1 घंटे 45 मिनट

Question Number : 125 Question Id : 162653128 Question Type : MCQ Option Shuffling : Yes Display Question Number : Yes
Single Line Question Option : No Option Orientation : Vertical

Correct Marks : 1 Wrong Marks : 0.25

What is name of the boundary between India and the Antarctic plate marked by the oceanic ridge running in roughly W – E and merging into spreading site, a little south of New Zealand?

Options :

1. ✔ Divergent boundary
2. ✖ Convergent boundary
3. ✖ Transform boundary
4. ✖ Ocean convergent boundary

Question Number : 125 Question Id : 162653128 Question Type : MCQ Option Shuffling : Yes Display Question Number : Yes
Single Line Question Option : No Option Orientation : Vertical

Correct Marks : 1 Wrong Marks : 0.25

स्थूल रूप से W-E में चल रहे महासागर रिज और न्यूजीलैंड से थोड़ा दक्षिण में फैली जगह द्वारा चिह्नित भारत और अंटार्कटिक प्लेट के बीच की सीमा का नाम क्या है?

Options :

1. ☒ अपसारी सीमा
2. ☐ अभिसरण सीमा
3. ☐ रूपांतरित सीमा
4. ☐ महासागर अभिसरण सीमा

Question Number : 126 Question Id : 162653129 Question Type : MCQ Option Shuffling : Yes Display Question Number : Yes
Single Line Question Option : No Option Orientation : Vertical

Correct Marks : 1 Wrong Marks : 0.25

What is the name of the periodic development of a warm ocean current along the coast of Peru as a temporary replacement of Peruvian current?

Options :

1. ☐ Westerly winds
2. ☐ Jet stream
3. ☒ El nino
4. ☐ Coriolis force

Question Number : 126 Question Id : 162653129 Question Type : MCQ Option Shuffling : Yes Display Question Number : Yes
Single Line Question Option : No Option Orientation : Vertical

Correct Marks : 1 Wrong Marks : 0.25

पेरू के तट पर पेरू की लहर के अस्थायी प्रतिस्थापन के रूप में गर्म समुद्री धारा के आवधिक विकास का क्या नाम है?

Options :

1. ☐ पश्चिमीय हवा
2. ☐ जेट धारा
3. ☒ एल नीनो
4. ☐ कोरिओलिस बल

Question Number : 127 Question Id : 162653130 Question Type : MCQ Option Shuffling : Yes Display Question Number : Yes
Single Line Question Option : No Option Orientation : Vertical
Correct Marks : 1 Wrong Marks : 0.25

The place where Northeast and Southeast trade winds converge is called as:

Options :

1. ☒ Inter tropical convergence zone
2. ☐ Oceanic and oceanic convergence zone
3. ☐ Oceanic continental convergence zone
4. ☐ Continental convergence zone

Question Number : 127 Question Id : 162653130 Question Type : MCQ Option Shuffling : Yes Display Question Number : Yes
Single Line Question Option : No Option Orientation : Vertical
Correct Marks : 1 Wrong Marks : 0.25

उस जगह जहां पूर्वोत्तर और दक्षिणपूर्व व्यापारिक पवन का अभिसरण होता है, उसे क्या कहा जाता है?

Options :

1. ☒ अंतर उष्णकटिबंधीय अभिसरण क्षेत्र
2. ☐ महासागर और महासागर अभिसरण क्षेत्र
3. ☐ महासागर महाद्वीपीय अभिसरण क्षेत्र
4. ☐ महाद्वीपीय अभिसरण क्षेत्र

Question Number : 128 Question Id : 162653131 Question Type : MCQ Option Shuffling : Yes Display Question Number : Yes
Single Line Question Option : No Option Orientation : Vertical
Correct Marks : 1 Wrong Marks : 0.25

What is Continentality?

Options :

1. ☒ The experience of extreme weather conditions due to distance from the sea
2. ☐ The experience of extreme weather conditions due to higher altitudes
3. ☐ The experience of extreme weather conditions due to distance from rivers
4. ☐ The experience of extreme weather conditions due to lower altitudes

Question Number : 128 Question Id : 162653131 Question Type : MCQ Option Shuffling : Yes Display Question Number : Yes
Single Line Question Option : No Option Orientation : Vertical

Correct Marks : 1 Wrong Marks : 0.25

महाद्वीप क्या है?

Options :

1. ☒ समुद्र से दूरी के कारण चरम मौसम की स्थिति का अनुभव
2. ☐ अति ऊंचाई के कारण चरम मौसम की स्थिति का अनुभव
3. ☐ नदियों से दूरी के कारण चरम मौसम की स्थिति का अनुभव
4. ☐ कम ऊंचाई के कारण चरम मौसम की स्थिति का अनुभव

Question Number : 129 Question Id : 162653132 Question Type : MCQ Option Shuffling : Yes Display Question Number : Yes
Single Line Question Option : No Option Orientation : Vertical

Correct Marks : 1 Wrong Marks : 0.25

India lies in the region of _____ winds.

Options :

1. ☐ periodic
2. ☐ local
3. ☐ westerlies
4. ☒ north easterlies

Question Number : 129 Question Id : 162653132 Question Type : MCQ Option Shuffling : Yes Display Question Number : Yes
Single Line Question Option : No Option Orientation : Vertical

Correct Marks : 1 Wrong Marks : 0.25

भारत किस हवाओं के क्षेत्र में स्थित है?

Options :

1. ☐ सामयिक
2. ☐ स्थानीय
3. ☐ पच्छिमी हवा
4. ☒ उत्तर पूर्वी हवा

Question Number : 130 Question Id : 162653133 Question Type : MCQ Option Shuffling : Yes Display Question Number : Yes
Single Line Question Option : No Option Orientation : Vertical

Correct Marks : 1 Wrong Marks : 0.25

How can swimmers float in the water of the Dead Sea in Israel?

Options :

1. ✖ Due to lack of salinity
2. ✔ Because of presence of increased amounts of salt
3. ✖ Because of presence of potassium
4. ✖ Due to the presence of calcium

Question Number : 130 Question Id : 162653133 Question Type : MCQ Option Shuffling : Yes Display Question Number : Yes
Single Line Question Option : No Option Orientation : Vertical

Correct Marks : 1 Wrong Marks : 0.25

इजराइल में मृत सागर के पानी में तैराक कैसे तैर सकते हैं?

Options :

1. ✖ लवणता की कमी के कारण
2. ✔ नमक की बड़ी हुई मात्रा की उपस्थिति के कारण
3. ✖ पोटेशियम की उपस्थिति के कारण
4. ✖ कैल्शियम की उपस्थिति के कारण

Question Number : 131 Question Id : 162653134 Question Type : MCQ Option Shuffling : Yes Display Question Number : Yes
Single Line Question Option : No Option Orientation : Vertical

Correct Marks : 1 Wrong Marks : 0.25

What is the total length of the coastline of India's mainland, including Andaman and Nicobar?

Options :

1. ✖ 7,546.7 km
2. ✖ 7,520.8 km
3. ✔ 7,516.6 km
4. ✖ 11,290.7 km

Question Number : 131 Question Id : 162653134 Question Type : MCQ Option Shuffling : Yes Display Question Number : Yes
Single Line Question Option : No Option Orientation : Vertical

Correct Marks : 1 Wrong Marks : 0.25

अंडमान और निकोबार समेत भारत की मुख्य भूमि की तटरेखा की कुल लंबाई कितनी है?

Options :

1. ✖ 7,546.7 km
2. ✖ 7,520.8 km
3. ✔ 7,516.6 km
4. ✖ 11,290.7 km

Question Number : 132 Question Id : 162653135 Question Type : MCQ Option Shuffling : Yes Display Question Number : Yes
Single Line Question Option : No Option Orientation : Vertical

Correct Marks : 1 Wrong Marks : 0.25

The part of Himalayas lying between Sutlej and Kali rivers is known as:

Options :

1. ✖ Punjab Himalayas
2. ✔ Kumaon Himalayas
3. ✖ Assam Himalayas
4. ✖ Himachal Himalayas

Question Number : 132 Question Id : 162653135 Question Type : MCQ Option Shuffling : Yes Display Question Number : Yes
Single Line Question Option : No Option Orientation : Vertical

Correct Marks : 1 Wrong Marks : 0.25

सतलज और काली नदियों के बीच स्थित हिमालय के हिस्से को क्या कहा जाता है?

Options :

1. ✖ पंजाब हिमालय
2. ✔ कुमाऊं हिमालय
3. ✖ असम हिमालय
4. ✖ हिमाचल हिमालय

Question Number : 133 Question Id : 162653136 Question Type : MCQ Option Shuffling : Yes Display Question Number : Yes
Single Line Question Option : No Option Orientation : Vertical

Correct Marks : 1 Wrong Marks : 0.25

Black soils are generally poor in _____ content.

Options :

1. ✖ Potash
2. ✖ Magnesium
3. ✔ Phosphoric
4. ✖ Lime

Question Number : 133 Question Id : 162653136 Question Type : MCQ Option Shuffling : Yes Display Question Number : Yes
Single Line Question Option : No Option Orientation : Vertical

Correct Marks : 1 Wrong Marks : 0.25

आम तौर पर काली मिट्टी में निम्न में से किसकी मात्रा कम होती है?

Options :

1. ✖ पोटाश
2. ✖ मैगनीशियम
3. ✔ फॉस्फोरिक
4. ✖ चूना

Question Number : 134 Question Id : 162653137 Question Type : MCQ Option Shuffling : Yes Display Question Number : Yes
Single Line Question Option : No Option Orientation : Vertical

Correct Marks : 1 Wrong Marks : 0.25

The temperate forests and grasslands give way to what type of vegetation at high altitudes, which is generally more than 3,600 m above sea level?

Options :

1. ✖ Tundra vegetation
2. ✖ Perennial grasses
3. ✔ Alpine vegetation
4. ✖ Shrubs

Question Number : 134 Question Id : 162653137 Question Type : MCQ Option Shuffling : Yes Display Question Number : Yes
Single Line Question Option : No Option Orientation : Vertical

Correct Marks : 1 Wrong Marks : 0.25

समशीतोष्ण जंगल और घास के मैदान अति ऊंचाई पर किस प्रकार की वनस्पतियां उगती हैं, जो आम तौर पर समुद्र तल से 3,600 मीटर से अधिक है?

Options :

1. ✖ टुंड्रा वनस्पति
2. ✖ बारहमासी घास
3. ✔ उच्च पर्वतीय वनस्पति
4. ✖ झाड़ियाँ

Question Number : 135 Question Id : 162653138 Question Type : MCQ Option Shuffling : Yes Display Question Number : Yes
Single Line Question Option : No Option Orientation : Vertical
Correct Marks : 1 Wrong Marks : 0.25

The change of population in a particular area between two points of time is known as:

Options :

1. ✔ Growth of population
2. ✖ Growth percentage of population
3. ✖ Migration
4. ✖ Natural growth of population

Question Number : 135 Question Id : 162653138 Question Type : MCQ Option Shuffling : Yes Display Question Number : Yes
Single Line Question Option : No Option Orientation : Vertical
Correct Marks : 1 Wrong Marks : 0.25

किसी विशेष क्षेत्र में दो बिंदुओं के बीच में आबादी के परिवर्तन को किस रूप में जाना जाता है?

Options :

1. ✔ आबादी में वृद्धि
2. ✖ जनसंख्या प्रतिशत में वृद्धि
3. ✖ विस्थापन
4. ✖ आबादी की प्राकृतिक वृद्धि

Question Number : 136 Question Id : 162653139 Question Type : MCQ Option Shuffling : Yes Display Question Number : Yes
Single Line Question Option : No Option Orientation : Vertical

Correct Marks : 1 Wrong Marks : 0.25

Which of the following is the name the three stages of demographic transition theory?

Options :

1. ✖ High death rates, literacy, high birth rates
2. ✔ High birth rates, literacy, low birth rates
3. ✖ Rural agrarian, literacy, high death rates
4. ✖ Rural agrarian, demographic transition, urban industrial

Question Number : 136 Question Id : 162653139 Question Type : MCQ Option Shuffling : Yes Display Question Number : Yes
Single Line Question Option : No Option Orientation : Vertical

Correct Marks : 1 Wrong Marks : 0.25

निम्नलिखित में से कौन सा जनसांख्यिकीय संक्रमण सिद्धांत के तीन चरणों का नाम है?

Options :

1. ✖ उच्च मृत्यु दर, साक्षरता, उच्च जन्म दर
2. ✔ उच्च जन्म दर, साक्षरता, कम जन्म दर
3. ✖ ग्रामीण कृषि, साक्षरता, उच्च मृत्यु दर
4. ✖ ग्रामीण कृषि, जनसांख्यिकीय संक्रमण, शहरी औद्योगिक

Question Number : 137 Question Id : 162653140 Question Type : MCQ Option Shuffling : Yes Display Question Number : Yes
Single Line Question Option : No Option Orientation : Vertical

Correct Marks : 1 Wrong Marks : 0.25

What is the main aim of the National Population Policy, 2000?

Options :

1. ✖ Developing female-oriented programmes
2. ✔ Making family welfare as people-centred programme
3. ✖ An Adolescents programme
4. ✖ Developing child-oriented programmes

Question Number : 137 Question Id : 162653140 Question Type : MCQ Option Shuffling : Yes Display Question Number : Yes
Single Line Question Option : No Option Orientation : Vertical

Correct Marks : 1 Wrong Marks : 0.25

राष्ट्रीय जनसंख्या नीति, 2000 का मुख्य उद्देश्य क्या है?

Options :

1. ✖ महिला उन्मुख कार्यक्रमों का विकास करना
2. ✔ परिवार कल्याण को जन-केंद्रित कार्यक्रम बनाना
3. ✖ किशोरावस्था कार्यक्रम
4. ✖ बाल उन्मुख कार्यक्रमों को विकसित करना

Question Number : 138 Question Id : 162653141 Question Type : MCQ Option Shuffling : Yes Display Question Number : Yes
Single Line Question Option : No Option Orientation : Vertical

Correct Marks : 1 Wrong Marks : 0.25

What among the following is essential for the sustained quality of life and global peace?

Options :

1. ✖ Distribution of resources
2. ✖ Production of resources
3. ✔ Equitable distribution of resources
4. ✖ Utility of resources

Question Number : 138 Question Id : 162653141 Question Type : MCQ Option Shuffling : Yes Display Question Number : Yes
Single Line Question Option : No Option Orientation : Vertical

Correct Marks : 1 Wrong Marks : 0.25

जीवन निरंतर गुणवत्ता और वैश्विक शांति की के लिए निम्नलिखित में से क्या आवश्यक है?

Options :

1. ✖ संसाधनों का वितरण
2. ✖ संसाधनों का उत्पादन
3. ✔ संसाधनों का न्यायसंगत वितरण
4. ✖ संसाधनों की उपयोगिता

Question Number : 139 Question Id : 162653142 Question Type : MCQ Option Shuffling : Yes Display Question Number : Yes
Single Line Question Option : No Option Orientation : Vertical

Correct Marks : 1 Wrong Marks : 0.25

Agenda 21 is the declaration signed by world leaders at _____, which took place at Rio de Janeiro, Brazil.

Options :

1. ☒ UNCED
2. ☐ UNDP
3. ☐ UNFPA
4. ☐ UNODC

Question Number : 139 Question Id : 162653142 Question Type : MCQ Option Shuffling : Yes Display Question Number : Yes
Single Line Question Option : No Option Orientation : Vertical

Correct Marks : 1 Wrong Marks : 0.25

एक घोषणापत्र है जिस पर विश्व नेताओं द्वारा _____ में हस्ताक्षर किये गए थे और जो ब्राजील के रियो डी जेनेरो में घटित हुआ था।

Options :

1. ☒ यू.एन.सी.ई.डी.
2. ☐ यू.एन.डी.पी.
3. ☐ यू.एन.एफ.पी.ए.
4. ☐ यू.एन.ओ.डी.सी.

Question Number : 140 Question Id : 162653143 Question Type : MCQ Option Shuffling : Yes Display Question Number : Yes
Single Line Question Option : No Option Orientation : Vertical

Correct Marks : 1 Wrong Marks : 0.25

Identify the diversion channels built by the people of Western Himalayan region for agriculture.

Options :

1. ☐ Tankas
2. ☐ Khadins
3. ☒ Kuls and guls
4. ☐ Johads

Question Number : 140 Question Id : 162653143 Question Type : MCQ Option Shuffling : Yes Display Question Number : Yes
Single Line Question Option : No Option Orientation : Vertical

Correct Marks : 1 Wrong Marks : 0.25

पश्चिमी हिमालयी क्षेत्र के लोगों द्वारा कृषि के लिए निर्मित मोड़ नाली (डायवर्जन चैनलों) की पहचान करें।

Options :

1. ✖ टंकास
2. ✖ खादीनस
3. ✔ कुल्स और गुल्स
4. ✖ जोहदस

Subject Related	
Group Number :	8
Group Id :	1626538
Group Maximum Duration :	0
Group Minimum Duration :	0
Revisit allowed for view? :	No
Revisit allowed for edit? :	No
Break time:	0
Group Marks:	20
Revisit allowed for group Instructions? :	Yes
Maximum Instruction Time:	0
Minimum Instruction Time:	0

Subject Related	
Section Id :	1626538
Section Number :	1
Section type :	Online
Mandatory or Optional:	Mandatory
Number of Questions:	20
Number of Questions to be attempted:	20
Section Marks:	20
Display Number Panel:	Yes
Group All Questions:	No

Sub-Section Number:	1
Sub-Section Id:	16265311
Question Shuffling Allowed :	Yes

Question Number : 141 Question Id : 162653144 Question Type : MCQ Option Shuffling : Yes Display Question Number : Yes
Single Line Question Option : No Option Orientation : Vertical

Correct Marks : 1 Wrong Marks : 0.25

Minerals occur in _____ in igneous and metamorphic rocks.

Options :

1. ✓ lodes
2. ✗ beds
3. ✗ layers
4. ✗ residual mass

Question Number : 141 Question Id : 162653144 Question Type : MCQ Option Shuffling : Yes Display Question Number : Yes
Single Line Question Option : No Option Orientation : Vertical

Correct Marks : 1 Wrong Marks : 0.25

खनिज और रूपांतर चट्टानों में खनिज _____ में होते हैं।

Options :

1. ✓ लोड्स
2. ✗ बेड्स
3. ✗ लेयर्स (परतें)
4. ✗ अवशिष्ट द्रव्यमान

Question Number : 142 Question Id : 162653145 Question Type : MCQ Option Shuffling : Yes Display Question Number : Yes
Single Line Question Option : No Option Orientation : Vertical

Correct Marks : 1 Wrong Marks : 0.25

Which among the following is the highest quality hard coal?

Options :

1. ✗ Lignite
2. ✗ Bituminous
3. ✓ Anthracite
4. ✗ Hematite

Question Number : 142 Question Id : 162653145 Question Type : MCQ Option Shuffling : Yes Display Question Number : Yes
Single Line Question Option : No Option Orientation : Vertical

Correct Marks : 1 Wrong Marks : 0.25

निम्नलिखित में से कौन सा उच्चतम गुणवत्ता वाला अंध्रासाइट (हार्ड कोल) है?

Options :

1. ✖ लिग्नाइट
2. ✖ बिटुमिनस
3. ✔ एन्थ्रेसाइट
4. ✖ हेमटिट

Question Number : 143 Question Id : 162653146 Question Type : MCQ Option Shuffling : Yes Display Question Number : Yes
Single Line Question Option : No Option Orientation : Vertical

Correct Marks : 1 Wrong Marks : 0.25

Identify the state in which the three paddy crops, Aus, Aman and Boro, are grown.

Options :

1. ✖ Telangana
2. ✔ Assam
3. ✖ Uttar Pradesh
4. ✖ Haryana

Question Number : 143 Question Id : 162653146 Question Type : MCQ Option Shuffling : Yes Display Question Number : Yes
Single Line Question Option : No Option Orientation : Vertical

Correct Marks : 1 Wrong Marks : 0.25

उस राज्य की पहचान करें जहां तीन धान फसलें - औस, अमन और बोरो - उगाई जाती हैं।

Options :

1. ✖ तेलंगाना
2. ✔ असम
3. ✖ उत्तर प्रदेश
4. ✖ हरियाणा

Question Number : 144 Question Id : 162653147 Question Type : MCQ Option Shuffling : Yes Display Question Number : Yes
Single Line Question Option : No Option Orientation : Vertical

Correct Marks : 1 Wrong Marks : 0.25

Jute grows well on which type of soil?

Options :

1. ✖ Black soil
2. ✖ Red soil
3. ✔ Alluvial soil
4. ✖ Yellow soil

Question Number : 144 Question Id : 162653147 Question Type : MCQ Option Shuffling : Yes Display Question Number : Yes
Single Line Question Option : No Option Orientation : Vertical

Correct Marks : 1 Wrong Marks : 0.25

जूट किस तरह की मिट्टी पर अच्छी तरह से उगता है?

Options :

1. ✖ काली मिट्टी
2. ✖ लाल मिट्टी
3. ✔ कछार की मिट्टी
4. ✖ पीली मिट्टी

Question Number : 145 Question Id : 162653148 Question Type : MCQ Option Shuffling : Yes Display Question Number : Yes
Single Line Question Option : No Option Orientation : Vertical

Correct Marks : 1 Wrong Marks : 0.25

Who among the following is the leading producer of coffee?

Options :

1. ✔ Brazil
2. ✖ India
3. ✖ Columbia
4. ✖ Sri Lanka

Question Number : 145 Question Id : 162653148 Question Type : MCQ Option Shuffling : Yes Display Question Number : Yes
Single Line Question Option : No Option Orientation : Vertical

Correct Marks : 1 Wrong Marks : 0.25

निम्नलिखित में से कौन कॉफी का अग्रणी निर्माता है?

Options :

1. ✔ ब्राज़ील

2. ✖ इंडिया

3. ✖ कोलंबिया

4. ✖ श्रीलंका

Question Number : 146 Question Id : 162653149 Question Type : MCQ Option Shuffling : Yes Display Question Number : Yes
Single Line Question Option : No Option Orientation : Vertical

Correct Marks : 1 Wrong Marks : 0.25

In which year was the Salem steel plant in Tamil Nadu commissioned?

Options :

1. ✖ 1992

2. ✖ 1972

3. ✔ 1982

4. ✖ 1952

Question Number : 146 Question Id : 162653149 Question Type : MCQ Option Shuffling : Yes Display Question Number : Yes
Single Line Question Option : No Option Orientation : Vertical

Correct Marks : 1 Wrong Marks : 0.25

किस वर्ष तमिलनाडु में सलेम इस्पात संयंत्र शुरू किया गया था?

Options :

1. ✖ 1992

2. ✖ 1972

3. ✔ 1982

4. ✖ 1952

Question Number : 147 Question Id : 162653150 Question Type : MCQ Option Shuffling : Yes Display Question Number : Yes
Single Line Question Option : No Option Orientation : Vertical

Correct Marks : 1 Wrong Marks : 0.25

On the basis of ownership, industries are classified into:

Options :

1. ✖ Small scale and large scale

2. ✔ Public sector, private sector, and joint and cooperative sector

3. ✖ Agricultural-based, forest-based, mineral-based

4. ✖ Metallurgical, mechanical and electrical

Question Number : 147 Question Id : 162653150 Question Type : MCQ Option Shuffling : Yes Display Question Number : Yes
Single Line Question Option : No Option Orientation : Vertical

Correct Marks : 1 Wrong Marks : 0.25

स्वामित्व के आधार पर, उद्योगों को किस तरह वर्गीकृत किया जाता है?

Options :

1. ✖ लघु पैमाना और दीर्घ पैमाना

2. ✔ सार्वजनिक क्षेत्र, निजी क्षेत्र, और संयुक्त एवं सहकारी क्षेत्र

3. ✖ कृषि आधारित, वन आधारित, खनिज आधारित

4. ✖ धातुकर्म, यांत्रिक और विद्युत

Question Number : 148 Question Id : 162653151 Question Type : MCQ Option Shuffling : Yes Display Question Number : Yes
Single Line Question Option : No Option Orientation : Vertical

Correct Marks : 1 Wrong Marks : 0.25

What is the name of the National Highway no.1?

Options :

1. ✖ Durgapur expressway

2. ✖ APCRDA 'Greenway'

3. ✔ Sher Shah Suri Marg

4. ✖ Dibrugarh to Tuipang Road

Question Number : 148 Question Id : 162653151 Question Type : MCQ Option Shuffling : Yes Display Question Number : Yes
Single Line Question Option : No Option Orientation : Vertical

Correct Marks : 1 Wrong Marks : 0.25

राष्ट्रीय राजमार्ग संख्या-1 का नाम क्या है?

Options :

1. ✖ दुर्गापुर एक्सप्रेसवे

2. ✖ ए.पी.सी.आर.डी.ए. 'ग्रीनवे'

3. ✔ शेर शाह सूरी मार्ग

4. ✖ डिब्रूगढ़ - तुईपांग मार्ग

Question Number : 149 Question Id : 162653152 Question Type : MCQ Option Shuffling : Yes Display Question Number : Yes
Single Line Question Option : No Option Orientation : Vertical

Correct Marks : 1 Wrong Marks : 0.25

What is the length of the pipeline that was constructed to connect Salaya (Gujarat) with Mathura (UP)?

Options :

1. ✖ 1248 km

2. ✖ 1289 km

3. ✔ 1256 km

4. ✖ 1265 km

Question Number : 149 Question Id : 162653152 Question Type : MCQ Option Shuffling : Yes Display Question Number : Yes
Single Line Question Option : No Option Orientation : Vertical

Correct Marks : 1 Wrong Marks : 0.25

मथुरा (यूपी) के साथ सालाया (गुजरात) को जोड़ने के लिए बनाई गई पाइपलाइन की लंबाई कितनी है?

Options :

1. ✖ 1248 km

2. ✖ 1289 km

3. ✔ 1256 km

4. ✖ 1265 km

Question Number : 150 Question Id : 162653153 Question Type : MCQ Option Shuffling : Yes Display Question Number : Yes
Single Line Question Option : No Option Orientation : Vertical

Correct Marks : 1 Wrong Marks : 0.25

Which one of the following is the nuclear power plant in Karnataka?

Options :

1. ✖ Kalpakkam

2. ✖ Tarapur

3. ✖ Naraura

4. ✔ Kaiga

Question Number : 150 Question Id : 162653153 Question Type : MCQ Option Shuffling : Yes Display Question Number : Yes
Single Line Question Option : No Option Orientation : Vertical

Correct Marks : 1 Wrong Marks : 0.25

कर्नाटक में परमाणु ऊर्जा संयंत्र निम्नलिखित में से कौन सा है?

Options :

1. ✖ कलपक्कम

2. ✖ तारापुर

3. ✖ नरौरा

4. ✔ कैगा

Question Number : 151 Question Id : 162653154 Question Type : MCQ Option Shuffling : Yes Display Question Number : Yes
Single Line Question Option : No Option Orientation : Vertical

Correct Marks : 1 Wrong Marks : 0.25

Disasters are classified into four types. Floods come under which type of disaster?

Options :

1. ✖ Atmospheric

2. ✔ Aquatic

3. ✖ Biological

4. ✖ Terrestrial

Question Number : 151 Question Id : 162653154 Question Type : MCQ Option Shuffling : Yes Display Question Number : Yes
Single Line Question Option : No Option Orientation : Vertical

Correct Marks : 1 Wrong Marks : 0.25

आपदाओं को चार प्रकार में वर्गीकृत किया जाता है। बाढ़ किस तरह की आपदा के अंतर्गत आती है?

Options :

1. ✖ वायुमंडलीय

2. ✔ जलीय

3. ✖ जैविक

4. ✖ स्थल

Question Number : 152 Question Id : 162653155 Question Type : MCQ Option Shuffling : Yes Display Question Number : Yes
Single Line Question Option : No Option Orientation : Vertical

Correct Marks : 1 Wrong Marks : 0.25

While determining the poverty line in India, a minimum requirement of food was taken into consideration. What is the average requirement of calories per person per day in rural areas?

Options :

1. ✖ 2100 calories

2. ✖ 2300 calories

3. ✔ 2400 calories

4. ✖ 2200 calories

Question Number : 152 Question Id : 162653155 Question Type : MCQ Option Shuffling : Yes Display Question Number : Yes
Single Line Question Option : No Option Orientation : Vertical

Correct Marks : 1 Wrong Marks : 0.25

भारत में गरीबी रेखा का निर्धारण करते समय, भोजन की न्यूनतम आवश्यकता को ध्यान में रखा गया। ग्रामीण क्षेत्रों में प्रति व्यक्ति कितनी कैलोरी की औसत आवश्यकता होती है?

Options :

1. ✖ 2100 कैलोरी

2. ✖ 2300 कैलोरी

3. ✔ 2400 कैलोरी

4. ✖ 2200 कैलोरी

Question Number : 153 Question Id : 162653156 Question Type : MCQ Option Shuffling : Yes Display Question Number : Yes
Single Line Question Option : No Option Orientation : Vertical

Correct Marks : 1 Wrong Marks : 0.25

Name the programme that promises 100 days of guaranteed wage employment to all rural households who volunteer to do unskilled manual work?

Options :

1. ✖ PMEGP

2. ✖ PMRY

3. ✓ NREGA

4. ✗ REGP

Question Number : 153 Question Id : 162653156 Question Type : MCQ Option Shuffling : Yes Display Question Number : Yes
Single Line Question Option : No Option Orientation : Vertical

Correct Marks : 1 Wrong Marks : 0.25

ऐसे कार्यक्रम का नाम बताएं जो सभी ग्रामीण परिवारों, जो अकुशल मैन्युअल काम करने के लिए इच्छुक हैं, को न्यूनतम 100 दिनों की गारंटीकृत मजदूरी के रोजगार को देने वादा करता है?

Options :

1. ✗ पी.एम.ई.जी.पी.

2. ✗ पी.एम.आर.वाई.

3. ✓ एन.आर.ई.जी.ए.

4. ✗ आर.ई.जी.पी.

Question Number : 154 Question Id : 162653157 Question Type : MCQ Option Shuffling : Yes Display Question Number : Yes
Single Line Question Option : No Option Orientation : Vertical

Correct Marks : 1 Wrong Marks : 0.25

To signify the achievements of the Green Revolution, a stamp was released by the then Prime Minister Mrs. Indira Gandhi. This stamp was entitled as:

Options :

1. ✗ 'Green Revolution' in June 1967

2. ✗ 'Rice Revolution' in September 1965

3. ✓ 'Wheat Revolution' in July 1968

4. ✗ 'Yellow Revolution' in March 1966

Question Number : 154 Question Id : 162653157 Question Type : MCQ Option Shuffling : Yes Display Question Number : Yes
Single Line Question Option : No Option Orientation : Vertical

Correct Marks : 1 Wrong Marks : 0.25

हरित क्रांति की उपलब्धियों को इंगित करने के लिए तत्कालीन प्रधानमंत्री श्रीमती इंदिरा गांधी द्वारा एक डाक टिकट जारी किया गया था। इस टिकट को क्या कहा गया?

Options :

1. ✗ जून 1967 में 'हरित क्रांति'

2. ✖ सितंबर 1965 में 'चावल क्रांति'

3. ✔ जुलाई 1968 में 'गेहूं क्रांति'

4. ✖ मार्च 1966 में 'पीला क्रांति'

Question Number : 155 Question Id : 162653158 Question Type : MCQ Option Shuffling : Yes Display Question Number : Yes
Single Line Question Option : No Option Orientation : Vertical

Correct Marks : 1 Wrong Marks : 0.25

The stocks of wheat and rice are procured by the government to have a buffer stock. This is done via:

Options :

1. ✖ Public distribution system

2. ✔ Food Corporation of India

3. ✖ Cooperative societies

4. ✖ Banks

Question Number : 155 Question Id : 162653158 Question Type : MCQ Option Shuffling : Yes Display Question Number : Yes
Single Line Question Option : No Option Orientation : Vertical

Correct Marks : 1 Wrong Marks : 0.25

गेहूं और चावल का स्टॉक सरकार द्वारा बफर स्टॉक रखने के लिए खरीदे जाते हैं। यह किसके माध्यम से किया जाता है?

Options :

1. ✖ सार्वजनिक वितरण प्रणाली

2. ✔ भारतीय खाद्य निगम

3. ✖ सहकारी समितियां

4. ✖ बैंक

Question Number : 156 Question Id : 162653159 Question Type : MCQ Option Shuffling : Yes Display Question Number : Yes
Single Line Question Option : No Option Orientation : Vertical

Correct Marks : 1 Wrong Marks : 0.25

Which port is known as 'Queen of Arabian Sea'?

Options :

1. ✔ Kochchi port

2. ✖ Mumbai port
3. ✖ Kandla port
4. ✖ Marmagao port

Question Number : 156 Question Id : 162653159 Question Type : MCQ Option Shuffling : Yes Display Question Number : Yes
Single Line Question Option : No Option Orientation : Vertical
Correct Marks : 1 Wrong Marks : 0.25

कौन सा बंदरगाह 'अरब सागर की रानी' के रूप में जाना जाता है?

Options :

1. ✔ कोची बंदरगाह
2. ✖ मुंबई बंदरगाह
3. ✖ कंदला बंदरगाह
4. ✖ मारमागाओ बंदरगाह

Question Number : 157 Question Id : 162653160 Question Type : MCQ Option Shuffling : Yes Display Question Number : Yes
Single Line Question Option : No Option Orientation : Vertical
Correct Marks : 1 Wrong Marks : 0.25

The major criterion considered by the World Development Report – 2006, published by the World Bank to classify the countries, is:

Options :

1. ✖ Gross Domestic Product (GDP)
2. ✔ Per capita income
3. ✖ National income
4. ✖ Health

Question Number : 157 Question Id : 162653160 Question Type : MCQ Option Shuffling : Yes Display Question Number : Yes
Single Line Question Option : No Option Orientation : Vertical
Correct Marks : 1 Wrong Marks : 0.25

विश्व बैंक द्वारा प्रकाशित विश्व विकास रिपोर्ट - 2006 में देशों को वर्गीकृत करने के लिए प्रमुख मानदंड क्या है?

Options :

1. ✖ सकल घरेलू उत्पाद

2. ✓ प्रति व्यक्ति आय

3. ✗ राष्ट्रीय आय

4. ✗ स्वास्थ्य

Question Number : 158 Question Id : 162653161 Question Type : MCQ Option Shuffling : Yes Display Question Number : Yes
Single Line Question Option : No Option Orientation : Vertical

Correct Marks : 1 Wrong Marks : 0.25

The only country in the world to officially proclaim the Gross National Happiness as the measure of the country's progress is:

Options :

1. ✓ Bhutan

2. ✗ Indonesia

3. ✗ Singapore

4. ✗ India

Question Number : 158 Question Id : 162653161 Question Type : MCQ Option Shuffling : Yes Display Question Number : Yes
Single Line Question Option : No Option Orientation : Vertical

Correct Marks : 1 Wrong Marks : 0.25

दुनिया का एकमात्र देश जो देश की प्रगति नापने के लिए आधिकारिक तौर पर सकल राष्ट्रीय खुशहाली का प्रचार करता है?

Options :

1. ✓ भूटान

2. ✗ इंडोनेशिया

3. ✗ सिंगापुर

4. ✗ भारत

Question Number : 159 Question Id : 162653162 Question Type : MCQ Option Shuffling : Yes Display Question Number : Yes
Single Line Question Option : No Option Orientation : Vertical

Correct Marks : 1 Wrong Marks : 0.25

What was the purpose of the Industrial Policy Resolution of 1956?

Options :

1. ✗ Small scale industries

- 2. ✖ Trade policy
- 3. ✖ Sustained development
- 4. ✔ Regional equality

Question Number : 159 Question Id : 162653162 Question Type : MCQ Option Shuffling : Yes Display Question Number : Yes
Single Line Question Option : No Option Orientation : Vertical
Correct Marks : 1 Wrong Marks : 0.25

1956 की औद्योगिक नीति संकल्प का उद्देश्य क्या था?

Options :

- 1. ✖ छोटे पैमाने पर उद्योग
- 2. ✖ व्यापार नीति
- 3. ✖ सतत विकास
- 4. ✔ क्षेत्रीय समानता

Question Number : 160 Question Id : 162653163 Question Type : MCQ Option Shuffling : Yes Display Question Number : Yes
Single Line Question Option : No Option Orientation : Vertical
Correct Marks : 1 Wrong Marks : 0.25

The industries that produce raw materials for the other industries are known as:

Options :

- 1. ✔ Basic industries
- 2. ✖ Footloose industries
- 3. ✖ Small scale industries
- 4. ✖ Unorganised sectors

Question Number : 160 Question Id : 162653163 Question Type : MCQ Option Shuffling : Yes Display Question Number : Yes
Single Line Question Option : No Option Orientation : Vertical
Correct Marks : 1 Wrong Marks : 0.25

उद्योग जो अन्य उद्योगों के लिए कच्चे माल का उत्पादन करते हैं, उन्हें किस प्रकार जाना जाता है?

Options :

- 1. ✔ मूल उद्योग

2. ❌ ફૂટલૂજ ઉદ્યોગ

3. ❌ લઘુ ઉદ્યોગ

4. ❌ અસંગઠિત ક્ષેત્ર

Subject Related

Group Number :	9
Group Id :	1626539
Group Maximum Duration :	0
Group Minimum Duration :	0
Revisit allowed for view? :	No
Revisit allowed for edit? :	No
Break time:	0
Group Marks:	20
Revisit allowed for group Instructions? :	Yes
Maximum Instruction Time:	0
Minimum Instruction Time:	0

Subject Related

Section Id :	1626539
Section Number :	1
Section type :	Online
Mandatory or Optional:	Mandatory
Number of Questions:	20
Number of Questions to be attempted:	20
Section Marks:	20
Display Number Panel:	Yes
Group All Questions:	No

Sub-Section Number:	1
Sub-Section Id:	16265312
Question Shuffling Allowed :	Yes

Question Number : 161 Question Id : 162653164 Question Type : MCQ Option Shuffling : Yes Display Question Number : Yes
Single Line Question Option : No Option Orientation : Vertical

Correct Marks : 1 Wrong Marks : 0.25

All those private sector establishments and the public sector establishments that employ 10 or more hired workers are called:

Options :

1. ❌ Public sector establishments

2. ❌ Trade unions

3. ✓ Formal sector establishments

4. ✗ Private sector establishments

Question Number : 161 Question Id : 162653164 Question Type : MCQ Option Shuffling : Yes Display Question Number : Yes
Single Line Question Option : No Option Orientation : Vertical

Correct Marks : 1 Wrong Marks : 0.25

उन सभी निजी क्षेत्र की प्रतिष्ठानों और सार्वजनिक क्षेत्र की प्रतिष्ठान जिनमे 10 या उससे अधिक किराए पर लिए मजदुर काम करते हैं उन्हें कहा क्या जाता है?

Options :

1. ✗ सार्वजनिक क्षेत्र प्रतिष्ठान

2. ✗ ट्रेड यूनियन

3. ✓ औपचारिक क्षेत्र प्रतिष्ठान

4. ✗ निजी क्षेत्र प्रतिष्ठान

Question Number : 162 Question Id : 162653165 Question Type : MCQ Option Shuffling : Yes Display Question Number : Yes
Single Line Question Option : No Option Orientation : Vertical

Correct Marks : 1 Wrong Marks : 0.25

What is the essential feature of a barter system?

Options :

1. ✗ Availability of goods

2. ✓ Double coincidence of wants

3. ✗ Demand for goods

4. ✗ Desire for the goods

Question Number : 162 Question Id : 162653165 Question Type : MCQ Option Shuffling : Yes Display Question Number : Yes
Single Line Question Option : No Option Orientation : Vertical

Correct Marks : 1 Wrong Marks : 0.25

वस्तु विनिमय प्रणाली (बार्टर सिस्टम) की आवश्यक विशेषता क्या है?

Options :

1. ✗ माल की उपलब्धता

2. ✓ आवश्यकताओं का दोहरा संयोग

3. ✖ माल की मांग

4. ✖ माल की इच्छा

Question Number : 163 Question Id : 162653166 Question Type : MCQ Option Shuffling : Yes Display Question Number : Yes
Single Line Question Option : No Option Orientation : Vertical

Correct Marks : 1 Wrong Marks : 0.25

An asset that a barrower owns and uses the same as a guarantee to a lender until the loan is repaid is known as:

Options :

1. ✔ Collateral

2. ✖ Guarantee

3. ✖ Mortgage

4. ✖ Deposit

Question Number : 163 Question Id : 162653166 Question Type : MCQ Option Shuffling : Yes Display Question Number : Yes
Single Line Question Option : No Option Orientation : Vertical

Correct Marks : 1 Wrong Marks : 0.25

एक संपत्ति जिसका मालिक कर्जदार होता है और उसे ऋण चुकाए जाने तक जमानत के रूप में उपयोग करता है, उस संपत्ति को क्या कहा जाता है?

Options :

1. ✔ संपाशिवक

2. ✖ गारंटी

3. ✖ बंधक

4. ✖ जमा

Question Number : 164 Question Id : 162653167 Question Type : MCQ Option Shuffling : Yes Display Question Number : Yes
Single Line Question Option : No Option Orientation : Vertical

Correct Marks : 1 Wrong Marks : 0.25

Who was the founder of Grameen Banks in Bangladesh?

Options :

1. ✔ Prof. Mohammad Yunus

2. ✖ Mr. Bhuvanendra Takoor

3. ✖ Babul Saha

4. ✖ Mary Houghton

Question Number : 164 Question Id : 162653167 Question Type : MCQ Option Shuffling : Yes Display Question Number : Yes
Single Line Question Option : No Option Orientation : Vertical

Correct Marks : 1 Wrong Marks : 0.25

बांग्लादेश में ग्रामीण बैंक के संस्थापक कौन थे?

Options :

1. ✔ प्रो. मोहम्मद यूनूस

2. ✖ श्री भुवनेंद्र तक्रूर

3. ✖ बाबुल साहा

4. ✖ मैरी हॉटन

Question Number : 165 Question Id : 162653168 Question Type : MCQ Option Shuffling : Yes Display Question Number : Yes
Single Line Question Option : No Option Orientation : Vertical

Correct Marks : 1 Wrong Marks : 0.25

How many members are there in a typical SHG?

Options :

1. ✖ 10 to 15

2. ✖ 15 to 25

3. ✖ 10 to 20

4. ✔ 15 to 20

Question Number : 165 Question Id : 162653168 Question Type : MCQ Option Shuffling : Yes Display Question Number : Yes
Single Line Question Option : No Option Orientation : Vertical

Correct Marks : 1 Wrong Marks : 0.25

एक विशिष्ट एस.एच.जी. में कितने सदस्य होते हैं?

Options :

1. ✖ 10 से 15

2. ✖ 15 से 25

3. ✖ 10 से 20

4. ✔ 15 से 20

Question Number : 166 Question Id : 162653169 Question Type : MCQ Option Shuffling : Yes Display Question Number : Yes
Single Line Question Option : No Option Orientation : Vertical

Correct Marks : 1 Wrong Marks : 0.25

A situation when it becomes a burden for the lender to repay the loan and needs to borrow a new loan to pay the existing is called _____.

Options :

1. ✖ Terms of Credit

2. ✔ Debt Trap

3. ✖ Demand Draft

4. ✖ Medium of exchange

Question Number : 166 Question Id : 162653169 Question Type : MCQ Option Shuffling : Yes Display Question Number : Yes
Single Line Question Option : No Option Orientation : Vertical

Correct Marks : 1 Wrong Marks : 0.25

एक स्थिति जब ऋणदाता को ऋण चुकाना बोज़ बन जाता है और मौजूदा भुगतान करने के लिए एक नया ऋण उधार लेने की आवश्यकता होती है उसे _____ कहा जाता है।

Options :

1. ✖ क्रेडिट की शर्त

2. ✔ ऋण जाल

3. ✖ मांग पत्र

4. ✖ विनिमय का माध्यम

Question Number : 167 Question Id : 162653170 Question Type : MCQ Option Shuffling : Yes Display Question Number : Yes
Single Line Question Option : No Option Orientation : Vertical

Correct Marks : 1 Wrong Marks : 0.25

In which form of power sharing do we find the arrangement of the system of checks and balances?

Options :

1. ✖ Vertical form of power sharing

2. ✖ Power sharing among different political parties

3. ✓ Horizontal form of power sharing
4. ✗ Power sharing among different social groups

Question Number : 167 Question Id : 162653170 Question Type : MCQ Option Shuffling : Yes Display Question Number : Yes
Single Line Question Option : No Option Orientation : Vertical

Correct Marks : 1 Wrong Marks : 0.25

सत्ता साझेदारी के किस रूप में हमें चेक और बैलेंस की व्यवस्था मिलती है?

Options :

1. ✗ सत्ता साझेदारी का ऊर्ध्वाधर रूप
2. ✗ विभिन्न राजनीतिक दलों के बीच सत्ता साझेदारी
3. ✓ सत्ता साझेदारी का क्षैतिज रूप
4. ✗ विभिन्न सामाजिक समूहों के बीच सत्ता साझेदारी

Question Number : 168 Question Id : 162653171 Question Type : MCQ Option Shuffling : Yes Display Question Number : Yes
Single Line Question Option : No Option Orientation : Vertical

Correct Marks : 1 Wrong Marks : 0.25

Between 1970 and 1993, how many times did the Belgium leaders amend their constitution and in relation to what?

Options :

1. ✗ 3 times; Unity in diversity
2. ✗ 2 times; Equal representation
3. ✗ 5 times; Autonomy
4. ✓ 4 times; To enable everyone to live in unity

Question Number : 168 Question Id : 162653171 Question Type : MCQ Option Shuffling : Yes Display Question Number : Yes
Single Line Question Option : No Option Orientation : Vertical

Correct Marks : 1 Wrong Marks : 0.25

1970 और 1993 के बीच, बेल्जियम नेतृत्व ने अपने संविधान में कितनी बार और किसके संदर्भ में संशोधन किया?

Options :

1. ✗ 3 बार; विविधता में एकता
2. ✗ 2 बार; समान प्रतिनिधित्व

3. ✖ 5 बार; स्वायत्तता

4. ✔ 4 बार; सभी को एकता होकर रहने हेतु सक्षम करने के लिए

Question Number : 169 Question Id : 162653172 Question Type : MCQ Option Shuffling : Yes Display Question Number : Yes
Single Line Question Option : No Option Orientation : Vertical

Correct Marks : 1 Wrong Marks : 0.25

Name the language spoken by the majority of the population in Belgium's capital city.

Options :

1. ✖ Dutch

2. ✖ German

3. ✖ Spanish

4. ✔ French

Question Number : 169 Question Id : 162653172 Question Type : MCQ Option Shuffling : Yes Display Question Number : Yes
Single Line Question Option : No Option Orientation : Vertical

Correct Marks : 1 Wrong Marks : 0.25

बेल्जियम के राजधानी शहर में अधिकांश आबादी द्वारा बोली जाने वाली भाषा का नाम क्या है?

Options :

1. ✖ डच

2. ✖ जर्मन

3. ✖ स्पेनिश

4. ✔ फ्रेंच

Question Number : 170 Question Id : 162653173 Question Type : MCQ Option Shuffling : Yes Display Question Number : Yes
Single Line Question Option : No Option Orientation : Vertical

Correct Marks : 1 Wrong Marks : 0.25

In which year's elections the Janata Dal had promised the implementation of Mandal Commission Report in its Manifesto?

Options :

1. ✖ 1990

2. ✖ 1962

3. ✖ 1972

4. ✓ 1989

Question Number : 170 Question Id : 162653173 Question Type : MCQ Option Shuffling : Yes Display Question Number : Yes
Single Line Question Option : No Option Orientation : Vertical

Correct Marks : 1 Wrong Marks : 0.25

किस वर्ष के चुनाव में जनता दल ने मंडल आयोग की रिपोर्ट को अपने घोषणापत्र में कार्यान्वित करने का वादा किया था?

Options :

1. ✗ 1990

2. ✗ 1962

3. ✗ 1972

4. ✓ 1989

Question Number : 171 Question Id : 162653174 Question Type : MCQ Option Shuffling : Yes Display Question Number : Yes
Single Line Question Option : No Option Orientation : Vertical

Correct Marks : 1 Wrong Marks : 0.25

Identify the country from the following, which has 'coming together' federation.

Options :

1. ✗ Spain

2. ✓ USA

3. ✗ India

4. ✗ Belgium

Question Number : 171 Question Id : 162653174 Question Type : MCQ Option Shuffling : Yes Display Question Number : Yes
Single Line Question Option : No Option Orientation : Vertical

Correct Marks : 1 Wrong Marks : 0.25

निम्नलिखित देशों से देश की पहचान करें, जिसमें 'एक साथ आने' का संघराज्य (कमिंग टुगेदर फेडरेशन) है।

Options :

1. ✗ स्पेन

2. ✓ यूनाइटेड स्टेट्स ऑफ अमेरिका

3. ✗ भारत

4. ✖ बेल्जियम

Question Number : 172 Question Id : 162653175 Question Type : MCQ Option Shuffling : Yes Display Question Number : Yes
Single Line Question Option : No Option Orientation : Vertical

Correct Marks : 1 Wrong Marks : 0.25

When was the The Treaty of Chaguaramas signed by the independent islands of West Indies to establish joint authorities?

Options :

1. ✔ 1973

2. ✖ 1968

3. ✖ 1962

4. ✖ 1971

Question Number : 172 Question Id : 162653175 Question Type : MCQ Option Shuffling : Yes Display Question Number : Yes
Single Line Question Option : No Option Orientation : Vertical

Correct Marks : 1 Wrong Marks : 0.25

संयुक्त प्राधिकरण बनाने के लिए वेस्टइंडीज के स्वतंत्र द्वीपों द्वारा हस्ताक्षरित चिगुआराम्स की संधि कब हुई थी?

Options :

1. ✔ 1973

2. ✖ 1968

3. ✖ 1962

4. ✖ 1971

Question Number : 173 Question Id : 162653176 Question Type : MCQ Option Shuffling : Yes Display Question Number : Yes
Single Line Question Option : No Option Orientation : Vertical

Correct Marks : 1 Wrong Marks : 0.25

What is the significance of the civil rights movement in the USA that was carried on between 1954-1968?

Options :

1. ✔ It was a movement against racially discriminatory laws

2. ✖ It was a movement against black power

3. ✖ It was a movement against religious discrimination

4. ✖ It was a movement against communal discrimination

Question Number : 173 Question Id : 162653176 Question Type : MCQ Option Shuffling : Yes Display Question Number : Yes
Single Line Question Option : No Option Orientation : Vertical

Correct Marks : 1 Wrong Marks : 0.25

1954 - 1968 के बीच संयुक्त राज्य अमेरिका में जो नागरिक अधिकारों का आंदोलन हुआ था उसका महत्व क्या है?

Options :

1. ☒ यह नस्लीय भेदभाव कानूनों के खिलाफ आंदोलन था
2. ☐ यह अश्वेत शक्ति के खिलाफ आंदोलन था
3. ☐ यह धार्मिक भेदभाव के खिलाफ आंदोलन था
4. ☐ यह सांप्रदायिक भेदभाव के खिलाफ आंदोलन था

Question Number : 174 Question Id : 162653177 Question Type : MCQ Option Shuffling : Yes Display Question Number : Yes
Single Line Question Option : No Option Orientation : Vertical

Correct Marks : 1 Wrong Marks : 0.25

Those social differences that create possibilities of deep social differences are called:

Options :

1. ☐ Crosscutting differences
2. ☒ Overlapping differences
3. ☐ Social division
4. ☐ Diversity

Question Number : 174 Question Id : 162653177 Question Type : MCQ Option Shuffling : Yes Display Question Number : Yes
Single Line Question Option : No Option Orientation : Vertical

Correct Marks : 1 Wrong Marks : 0.25

वह सामाजिक मतभेद जो गहरे सामाजिक मतभेदों की संभावनाएं पैदा करते हैं उन्हें क्या कहा जाता है?

Options :

1. ☐ क्रॉसकटिंग मतभेद
2. ☒ परस्पर-व्यापक मतभेद
3. ☐ सामाजिक विभाजन
4. ☐ विविधता

Question Number : 175 Question Id : 162653178 Question Type : MCQ Option Shuffling : Yes Display Question Number : Yes
Single Line Question Option : No Option Orientation : Vertical

Correct Marks : 1 Wrong Marks : 0.25

Who founded the Bahujan Samaj Party in 1984?

Options :

1. ✖ Mahatma Phule
2. ✔ Kanshi Ram
3. ✖ Periyar Ramaswami Naicker
4. ✖ Sahu Maharaj

Question Number : 175 Question Id : 162653178 Question Type : MCQ Option Shuffling : Yes Display Question Number : Yes
Single Line Question Option : No Option Orientation : Vertical

Correct Marks : 1 Wrong Marks : 0.25

1984 में बहुजन समाज पार्टी की स्थापना किसने की थी?

Options :

1. ✖ महात्मा फुले
2. ✔ काशीराम
3. ✖ पेरियार रामस्वामी नायकर
4. ✖ साहू महाराज

Question Number : 176 Question Id : 162653179 Question Type : MCQ Option Shuffling : Yes Display Question Number : Yes
Single Line Question Option : No Option Orientation : Vertical

Correct Marks : 1 Wrong Marks : 0.25

Changing the allegiance from the party, on whose ticket one gets elected, to some other party is known as:

Options :

1. ✔ Defection
2. ✖ Partisan
3. ✖ Loyalist
4. ✖ Alien

Question Number : 176 Question Id : 162653179 Question Type : MCQ Option Shuffling : Yes Display Question Number : Yes
Single Line Question Option : No Option Orientation : Vertical

Correct Marks : 1 Wrong Marks : 0.25

जिसके टिकट पर चुने गए उस पार्टी से अन्य पार्टी में निष्ठा को बदलना इसे क्या कहा जाता है?

Options :

1. ☒ दल बदल
2. ☐ पक्षपातपूर्ण
3. ☐ वफादार
4. ☐ विदेशी

Question Number : 177 Question Id : 162653180 Question Type : MCQ Option Shuffling : Yes Display Question Number : Yes
Single Line Question Option : No Option Orientation : Vertical

Correct Marks : 1 Wrong Marks : 0.25

Which among the following countries is an example of two-party system?

Options :

1. ☐ China
2. ☐ India
3. ☒ United Kingdom
4. ☐ Belgium

Question Number : 177 Question Id : 162653180 Question Type : MCQ Option Shuffling : Yes Display Question Number : Yes
Single Line Question Option : No Option Orientation : Vertical

Correct Marks : 1 Wrong Marks : 0.25

निम्नलिखित देशों में से कौन सा दो-दलीय प्रणाली का उदाहरण है?

Options :

1. ☐ चीन
2. ☐ भारत
3. ☒ ब्रिटेन
4. ☐ बेल्जियम

Question Number : 178 Question Id : 162653181 Question Type : MCQ Option Shuffling : Yes Display Question Number : Yes
Single Line Question Option : No Option Orientation : Vertical

Correct Marks : 1 Wrong Marks : 0.25

What is the name of the Israel's legislature?

Options :

1. ☒ Knesset
2. ☐ Duma
3. ☐ Parliament
4. ☐ National Assembly

Question Number : 178 Question Id : 162653181 Question Type : MCQ Option Shuffling : Yes Display Question Number : Yes
Single Line Question Option : No Option Orientation : Vertical
Correct Marks : 1 Wrong Marks : 0.25

इजरायल के संसद का नाम क्या है?

Options :

1. ☒ नेसेट
2. ☐ इयूमा
3. ☐ पार्लमेंट
4. ☐ नेशनल एसेंबली

Question Number : 179 Question Id : 162653182 Question Type : MCQ Option Shuffling : Yes Display Question Number : Yes
Single Line Question Option : No Option Orientation : Vertical
Correct Marks : 1 Wrong Marks : 0.25

All the candidates contesting elections have to provide information to the election commission regarding the details of their property and criminal cases pending against them. Such a declaration is called:

Options :

1. ☒ Affidavit
2. ☐ Documents
3. ☐ Election manifesto
4. ☐ Affirmation

Question Number : 179 Question Id : 162653182 Question Type : MCQ Option Shuffling : Yes Display Question Number : Yes
Single Line Question Option : No Option Orientation : Vertical
Correct Marks : 1 Wrong Marks : 0.25

चुनाव लड़ने वाले सभी उम्मीदवारों को चुनाव आयोग को उनकी संपत्ति के विवरण और उनके खिलाफ लंबित आपराधिक मामलों के बारे में जानकारी प्रदान करनी है। इस तरह की एक घोषणा को क्या कहा जाता है?

Options :

1. ☒ शपथ पत्र
2. ☐ दस्तावेज़
3. ☐ चुनाव घोषणापत्र
4. ☐ अभिकथन

Question Number : 180 Question Id : 162653183 Question Type : MCQ Option Shuffling : Yes Display Question Number : Yes
Single Line Question Option : No Option Orientation : Vertical

Correct Marks : 1 Wrong Marks : 0.25

What is the guiding principle of the political party CPI?

Options :

1. ☒ Marxism – Leninism
2. ☐ Hindutva
3. ☐ Religious minorities
4. ☐ Gandhian Secularism

Question Number : 180 Question Id : 162653183 Question Type : MCQ Option Shuffling : Yes Display Question Number : Yes
Single Line Question Option : No Option Orientation : Vertical

Correct Marks : 1 Wrong Marks : 0.25

राजनितिक दल सी.पी.आई. का मार्गदर्शक सिद्धांत क्या है?

Options :

1. ☒ मार्क्सवाद - लेनिनवाद
2. ☐ हिंदुत्व
3. ☐ धार्मिक अल्पसंख्यक
4. ☐ गांधीवादी धर्मनिरपेक्षता

Subject Related

Group Number :	10
Group Id :	16265310
Group Maximum Duration :	0
Group Minimum Duration :	120
Revisit allowed for view? :	No
Revisit allowed for edit? :	No
Break time:	0
Group Marks:	20
Revisit allowed for group Instructions? :	Yes
Maximum Instruction Time:	0
Minimum Instruction Time:	0

Subject Related

Section Id :	16265310
Section Number :	1
Section type :	Online
Mandatory or Optional:	Mandatory
Number of Questions:	20
Number of Questions to be attempted:	20
Section Marks:	20
Display Number Panel:	Yes
Group All Questions:	No

Sub-Section Number:	1
Sub-Section Id:	16265313
Question Shuffling Allowed :	Yes

Question Number : 181 Question Id : 162653184 Question Type : MCQ Option Shuffling : Yes Display Question Number : Yes
Single Line Question Option : No Option Orientation : Vertical

Correct Marks : 1 Wrong Marks : 0.25

When did General Pervez Musharraf lead a military coup in Pakistan?

Options :

1. ✖ June 1989
2. ✖ March 1996
3. ✔ October 1999
4. ✖ August 1997

Question Number : 181 Question Id : 162653184 Question Type : MCQ Option Shuffling : Yes Display Question Number : Yes
Single Line Question Option : No Option Orientation : Vertical

Correct Marks : 1 Wrong Marks : 0.25

जनरल परवेज मुशरफ ने पाकिस्तान में सैन्य तख्तापलट कब किया था?

Options :

1. ✖ जून 1989
2. ✖ मार्च 1996
3. ✔ अक्टूबर 1999
4. ✖ अगस्त 1997

Question Number : 182 Question Id : 162653185 Question Type : MCQ Option Shuffling : Yes Display Question Number : Yes
Single Line Question Option : No Option Orientation : Vertical

Correct Marks : 1 Wrong Marks : 0.25

Studies on dignity and freedom of citizens in democracy show that:

Options :

1. ✔ Promoting dignity and individual freedom
2. ✖ Promoting dignity and inequalities among individuals
3. ✖ Promoting dignity among men and inequalities among women
4. ✖ Promoting inequalities among communities

Question Number : 182 Question Id : 162653185 Question Type : MCQ Option Shuffling : Yes Display Question Number : Yes
Single Line Question Option : No Option Orientation : Vertical

Correct Marks : 1 Wrong Marks : 0.25

लोकतंत्र में नागरिकों की गरिमा और स्वतंत्रता पर अध्ययन से पता चलता है कि:

Options :

1. ✔ गरिमा और व्यक्तिगत आजादी को बढ़ावा देना
2. ✖ व्यक्तियों के बीच गरिमा और असमानताओं को बढ़ावा देना
3. ✖ पुरुषों के बीच गरिमा को बढ़ावा देना और महिलाओं के बीच असमानता को बढ़ावा देना
4. ✖ समुदायों के बीच असमानताओं को बढ़ावा देना

Question Number : 183 Question Id : 162653186 Question Type : MCQ Option Shuffling : Yes Display Question Number : Yes
Single Line Question Option : No Option Orientation : Vertical

Correct Marks : 1 Wrong Marks : 0.25

Which type of challenge do established democracies face?

Options :

1. ✖ Transition of democracy
2. ✖ Instituting democratic government
3. ✔ Expansion of democracy
4. ✖ Elimination of democracy

Question Number : 183 Question Id : 162653186 Question Type : MCQ Option Shuffling : Yes Display Question Number : Yes
Single Line Question Option : No Option Orientation : Vertical

Correct Marks : 1 Wrong Marks : 0.25

किस तरह की चुनौती का स्थापित लोकतंत्र को सामना करना पड़ता है?

Options :

1. ✖ लोकतंत्र का संक्रमण
2. ✖ लोकतांत्रिक सरकार स्थापित करना
3. ✔ लोकतंत्र का विस्तार
4. ✖ लोकतंत्र का उन्मूलन

Question Number : 184 Question Id : 162653187 Question Type : MCQ Option Shuffling : Yes Display Question Number : Yes
Single Line Question Option : No Option Orientation : Vertical

Correct Marks : 1 Wrong Marks : 0.25

After the April 2006 popular movement, who was chosen as the new Prime Minister of Nepal by SPA?

Options :

1. ✔ Girija Prasad Koirala
2. ✖ King Gyanendra
3. ✖ Madhav Kumar Nepal
4. ✖ Baburam Bhattarai

Question Number : 184 Question Id : 162653187 Question Type : MCQ Option Shuffling : Yes Display Question Number : Yes
Single Line Question Option : No Option Orientation : Vertical

Correct Marks : 1 Wrong Marks : 0.25

अप्रैल 2006 के जन आंदोलन के बाद, किसे एस.पी.ए. द्वारा नेपाल के नए प्रधान मंत्री के रूप में चुना गया था?

Options :

1. ✓ गिरिजा प्रसाद कोइराला
2. ✗ राजा जार्ज
3. ✗ माधव कुमार नेपाल
4. ✗ बाबूराम भट्टाराय

Question Number : 185 Question Id : 162653188 Question Type : MCQ Option Shuffling : Yes Display Question Number : Yes
Single Line Question Option : No Option Orientation : Vertical

Correct Marks : 1 Wrong Marks : 0.25

What does BAMCEF stand for?

Options :

1. ✗ Backward and Muslim Community Employees Federation
2. ✗ Bangladesh Muslim Community Employers Federation
3. ✓ Backward and Minority Communities Employees Federation
4. ✗ Bhutan Mineral Corporation Employer Federation

Question Number : 185 Question Id : 162653188 Question Type : MCQ Option Shuffling : Yes Display Question Number : Yes
Single Line Question Option : No Option Orientation : Vertical

Correct Marks : 1 Wrong Marks : 0.25

बामसेफ (BAMCEF) का पूर्ण रूप निम्न में से क्या है?

Options :

1. ✗ बैकवर्ड एंड मुस्लिम कम्युनिटी एम्प्लॉइज फेडरेशन
2. ✗ बांग्लादेश मुस्लिम कम्युनिटी एम्प्लॉयर्स फेडरेशन
3. ✓ बैकवर्ड एंड माइनॉरिटी कम्युनिटीज एम्प्लॉइज फेडरेशन
4. ✗ भूटान मिनरल कारपोरेशन एम्प्लॉयर फेडरेशन

Question Number : 186 Question Id : 162653189 Question Type : MCQ Option Shuffling : Yes Display Question Number : Yes
Single Line Question Option : No Option Orientation : Vertical

Correct Marks : 1 Wrong Marks : 0.25

Which among the following is the constitutional amendment act on Panchayat Raj Institutions?

Options :

1. ☒ 73rd amendment act
2. ☐ 74th amendment act
3. ☐ 46th amendment act
4. ☐ 64th amendment act

Question Number : 186 Question Id : 162653189 Question Type : MCQ Option Shuffling : Yes Display Question Number : Yes
Single Line Question Option : No Option Orientation : Vertical

Correct Marks : 1 Wrong Marks : 0.25

पंचायत राज संस्थानों के बारे में संवैधानिक संशोधन अधिनियम निम्नलिखित में से कौन सा है?

Options :

1. ☒ 73 वां संशोधन अधिनियम
2. ☐ 74 वां संशोधन अधिनियम
3. ☐ 46 वां संशोधन अधिनियम
4. ☐ 64 वां संशोधन अधिनियम

Question Number : 187 Question Id : 162653190 Question Type : MCQ Option Shuffling : Yes Display Question Number : Yes
Single Line Question Option : No Option Orientation : Vertical

Correct Marks : 1 Wrong Marks : 0.25

What does IRDP stand for?

Options :

1. ☒ Integrated Rural Development Programme
2. ☐ International Rural Development Programme
3. ☐ Integrated Rural Development Project
4. ☐ Integrated Rural Democracy Project

Question Number : 187 Question Id : 162653190 Question Type : MCQ Option Shuffling : Yes Display Question Number : Yes
Single Line Question Option : No Option Orientation : Vertical

Correct Marks : 1 Wrong Marks : 0.25

आई.आर.डी.पी. का पूर्ण रूप क्या है?

Options :

1. ✓ इंटीग्रेटेड रूरल डेवलपमेंट प्रोग्राम (एकीकृत ग्रामीण विकास कार्यक्रम)
2. ✗ इंटरनेशनल रूरल डेवलपमेंट प्रोग्राम (अंतर्राष्ट्रीय ग्रामीण विकास कार्यक्रम)
3. ✗ इंटीग्रेटेड रूरल डेवलपमेंट प्रोजेक्ट (एकीकृत ग्रामीण विकास परियोजना)
4. ✗ इंटीग्रेटेड रूरल डेमोक्रेसी प्रोजेक्ट (एकीकृत ग्रामीण लोकतंत्र परियोजना)

Question Number : 188 Question Id : 162653191 Question Type : MCQ Option Shuffling : Yes Display Question Number : Yes
Single Line Question Option : No Option Orientation : Vertical

Correct Marks : 1 Wrong Marks : 0.25

Who said this "The Constituent Assembly alone can produce a Constitution indigenous to the country and truly and fully representing the will of the people"

Options :

1. ✗ Dr. Sarvepalli RadhaKrishnan
2. ✗ Jawaharlal Nehru
3. ✗ Dr. B.R. Ambedkar
4. ✓ Mahatma Gandhi

Question Number : 188 Question Id : 162653191 Question Type : MCQ Option Shuffling : Yes Display Question Number : Yes
Single Line Question Option : No Option Orientation : Vertical

Correct Marks : 1 Wrong Marks : 0.25

यह किसने कहा "अकेले संविधान सभा देश के लिए स्वदेशी संविधान का निर्माण कर सकती है, जो वास्तव में और पूरी तरह से जनता की इच्छा का प्रतिनिधित्व कर सकती है"?

Options :

1. ✗ डॉ सर्वपल्ली राधाकृष्णन
2. ✗ जवाहर लाल नेहरू
3. ✗ डॉ बी.आर. अम्बेडकर
4. ✓ महात्मा गांधी

Question Number : 189 Question Id : 162653192 Question Type : MCQ Option Shuffling : Yes Display Question Number : Yes
Single Line Question Option : No Option Orientation : Vertical

Correct Marks : 1 Wrong Marks : 0.25

The Supreme court can declare any law of legislature as invalid and can determine the constitutional validity of any law or action of the executive in the country when it is challenged. This is called as:

Options :

1. ☒ Judicial review
2. ☐ Guardian
3. ☐ Integrated judiciary
4. ☐ Impeachment

Question Number : 189 Question Id : 162653192 Question Type : MCQ Option Shuffling : Yes Display Question Number : Yes
Single Line Question Option : No Option Orientation : Vertical

Correct Marks : 1 Wrong Marks : 0.25

सुप्रीम कोर्ट विधायिका के किसी भी कानून को अमान्य घोषित कर सकती है और इसे चुनौती देने पर देश में कार्य पालिक के किसी भी कानून या कार्रवाई की संवैधानिक वैधता निर्धारित कर सकती है। इसे किस प्रकार से जाना जाता है?

Options :

1. ☒ न्यायिक समीक्षा
2. ☐ संरक्षक (गार्डियन)
3. ☐ एकीकृत न्यायपालिका
4. ☐ अभियोग

Question Number : 190 Question Id : 162653193 Question Type : MCQ Option Shuffling : Yes Display Question Number : Yes
Single Line Question Option : No Option Orientation : Vertical

Correct Marks : 1 Wrong Marks : 0.25

For the enforcement of the fundamental rights, the Supreme Court and High Courts have the power to issue directions, orders or _____.

Options :

1. ☐ public interest litigations
2. ☐ laws
3. ☒ writs
4. ☐ petitions

Question Number : 190 Question Id : 162653193 Question Type : MCQ Option Shuffling : Yes Display Question Number : Yes
Single Line Question Option : No Option Orientation : Vertical

Correct Marks : 1 Wrong Marks : 0.25

मौलिक अधिकारों के प्रवर्तन के लिए, सर्वोच्च न्यायालय और उच्च न्यायालयों के पास निर्देश, आदेश या _____ जारी करने की शक्ति है।

Options :

1. ✖ जनहित याचिका
2. ✖ कानून
3. ✔ प्रादेश (रिट)
4. ✖ याचिका

Sub-Section Number: 2
Sub-Section Id: 16265314
Question Shuffling Allowed : Yes

Question Number : 191 Question Id : 162653194 Question Type : MCQ Option Shuffling : Yes Display Question Number : Yes
Single Line Question Option : No Option Orientation : Vertical

Correct Marks : 1 Wrong Marks : 0.25

Which is the most influential factor with regard to gender identity in early childhood?

Options :

1. ✔ Parents, family members and care givers
2. ✖ Movies and books
3. ✖ Other children
4. ✖ School environment

Question Number : 191 Question Id : 162653194 Question Type : MCQ Option Shuffling : Yes Display Question Number : Yes
Single Line Question Option : No Option Orientation : Vertical

Correct Marks : 1 Wrong Marks : 0.25

प्रारंभिक बचपन में लिंग पहचान के संदर्भ में सबसे प्रभावशाली कारक कौनसा है?

Options :

1. ✔ माता-पिता, परिवार के सदस्य और देखभाल करने वाले
2. ✖ सिनेमा और किताबें

3. ✖ अन्य बच्चे

4. ✖ स्कूल पर्यावरण

Question Number : 192 Question Id : 162653195 Question Type : MCQ Option Shuffling : Yes Display Question Number : Yes
Single Line Question Option : No Option Orientation : Vertical

Correct Marks : 1 Wrong Marks : 0.25

Which country has long history of formal education institution?

Options :

1. ✖ America

2. ✖ England

3. ✖ Australia

4. ✔ India

Question Number : 192 Question Id : 162653195 Question Type : MCQ Option Shuffling : Yes Display Question Number : Yes
Single Line Question Option : No Option Orientation : Vertical

Correct Marks : 1 Wrong Marks : 0.25

किस देश में औपचारिक शिक्षा संस्थान का लंबा इतिहास है?

Options :

1. ✖ अमेरिका

2. ✖ इंग्लैंड

3. ✖ ऑस्ट्रेलिया

4. ✔ भारत

Question Number : 193 Question Id : 162653196 Question Type : MCQ Option Shuffling : Yes Display Question Number : Yes
Single Line Question Option : No Option Orientation : Vertical

Correct Marks : 1 Wrong Marks : 0.25

Who is an auditory learner from the following?

Options :

1. ✔ Who remembers the information, reciting it back to the presenter

2. ✖ Who will jump at the chance to participate in a hands-on activity

3. ✖ Who prefers to see the information for learning

4. ✖ Who is interacting with texts

Question Number : 193 Question Id : 162653196 Question Type : MCQ Option Shuffling : Yes Display Question Number : Yes
Single Line Question Option : No Option Orientation : Vertical

Correct Marks : 1 Wrong Marks : 0.25

निम्नलिखित से श्रवण शिक्षार्थी कौन है?

Options :

1. ✔ जो जानकारी को याद रख के उसे प्रस्तुतकर्ता को वर्णित करता है

2. ✖ व्यावहारिक व क्रियाशील गतिविधि में हिस्सा लेने के अवसर पर जो बहुत उत्साहित होता है

3. ✖ जो सीखने पर जानकारी को देखना पसंद करता हो

4. ✖ जो ग्रंथों के साथ बातचीत करता है

Question Number : 194 Question Id : 162653197 Question Type : MCQ Option Shuffling : Yes Display Question Number : Yes
Single Line Question Option : No Option Orientation : Vertical

Correct Marks : 1 Wrong Marks : 0.25

Reading and writing learners learn best:

Options :

1. ✔ When they are interacting with texts

2. ✖ When they are attending regular tests

3. ✖ When they are reciting in class

4. ✖ When art is integrated in learning

Question Number : 194 Question Id : 162653197 Question Type : MCQ Option Shuffling : Yes Display Question Number : Yes
Single Line Question Option : No Option Orientation : Vertical

Correct Marks : 1 Wrong Marks : 0.25

शिक्षार्थी पढ़ना और लिखना सर्वश्रेष्ठ तरीके से तब सिख सकते हैं:

Options :

1. ✔ जब वे ग्रंथों के साथ बातचीत कर रहे होते हैं

2. ✖ जब वे नियमित परीक्षण में भाग ले रहे होते हैं

3. ✖ जब वे कक्षा में पढ़ रहे होते हैं
4. ✖ जब कला सीखने में एकीकृत होती है

Question Number : 195 Question Id : 162653198 Question Type : MCQ Option Shuffling : Yes Display Question Number : Yes
Single Line Question Option : No Option Orientation : Vertical

Correct Marks : 1 Wrong Marks : 0.25

In addition to academic needs, following is required for adolescent students:

Options :

1. ✔ To Address emotional and motivational needs
2. ✖ To explain gender discrimination
3. ✖ To equip with latest teaching gadgets
4. ✖ Beautiful learning environment

Question Number : 195 Question Id : 162653198 Question Type : MCQ Option Shuffling : Yes Display Question Number : Yes
Single Line Question Option : No Option Orientation : Vertical

Correct Marks : 1 Wrong Marks : 0.25

अकादमिक जरूरतों के अलावा किशोरावस्था के छात्रों के लिए निम्नलिखित में से क्या आवश्यक है?

Options :

1. ✔ भावनात्मक और प्रेरक आवश्यकताओं को संबोधित करना
2. ✖ लिंग भेदभाव की व्याख्या करना
3. ✖ नवीनतम शिक्षण गैजेट के साथ लैस करना
4. ✖ सुंदर सीखने का माहौल

Question Number : 196 Question Id : 162653199 Question Type : MCQ Option Shuffling : Yes Display Question Number : Yes
Single Line Question Option : No Option Orientation : Vertical

Correct Marks : 1 Wrong Marks : 0.25

“Gender” is a social difference whereas “sex” is a:

Options :

1. ✔ Biological difference
2. ✖ Traditional difference

3. ✖ Cultural difference

4. ✖ Sensitive difference

Question Number : 196 Question Id : 162653199 Question Type : MCQ Option Shuffling : Yes Display Question Number : Yes
Single Line Question Option : No Option Orientation : Vertical

Correct Marks : 1 Wrong Marks : 0.25

"लिंग" एक सामाजिक अंतर है जब की "लिंग" एक _____ है।

Options :

1. ✔ जैविक अंतर

2. ✖ पारंपरिक अंतर

3. ✖ सांस्कृतिक अंतर

4. ✖ संवेदनशील अंतर

Question Number : 197 Question Id : 162653200 Question Type : MCQ Option Shuffling : Yes Display Question Number : Yes
Single Line Question Option : No Option Orientation : Vertical

Correct Marks : 1 Wrong Marks : 0.25

"Vocabulary development" is an essential component of:

Options :

1. ✔ Reading instructions

2. ✖ Listening skill

3. ✖ Writing skills

4. ✖ Language skills

Question Number : 197 Question Id : 162653200 Question Type : MCQ Option Shuffling : Yes Display Question Number : Yes
Single Line Question Option : No Option Orientation : Vertical

Correct Marks : 1 Wrong Marks : 0.25

"शब्दावली विकास" निम्न में से किसका एक आवश्यक घटक है?

Options :

1. ✔ निर्देश पढ़ना

2. ✖ सुनने का कौशल

3. ✖ लेखन कला

4. ✖ भाषा कौशल

Question Number : 198 Question Id : 162653201 Question Type : MCQ Option Shuffling : Yes Display Question Number : Yes
Single Line Question Option : No Option Orientation : Vertical

Correct Marks : 1 Wrong Marks : 0.25

The document that sets the standards of Curriculum is:

Options :

1. ✔ Curriculum frame work

2. ✖ Syllabus

3. ✖ Theory of curriculum

4. ✖ Organizational curriculum

Question Number : 198 Question Id : 162653201 Question Type : MCQ Option Shuffling : Yes Display Question Number : Yes
Single Line Question Option : No Option Orientation : Vertical

Correct Marks : 1 Wrong Marks : 0.25

दस्तावेज़ जो पाठ्यचर्या के मानकों को निर्धारित करता है वह है:

Options :

1. ✔ पाठ्यचर्या का ढांचा (फ्रेम वर्क)

2. ✖ पाठ्यक्रम

3. ✖ पाठ्यक्रम की सिद्धांत

4. ✖ संगठनात्मक पाठ्यक्रम

Question Number : 199 Question Id : 162653202 Question Type : MCQ Option Shuffling : Yes Display Question Number : Yes
Single Line Question Option : No Option Orientation : Vertical

Correct Marks : 1 Wrong Marks : 0.25

The real goal of education is:

Options :

1. ✖ Learning to learn

2. ✖ Get good prospects

3. ✓ Become good citizen

4. ✗ Gaining awareness

Question Number : 199 Question Id : 162653202 Question Type : MCQ Option Shuffling : Yes Display Question Number : Yes
Single Line Question Option : No Option Orientation : Vertical

Correct Marks : 1 Wrong Marks : 0.25

शिक्षा का असली लक्ष्य है:

Options :

1. ✗ सीखने का अभ्यास करना

2. ✗ अच्छी संभावनाएं पाना

3. ✓ अच्छे नागरिक बनना

4. ✗ जागरूकता प्राप्त करना

Question Number : 200 Question Id : 162653203 Question Type : MCQ Option Shuffling : Yes Display Question Number : Yes
Single Line Question Option : No Option Orientation : Vertical

Correct Marks : 1 Wrong Marks : 0.25

Visual and hearing impairment child comes under:

Options :

1. ✓ Special child

2. ✗ Handicapped child

3. ✗ Intellectually challenged child

4. ✗ Locomotor impaired child

Question Number : 200 Question Id : 162653203 Question Type : MCQ Option Shuffling : Yes Display Question Number : Yes
Single Line Question Option : No Option Orientation : Vertical

Correct Marks : 1 Wrong Marks : 0.25

जिसे दृश्य और श्रवण हानि हो ऐसा बच्चा किस श्रेणी के अंतर्गत आता है?

Options :

1. ✓ विशेष बच्चा

2. ✗ विकलांग बच्चा

3. ✖ बौद्धिक रूप से क्षीण बच्चा

4. ✖ लोकोमोटर क्षति से पीड़ित बच्चा